



التوجيه الفني العام للعلوم
اللجنة الفنية المشتركة للمرحلة الابتدائية

بنك أسئلة مادة العلوم
الصف الثالث الابتدائي
الفترة الأولى
2015-2014







الوحدة الأولى : علوم الحياة

الفصل الثاني : الحيوانات



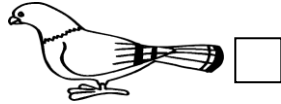

السؤال الأول : اختر الإجابة الصحيحة علمياً لكل من العبارات التالية بوضع علامة (✓) في

المربع المقابل لها:


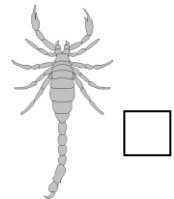

1- يساعده العنق الطويل على الوصول إلى أوراق الأشجار:



2- يساعدها الغشاء الجلدي الموجود بين أصابعها على السباحة :



3- حيوانات يحمي نفسه بطريقة التمويه :



السؤال الثاني : أكتبينا القوسين كلمة (صحيحة) للعبارة الصحيحة وكلمة (خطأ)

للعبارة غير الصحيحة في كل ما يأتي:

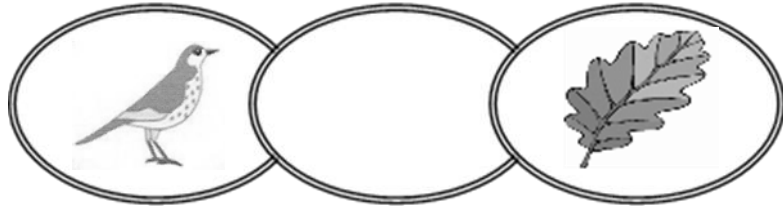
(.....) .

1- الأسماك لها قشور .




- 2- الزواحف لها جلد رطب املس . (.....)
- 3- الشرغوف له أربع قوائم . (.....)
- 4- تفقس بيضة الفراشة عن يرقة . (.....)
- 5- يركض العقرب بسرعة هرباً من اعداءه . (.....)

السؤال الثالث : أكمل كل من العبارات التالية بما يناسبها علمياً :-

1. يغطي جسم اللبون
2. تتحول العذراء داخل الشرنقة إلى
3. الموطن الطبيعي للسمكة هو
4. تدمير المواطن الطبيعية للحيوانات يعرضها لخطر
5. طاقة الشمس تساعد النباتات على صنع
6. اكمل السلسلة الغذائية التالية :




السؤال الرابع : في الجدول التالي اختر العبارة أو الشكل من المجموعة (ب) وأكتب رقمها أمام ما يناسبها من عبارات المجموعة (أ) :

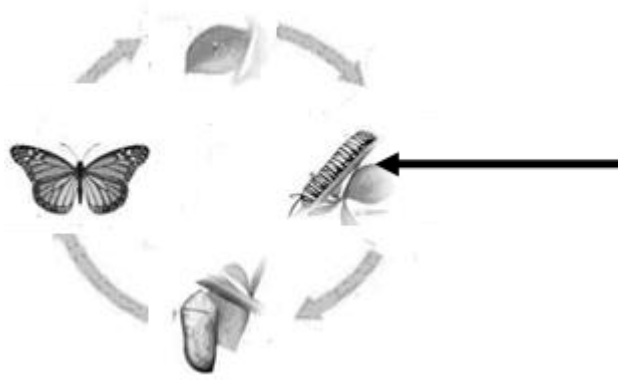
المجموعة (ب)	المجموعة (أ)	الرقم
  	<p>حيوان يغطي جسمه قشور ويعيش في الماء.</p> <p>حيوان يغطي جسمه ريش.</p>	<input type="checkbox"/> <input type="checkbox"/>

المجموعة (ب)	المجموعة (أ)	الرقم
<p>1. بيضة</p> <p>2. شرنقة</p> <p>3. عذراء</p>	<p>غلاف حول اليرقة</p> <p>يرقة محاطة بشرنقة</p>	<input type="checkbox"/> <input type="checkbox"/>

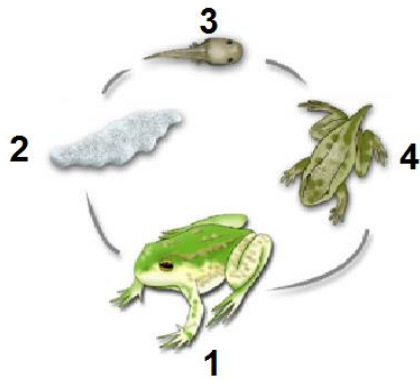
المجموعة (ب)	المجموعة (أ)	الرقم
----------------	----------------	-------

		<input type="checkbox"/> حيوان برمائي.
		<input type="checkbox"/> حيوان لبون.
		

السؤال الخامس : أكمل البيانات على الشكل الموضح أمامك :-



الصورة لدورة حياة فراشة .
اكتب اسم الحشرة المشار لها بسهم



الصورة لدورة حياة ضفدع
اكتب اسم الحيوان في رقم 3