



السؤال الأول : أكملني :


الاسم :

اختار مهارة (3) الأفتة الثالثة

R-DSCFT™

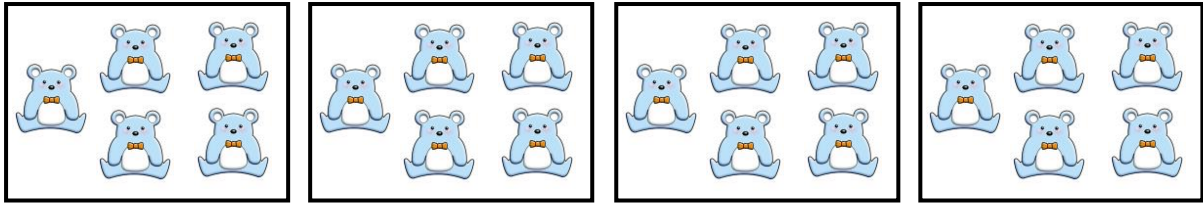
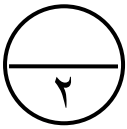
المركز الإقليمي لتطوير البرمجيات التعليمية

٥



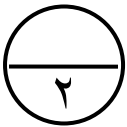
$$\square = \square + \square + \square$$

$$\square = \square \times \square$$



$$\square = \square + \square + \square + \square + \square$$

$$\square = \square \times \square$$



السؤال الثاني : أوجدني الناتج:

$$\square = 2 \times 9$$

$$\square = 5 \times 2$$

$$\square = 4 \times 8$$

$$\square = 7 \times 3$$

