

٥

السؤال الأول : استخدم التمثيل البياني بالصور للإجابة عن الأسئلة:

## الفاكهة المفضلة للتلميذات

☆ ☆ ☆ ☆ ☆



☆ ☆ ☆ ☆ ☆ ☆ ☆ ☆

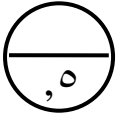


☆ ☆ ☆



كل ☆ تمثل ٢ صوت

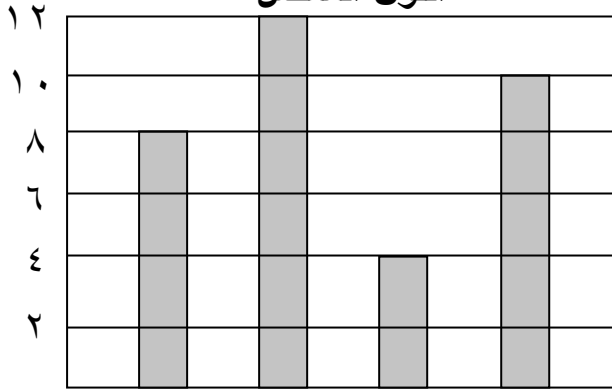
- ١- أي فاكهة حصلت على أكبر عدد من الأصوات؟.....
- ٢- أي فاكهة حصلت على أصوات؟.....
- ٣- أي فاكهة حصلت على أقل عدد من الأصوات؟.....



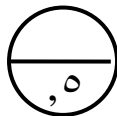
السؤال الثاني: استخدم التمثيل البياني بالأعمدة للإجابة عن الأسئلة:

(عدد التلميذات)

## اللون المفضل



- ١- ماذا يمثل كل عمود في التمثيل البياني؟  
.....
- ٢- ماذا تمثل الأعداد على يسار التمثيل؟  
.....
- ٣- كم عدد التلميذات اللاتي تفضلن اللون الأخضر؟.....



(الألوان) الأخضر الأصفر الأزرق الأحمر

السؤال الثالث: أكمل التمثيل البياني مستخدمة معطيات جدول علامات العد:

كل ○ تمثل  
تلميذتين

الأماكن المفضل زيارتها لدى التلميذات

الأماكن المفضل زيارتها لدى التلميذات

○ ○	زيارة الأقارب
	الحديقة العامة
	المدينة الترفيهية
	أماكن أخرى

	زيارة الأقارب
	الحديقة العامة
	المدينة الترفيهية
	أماكن أخرى

