

الاسم /

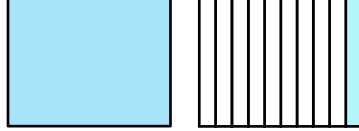
ورقة عمل للصف الثالث الابتدائي

الصف/3-

للفترة الدراسية الرابعة

منطقة مبارك الكبير التعليمية

مدرسة العدان أ.ب.


السؤال الاول :- اكتب العدد الكسري أو العدد العشري لتسمية الجزء المظلل:-

السؤال الثاني : اكتب كلا مما يلي في الصورة العشرية :-

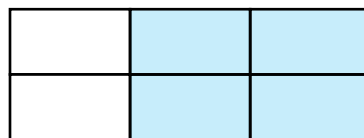
ثلاثة صحيح وجزءان من مئة

$$\boxed{} = \underline{34}$$

100

السؤال الثالث : ظلل ما يمثل رمز الكسر:-3

8

اكمل مايلي:-السؤال الرابع :-

$$\boxed{} = \underline{4}$$

3

6