
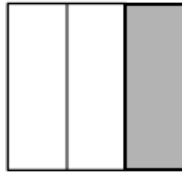


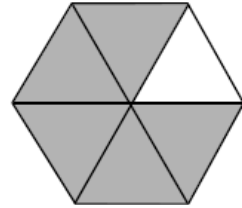
الإسم : الفصل : 3 /	ورقة عمل (2) لمادة الرياضيات العام الدراسي : 2015 / 2016م الصف : الثالث	الفترة الدراسية الرابعة منطقة مبارك الكبير التعليمية مدرسة : خالد المسعود أ / بنين
------------------------------------	---	--

السؤال الأول :

(أ) أكتب رمز الكسر الذي يمثل الأجزاء المظللة أو المحوطة في كل مما يلي :-








(ب) أكمل ما يلي :

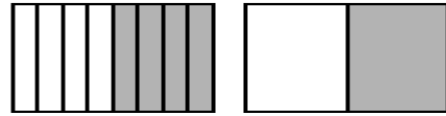
(2)

$$\frac{\boxed{}}{8} = \frac{2}{4}$$



(1)

$$\frac{\boxed{}}{8} = \frac{1}{4}$$

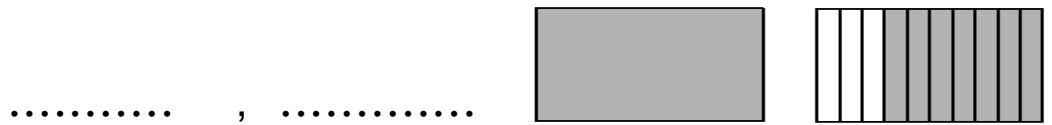


السؤال الثاني : أكمل :

(1) عدد الأجزاء المتطابقة في الشكل تساوي

(2) اكتب على صورة كسر عشري تسعة أعشار

(3) اكتب العدد العشري و العدد الكسري لتسمية الجزء المظلل



(4) استخدم شبكات الاعشار لتمثل العدد العشري 2, 3

مديرة المدرسة أ/ نورة العتيبي	رئيسة القسم أ/فاطمة الشطي	إعداد المعلمة ايمان محمد خليل
----------------------------------	------------------------------	----------------------------------