



التوجيه الفني العام للعلوم  
اللجنة الفنية المشتركة للمرحلة الابتدائية

بنك أسئلة مادة العلوم  
الصف الثالث الابتدائي  
الفترة الأولى  
2015-2014



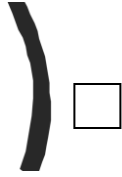

الوحدة الأولى : علوم الحياة

الفصل الأول : النباتات

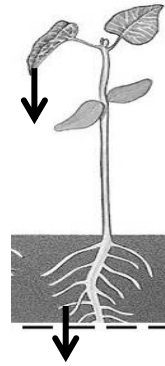

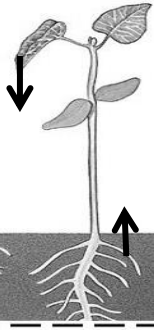
السؤال الأول : اختر الإجابة الصحيحة علمياً لكل من العبارات التالية بوضع علامة ( ✓ ) في

المربع المقابل لها:

1- جزء النبات الذي يثبتته في التربة:



2- الاتجاه الصحيح لنمو الجذور والأوراق هو :



3- نحصل عليه من النبات :



4- بذرة الهندباء البريه لها اهداب ريشية تساعدها على الانتشار عن طريق:

الحيوانات

التربه

الهواء

السؤال الثاني : أكتببينا القوسين كلمة ( صحيحة ) للعبارة الصحيحة وكلمة ( خطأ )

للعبارة غير الصحيحة في كل ما يأتي:

1- الجذور تثبت النبات في التربه . ( ..... )

1- الجذور تثبت النبات في التربه .

- 2- تنمو النباتات جيداً بعيداً عن الضوء .( ..... ) .
- 3- تنتشر البذور بطرق مختلفة .( ..... ) .
- 4- تتشابه الأوراق في شكلها .( ..... ) .
- 5- تصنع الأوراق المادة السكرية للنبات . ( ..... )

**السؤال الثالث : أكمل كل من العبارات التالية بما يناسبها علمياً :-**

1. تحتاج النباتات حتى تنمو إلى تربة و هواء و .....
2. الثمار تغلف وتحمي ال.....
3. الأهداب الريشية تساعد البذرة على الانتقال مع .....
4. تنتشر البذور مع الحيوانات لأن لها .....

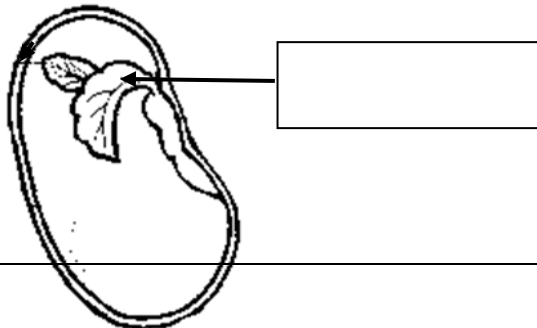
**السؤال الرابع : في الجدول التالي اختر العبارة أو الشكل من المجموعة ( ب ) وأكتب رقمها أمام ما يناسبها من عبارات المجموعة ( أ ) :**

الرقم	المجموعة ( أ )	المجموعة ( ب )
-------	----------------	----------------

1. الساق .	الجزء الذي يستخدم ضوء الشمس ليصنع مواد سكرية.	<input type="checkbox"/>
2. الاوراق .		<input type="checkbox"/>
3. الجذور.		

المجموعة ( ب )	المجموعة ( أ )	الرقم
1. بذور شوكية	تنتشر مع الهواء	<input type="checkbox"/>
2. بذور كبيرة		<input type="checkbox"/>
3. بذور جناحية		

السؤال الخامس: أكمل البيانات على الشكل الموضح أمامك: -



1- الصورة لبذرة اكتب الجزء المشار له بسهم

2 الصورة لنبات . اكتب اسم الجزء المشار له بسهم

