



وزارة التربية

التوجيه الفني العام للعلوم

اللجنة الفنية المشتركة للمرحلة الابتدائية

بنك أسئلة مادة العلوم
الصف الثالث الابتدائي
الفترة الثانية

2015-2014



السؤال الأول : اختر الإجابة الصحيحة علمياً لكل من العبارات التالية بوضع علامة (✓) في

المربع المقابل لها:


1- من وسائل المحافظة على النظافة




2- يساعد على بقاء الجسم سليماً :





3- يساعد على منع الجراثيم من دخول الجسم :



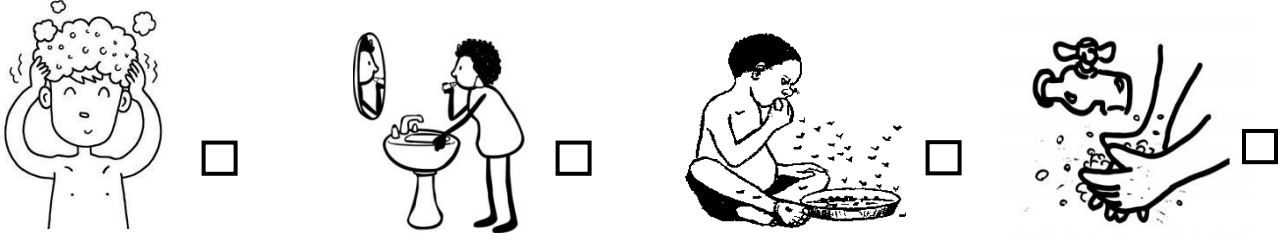
4- أحد الصور التالية تعتبر تمرين رياضي:



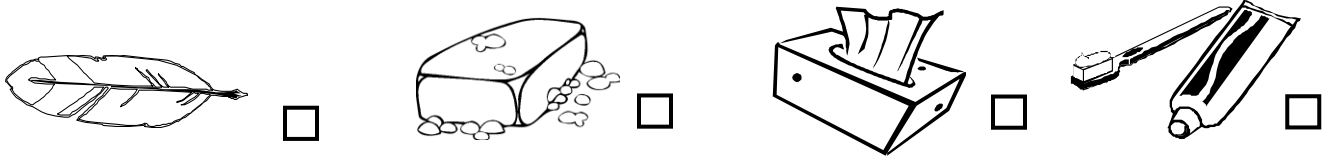
5- من طرق المحافظة على النظافة :



6- أحد التصرفات التالية تسبب انتقال الجراثيم للإنسان:



7- أي من الأدوات التالية تستخدم للمحافظة على نظافة الأسنان :



السؤال الثاني : أكتب بين القوسين كلمة (صحيحة) للعبارة الصحيحة وكلمة (خطأ)




للعبارة غير الصحيحة في كل مما يأتي:

- 1- تدخل الجراثيم أجسامنا عبر الجروح . (.....)
- 2- غسل اليدين قبل الأكل يقينا الأمراض . (.....)
- 3- التمرين الرياضي يساعد الجسم على البقاء سليماً . (.....)
- 4- الفحوصات الطبية المنتظمة تساعدنا على العناية بصحتنا . (.....)
- 5- الأوساخ تحت الأظافر تقينا الأمراض . (.....)

السؤال الثالث : أكمل كل من العبارات التالية بما يناسبها علمياً :-

1. يساعد التمرين الرياضي على بقاء جسمي سليماً مثل السباحة و
2. الجراثيم قد تسبب لنا
3. الجراثيم تدخل أجسامنا عبر الأنف أو
4. الدواء يساعد على مقاومة

السؤال الرابع : في الجدول التالي اختر العبارة أو الشكل من المجموعة (ب) وأكتب رقمها أمام ما يناسبها من عبارات المجموعة (أ) :

(ب)	(أ)	
 <p>-1</p>	1- يساعد على بقاء الجسم سليماً.	<input type="checkbox"/>
 <p>-2</p>	2- يساعد على منع الجراثيم من دخول الجسم.	<input type="checkbox"/>
 <p>-3</p>		