







اسئلة مراجعة

املئ الفراغات التالية بما يناسبها :

1- ما هي العناصر المكونة للدولة ؟

		
.....	.....	.....

2- اذكر اسماء السلطات في دولة الكويت؟

		
.....	.....	.....

3- من هو الرئيس الاعلى لدولة الكويت ؟

عرفي مفهوم الدولة ؟

.....

.....

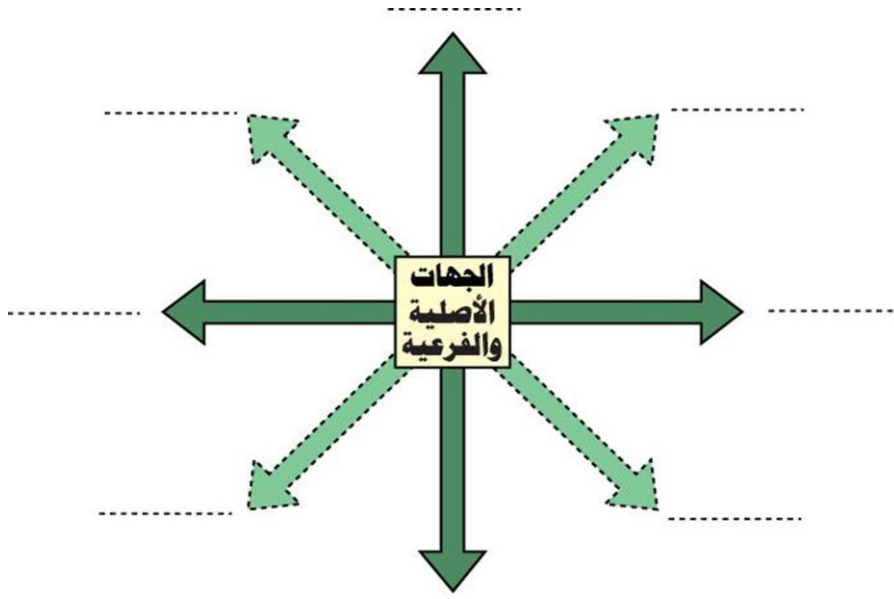
.....

مدبرة المدرسة أ. هدى الصالح	رئيسة القسم أ. لطيفة البطحاني	اعداد المعلمة أ. فجر الحساوي
--------------------------------	----------------------------------	---------------------------------

اسئلة مراجعة

املئ الفراغات التالية بما يناسبها :

1- حددي الجهات الاصلية و الفرعية على المخطط التالي:



2- عددي عناصر الخريطة ؟

.....	.....	.....	.....
-------	-------	-------	-------

3- ما الفائدة من الاتجاهات ؟

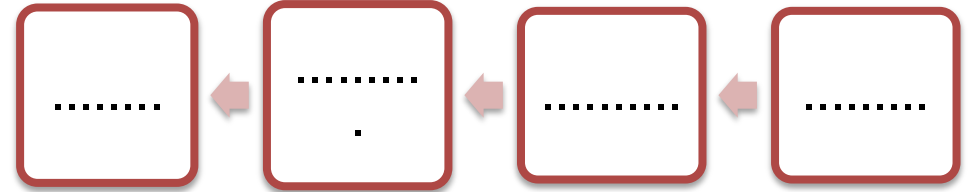
.....

.....

مدبرة المدرسة أ. هدى الصالح	رئيسة القسم أ. لطيفة البطحاني	اعداد المعلمة أ. فجر الحساوي
--------------------------------	----------------------------------	---------------------------------

اسئلة مراجعةاكملى العبارات التالية بما يناسبها :

- 1-تبلغ مساحة دولة الكويت .....  
 2- يعتبر ..... من اكبر الخيران في شمال الخليج العربي.  
 3- من مميزات سطح دولة الكويت:

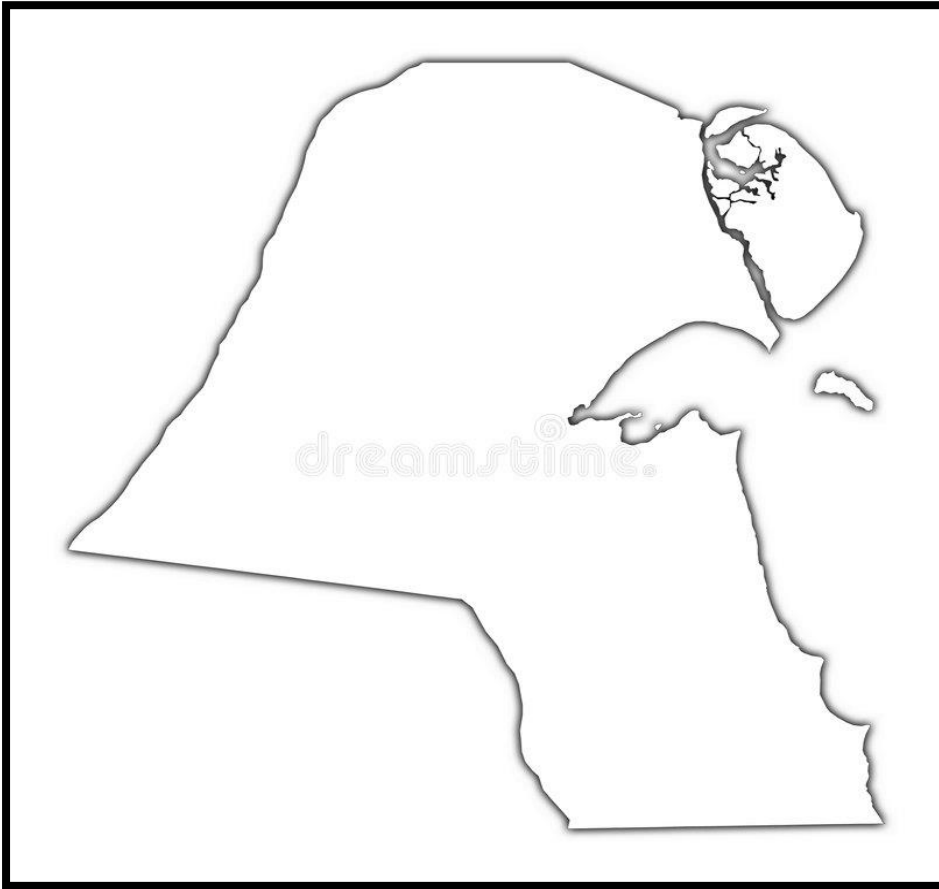


4-عرفى الخور؟

.....

اسئلة مراجعةحددي على خريطة دولة الكويت الصماء التى امامك مايلي :

- 1- دوله تحد دولة الكويت من جهة الشمال والشمال الغربي.  
 2- دولة تحد دولة الكويت من جهة الجنوب والجنوب الغربي  
 3- المسطح المائي الذي تطل عليه دولة الكويت

مديرة المدرسة  
أ. هدى الصالحرئيسة القسم  
أ. لطيفة البطحانيعداد المعلمة  
أ. فجر الحساويمديرة المدرسة  
أ. هدى الصالحرئيسة القسم  
أ. لطيفة البطحانيعداد المعلمة  
أ. فجر الحساوي

اسئلة مراجعة

اكملی العبارات التالية بما يناسبها :

- 1- عدد الجزر الكويتية .....
- 2- اكبر الجزر الكويتية مساحة هي جزيرة .....
- 3- الجزيرة الكويتية التي كانت مأهولة بالسكان هي .....
- 4- من الجزر التي تقع داخل جون الكويت هي جزيرة .....
- 5- الجزيرة تعني .....
- 6- الرأس هو .....

فرقي بين كل من الطقس و المناخ :

الطقس	المناخ
.....	.....
.....	.....
.....	.....

اكملی العبارات التاليه بما يناسبها :

- 1- تدور الارض حول الشمس كل .....
- 2- الفصول الاربعة هي ..... و .....
- 3- مناخ دولة الكويت مناخ .....
- 4- ترتفع درجة حرارة دولة الكويت في فصل .....
- 5- تنخفض درجة الحرارة في دولة الكويت في فصل .....

و تمتلك دولة الكويت العديد من الجزر و يبلغ عددها 9 جزر



حددي على خريطة دولة الكويت اسماء اشهر  
المظاهر التضاريسية في دولة الكويت



مديرة المدرسة  
أ. هدى الصالح

رئيسة القسم  
أ. لطيفة البطحاني

عداد المعلمة  
أ. فجر الحساوي

وزارة التربية

مدرسة لؤلؤه ملا صالح الربيعة أ.ب

الاسم : .....

اسئلة مراجعة

اكمل العبارات التالية بما يناسبها :

1- ينحدر سطح دولة الكويت تدريجيا من .....الى

.....

2- من المظاهر التضاريسية في دولة الكويت :



.....  
.....



.....  
.....



.....  
.....

3- عرفني كل من :

.....-التضاريس :

.....-السهل :

.....-الوادي :

.....-التل :

مديرة المدرسة  
أ. هدى الصالح

رئيسة القسم  
أ. لطيفة البطحاني

عداد المعلمة  
أ. فجر الحساوي