

ورقة عمل لمادة بلادي الكويت / الصف الرابع  
الوحدة الثانية: نشأة بلادي الكويت درس 1: قصة بلادي الكويت (1)

السؤال الثاني: أكتب تعليقاً مناسباً للصورة مما درست:



السؤال الأول: أكمل الفقرة التالية باختبار الكلمة الصحيحة من بين القوسين بوضع دائرة حولها:

نحن نعيش في دولة الكويت واسمها يعني تصغيراً لكلمة ( الكوت - القرن ) وهو

الحصن الصغير الذي يستخدم لـ ( تخزين - صناعة ) الأسلحة والمؤن، ولدولة الكويت

اسم قديم وشائع هو ( القصور - القرن ) لكنه اختفى تدريجياً.



ورقة عمل لمادة بلادي الكويت / الصف الرابع  
الوحدة الثانية: نشأة بلادي الكويت درس 3: حكام بلادي الكويت

السؤال الأول:

ضع علامة ( V ) أمام العبارات الصحيحة و علامة ( x ) أمام العبارات الخاطئة:

م	العبارة	العلامة
1	أول حاكم لبلادي الكويت هو الشيخ صباح بن جابر .	
2	أصبحت دولة الكويت أرضاً جاذبة للسكان لموقعها المميز وازدهار التجارة مع حكم آل الصباح .	
3	معركة الرقة العجوة حدثت في عهد الشيخ عبدالله الثاني .	
4	المدرسة الاحمدية افتتحت في عهد الشيخ جابر الاحمد .	
5	تحرر دولة الكويت حدث عام 1990م .	
6	لقب الشيخ جابر الاحمد بأمير الإنسانية .	

السؤال الثالث:  
صل بين مجموعتين برسم خط ينضم:



المدرسة المباركية



سور الكويت الثالث



القصر الأحمر

السؤال الثاني: لاحظ الصورة ثم اكتب الحدث التاريخي المدل عليهما:



ورقة عمل لمادة بلاوي الكويت / الصف الرابع  
الوحدة الثانية: نشأة بلاوي الكويت ورس 4: الاتفاقية الكويتية البريطانية عام 1899م

السؤال الأول: ضع علامة V في المربع الدال على صورة الشيخ مبارك الصباح :-

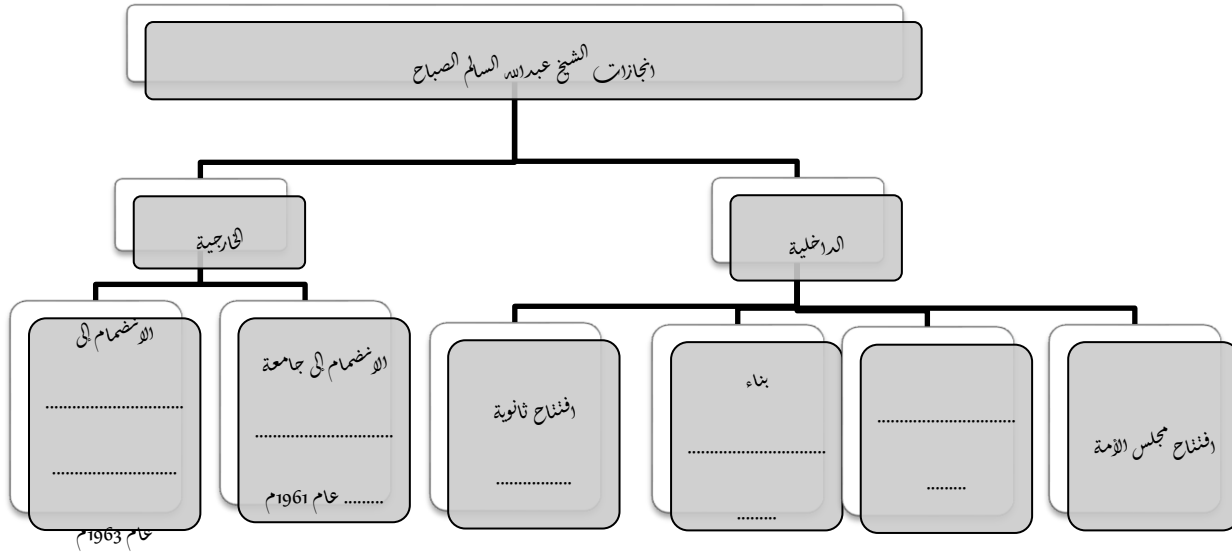


السؤال الثاني: صوب ما تحته خط في العبارات التالية:

م	العبارة	التصويب
1	أصبحت إمارة الكويت ذات مكانة قوية في عهد الشيخ محمد الصباح.	
2	لقب الشيخ مبارك الصباح بعدة ألقاب منها أبو الدستور.	
3	وقع الشيخ مبارك الصباح اتفاقية عام 1899م مع الهند.	
4	من شروط الاتفاقية الكويتية البريطانية 1899م التزام بريطانيا بحماية البحرين.	

ورقة عمل لمادة بلاوي الكويت / الصف الرابع  
الوحدة الثانية: نشأة بلاوي الكويت درس 5: استقلال بلاوي الكويت

السؤال الأول: ضع علامة V في المربع الدال على صورة الشيخ عبدالله السالم الصباح  
السؤال الثاني: أكمل المخطط السهمي التالي:



السؤال الثالث: رتب العبارات التالية لتكون التعريف الصحيح للاستقلال:-

( الدخلية و - مسؤولية الدولة - ادارة شؤونها - الخارجية - بصورة مباشرة عن )

الاستقلال هو .....

السؤال الرابع: املأ الفراغات التالية بما يناسبها فيما درست:


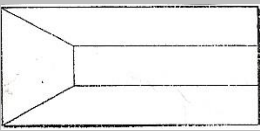
رغب الشيخ عبدالله السالم في تحويل إمارة الكويت إلى دولة ..... ، وكان أهم شروط ذلك إلغاء اتفاقية ..... لتغيير الظروف و سير إمارة الكويت نحو ..... فوقع الشيخ عبدالله السالم مع المقيم البريطاني اتفاقية ..... ، وبذلك حصلت دولة الكويت على استقلالها في تاريخ ..... ولقب الشيخ عبدالله السالم بـ .....

ورقة عمل لمادة بلادي الكويت / الصف الرابع  
الوحدة الثانية: نشأة بلادي الكويت درس 6: رموز بلادي الكويت (1)

السؤال الأول: من خلال دراستك للنشيد الوطني الكويتي - كون فقرة مناسبة باستخدام الكلمات التالية :-

( 25 فبراير 1978م - الشيخ جابر الاحمد الصباح - احمد العدواني - ابراهيم الصولة )

السؤال الثالث: قارن بين كل من:

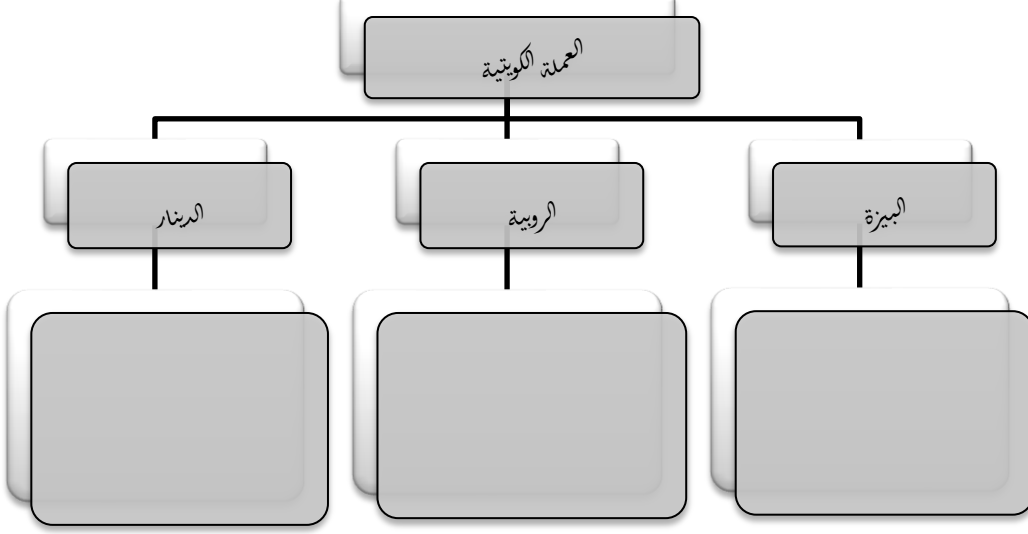
العلم القديم	العلم الحديث
	
أوجه المقارنة	
الشكل و اللون	
سنة الاستخدام	

السؤال الثاني: علل :-

أهمية النشيد الوطني للدولة .

ورقة عمل لمادة بلاوي الكويت / الصف الرابع  
الوحدة الثانية: نشأة بلاوي الكويت درس 7: رموز بلاوي الكويت (2)

السؤال الثاني: أكمل المخطط السهمي التالي بكتابة معلومات مهمة عنها:



السؤال الثالث: اكتب على الأسئلة التالية بمساعدة الصورة:-



- لون شعار دولة الكويت .
- ما هي مكونات الشعار؟
- ما أهمية الشعار لدولة الكويت؟

السؤال الأول: رتب شعارات دولة الكويت التالية زمنياً ثم أكمل المعلومات المرتبطة بها:-

( 1940م - 1962م - 1921م - أحمد الجابر - عبدالله السالم )

الشعار .....

• اعتمد في عام .....

• في عهد الشيخ .....

الشعار .....

• اعتمد في عام .....

الشعار .....

• اعتمد في عام .....

• في عهد الشيخ .....

• استخدم بعد الاستقلال

ورقة عمل لمادة بلاوي الكويت / الصف الرابع  
الوحدة الثانية: نشأة بلاوي الكويت درس 8: سكان بلاوي الكويت

السؤال الثاني: صل بين المجموعتين برسم خطاً بينهما:

عدد السكان  
مساحة الدولة

الزيادة الطبيعية

عدد المواليد - عدد الوفيات

الزيادة غير الطبيعية

الزيادة الناتجة عن الهجرة

الكثافة السكانية

السؤال الأول: ظلل الخيار الصحيح من بين الخيارات التي تلي كل عبارة :-

1- عدد سكان دولة الكويت في بداية نشأتها كان لا يتجاوز:

4 آلاف نسمة	5 آلاف نسمة	6 آلاف نسمة	7 آلاف نسمة
-------------	-------------	-------------	-------------

2- زاد عدد سكان دولة الكويت بعد ظهور و تصدير:

الزبد	الكالسيوم	النفط	الماء
-------	-----------	-------	-------

3- عدد سكان دولة الكويت الحالي يبلغ حوالي:

2,200,000 نسمة	3,300,000 نسمة	4,400,000 نسمة	5,500,000 نسمة
----------------	----------------	----------------	----------------

السؤال الرابع: اجب على الاسئلة التالية:

1- ما فائدة التعداد السكاني؟

2- حلل: عدد الذكور أكثر من عدد الإناث في دولة الكويت.

3- أكتب ما تعرف عن أول تعداد سكاني في دولة الكويت.

السؤال الثالث: ضع إشارة < أو > في الدائرة:

1- عدد السكان الذكور  عدد السكان الإناث في دولة الكويت.

2- عدد السكان الكويتيين  عدد السكان الأجانب في دولة الكويت.

اعداد المعلمة: زينب بن غني



ورقة عمل لمادة بلاوي الكويت / الصف الرابع  
الوحدة الثانية: نشأة بلاوي الكويت درس 9: محافظات بلاوي الكويت

السؤال الثاني: لاحظ خريطة محافظات دولة الكويت الصماء ثم نفذ المطلوب:

- لون محافظة الجهراء باللون الوردى
- لون محافظة الاحمدي باللون الازرق
- لون محافظة الفروانية باللون الاصفر
- لون محافظة العاصمة باللون الاخضر البنفسجى
- لون محافظة مبارك الكبير باللون
- لون محافظة حويي باللون البرتقالى



اعداد المعلمة: نونى بن حجي رئيس

السؤال الاول: اختر من المجموعة (ب) ما يرتبط بالمجموعة (أ) بوضع الرقم في المكان المناسب:

(أ)	(ب)
1- أكبر محافظة كويتية.	( ) الاحمدي
2- اصغر محافظة كويتية.	( ) حويي
3- أكثر محافظة كثافة سكانية	( ) العاصمة
4- يتركز الكويتيون في محافظة	( ) الجهراء
5- أحدث محافظة كويتية	( ) مبارك الكبير
6- محافظة توجد فيها المقار الرئيسية للحكم.	( ) الفروانية

السؤال الاول: ظلل الخيار الصحيح من بين الخيارات التي تلي كل عبارة :-

1- يبلغ عدد محافظات دولة الكويت :

4 محافظات	5 محافظات	6 محافظات	7 محافظات
-----------	-----------	-----------	-----------

2- الجزر الكويتية تتبع إداريا محافظة :-

العاصمة	الجهراء	حويي	الاحمدي
---------	---------	------	---------