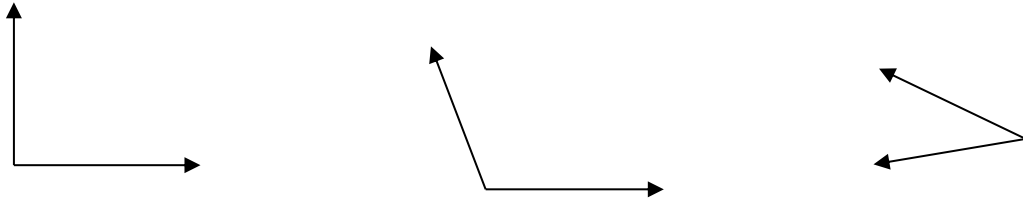
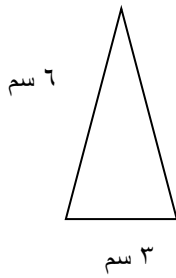


صنفي كلا من الزوايا الآتية من حيث النوع : حادة او قائمة او منفرجة. ثم قيسي كلا منها مستعين

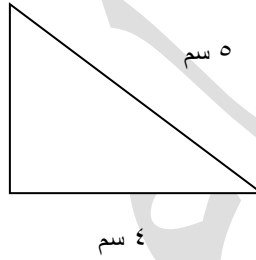


ما نوع كل مثلث حسب اضلاعه:



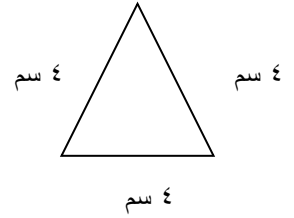
6 سم

3 سم



5 سم

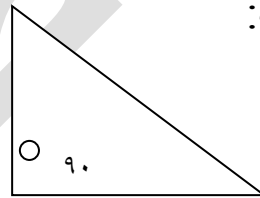

4 سم



4 سم

4 سم

4 سم



90



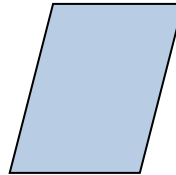
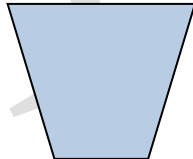

120

30

30

ما نوع كل مثلث حسب زواياه:

اذكري اسم كل من الأشكال الآتية:



صممت نورة تصميم لمنزل و استخدمت فيه رباعيا فيه كل ضلعين كتقابلين متوازيان و متساويان طولاً و زواياه الأربعة قائمة. ما الشكل الذي استخدمته نورة؟-----