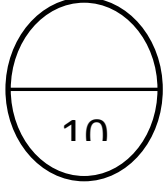


المادة : رياضيات الفترة الدراسية الرابعة

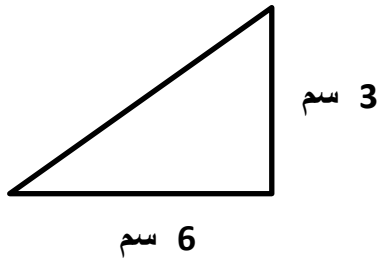
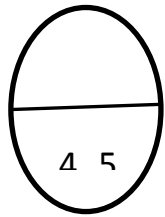
الاسم : العام الدراسي : 2015 – 2016 م منطقة مبارك الكبير التعليمية

الصف : الصف : الخامس مدرسة عائشة الشريف

السؤال الأول :-



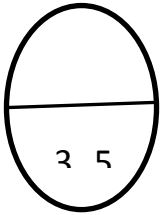
أوجد مساحة المثلث الذي أمامك :



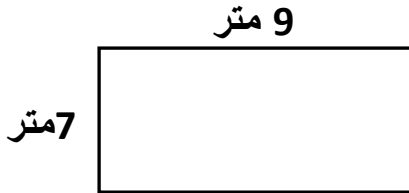
المساحة =

_____ =

السؤال الثاني :-



احسب مساحة المنطقة المستطيلة :



المساحة = _____ × _____

_____ =

السؤال الثالث :-

اختر الإجابة الصحيحة مما يلي :

(1) 5 دسم =

50 مم

50 م

50 سم

2

(2) 6 م و 45 سم =

45.6 م

6.45 م

6.45 سم

اعداد المعلمة : نعمات محمد