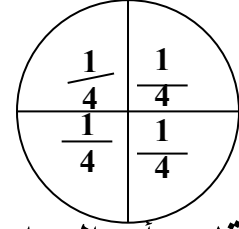
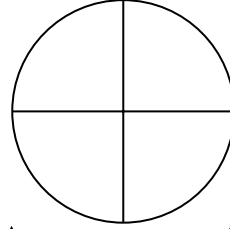
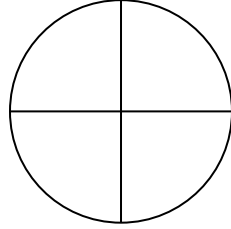


## ورقة عمل للصف الخامس



3-22

تقطع كل فطيرة كبيرة الى أربع . كم عدد الأرباع التي تحصل عليها إذا قطعت 3 فطائر كبيرة ؟  
باستخدام الرقائق



تبين الرقائق أن الدوائر تتضمن 12 ربعاً

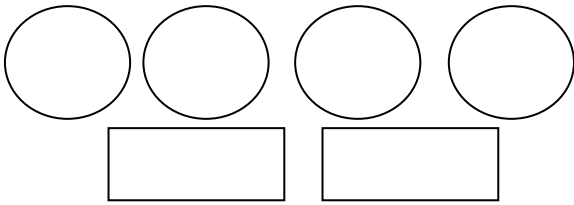
$$12 \div 3 = 4$$

المعلومات

مساعدة رياضية :  
نفكر كم ثلثاً في الواحد؟  
3 أثلاث  
إذا تكرر الثلاثة أثلاث  
6مرات فنحصل على الناتج  
وهو 18




أكمل الرسومات لتجد ناتج قسمة .....



كم في العدد  $\frac{1}{2}$  العدد 4 ؟

كم في العدد  $\frac{1}{3}$  العدد 2 ؟

أوجد ناتج قسمة كل مما يلي :-



$$\frac{\quad}{3} = 1 \div 6 \quad (1)$$

$$\frac{\quad}{10} = 1 \div 8 \quad (2)$$