

قسم الاجتماعيات  
العام الدراسي ٢٠١٥ / ٢٠١٦ م  
الفترة الرابعة - الصف الخامس

وزارة التربية  
منطقة مبارك الكبير التعليمية  
مدرسة الامام الشافعي الابتدائية بنين

# بنك الأسئلة

يشمل موضوعات :

- السكان في بلادي ( ١ )
- السكان في بلادي ( ٢ )
- من موارد وحرف بلادي قديماً
- موارد بلادي حديثاً ( ١ )
- موارد بلادي حديثاً ( ٢ )
- من مؤسسات بلادي
- من هيئات بلادي
- السياحة الداخلية والخارجية

ملحوظة : الأسئلة للمرجعة والتدريب ، ولا تغني عن الكتاب المدرسي

اعداد المعلم / محمد صابر

مدير المدرسة

أ/ فهد المطيري

الموجه الفني

أ/ عبدالله العتيبي

رئيس القسم

أ/ رضا القطان

أنا قدها



" رَبِّ اشْرَحْ لِي صَدْرِي  
وَيَسِّرْ لِي أَمْرِي وَاحْلُلْ عُقْدَةً  
مِنْ لِسَانِي يَفْقَهُوا قَوْلِي "

س : أكمل الجمل التالية بما يناسبها:

١. أقل المحافظات الكويتية سكاناً محافظة تسمى .....
٢. يمثل النفط ومنتجاته من مجموع الصادرات الكويتية ما نسبته .....%
٣. عرف الميناء عند أهل الكويت قديماً باسم .....
٤. أول وأكبر ميناء تجاري في دولة الكويت يسمى .....
٥. أهم مناطق تربية الثروة الحيوانية في دولة الكويت الصليبية و .....

س : اختر الإجابة الصحيحة من بين البدائل التالية بوضع خط تحتها:

- ١- أكثر المحافظات الكويتية سكاناً محافظة تسمى : .....
- أ. (الجهراء) ب. (الأحمدي) ج. (الفروانية) د. (حولي)
- ٢- يمثل احتياطي النفط بدولة الكويت بالنسبة للدول العربية ما نسبته : .....
- أ. (٥%) ب. (١٥%) ج. (٢٥%) د. (٣٥%)
- ٣- توجد محطة التجارب الزراعية في منطقة تسمى : .....
- أ. (العمرية) ب. (الصبية) ج. (العبدلي) د. (الصليبية)
- ٤- تم تأسيس ميناء الشويخ عام : .....
- أ. (١٩٣٠م) ب. (١٩٤٠م) ج. (١٩٥٠م) د. (١٩٦٠م)
- ٥- تتبع جزيرة فيلكا محافظة كويتية تسمى : .....
- أ. (حولي) ب. (العاصمة) ج. (الجهراء) د. (الأحمدي)



## أنا قد التحدي

س : علل لما يلي ( اذكر السبب ) :

١ . اختفاء مهنة الغوص على اللؤلؤ .

.....\*

٢ . تزايد عدد السكان من عام لآخر .

.....\*

٣ . يفوق عدد الذكور عدد الإناث في دولة الكويت .

.....\*

٤ . اهتمت دولة الكويت بتنوع موارد الدخل .

.....\*

٥ . تميز ميناء الشعبية بتصدير منتجات النفط الصناعية .

.....\*

٦ . نجحت زراعة الفراولة في دولة الكويت .

.....\*

٧ . أهمية الثروة الحيوانية كمورد اقتصادي .

.....\*



من يساعدني .. ؟

س : أكتب نقطتين فيما يلي :

١- الخدمات التي توفرها الدولة للمواطنين .

أ- .....  
ب- .....

٢- أشهر أنواع الأسماك في دولة الكويت .

أ- .....  
ب- .....

٣- أهم الأماكن السياحية والترفيهية في دولة الكويت .

أ- .....  
ب- .....

٤- معوقات الزراعة في دولة الكويت .

أ- .....  
ب- .....

٥- جهود الدولة في تنمية الثروة السمكية .

أ- .....  
ب- .....



س : عرف المفاهيم التالية :

١. الكثافة السكانية :

.....  
.....

٢. الاستثمار :

.....  
.....

٣. مؤسسة الموانئ الكويتية :

.....  
.....

٤. السياحة :

.....  
.....

اللهم إني أسألك فهم  
النبيين وحفظ الملائكة  
المقربين



س: فرق بين كل من :

الزراعة بدون تربة	الزراعة المحمية
.....	.....
.....	.....


س: قارن بين كل من (الزيادة الطبيعية - الزيادة غير الطبيعية) حسب الجدول التالي :

الزيادة غير الطبيعية	الزيادة الطبيعية	وجه المقارنة
.....	.....	التعريف
..... -١	..... -١	الأسباب
..... -٢	..... -٢	

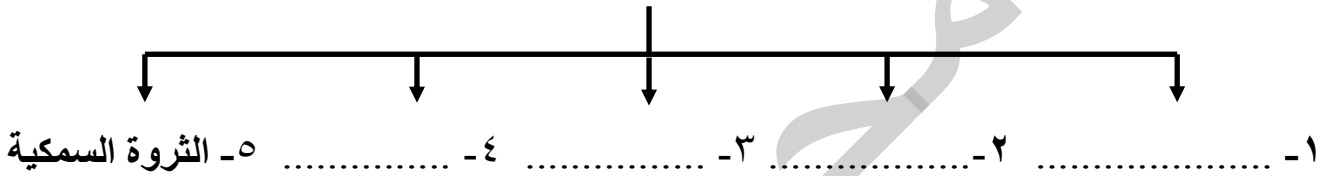


# فكر مع بطوط

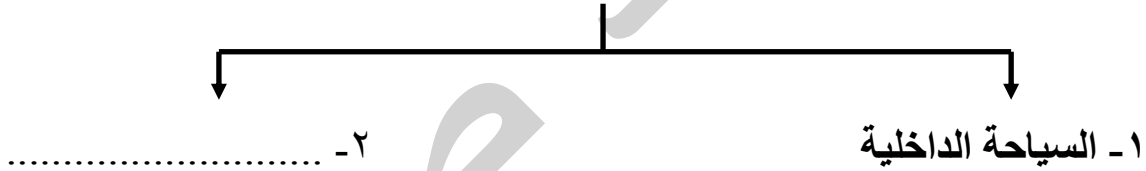
س : أكمل المخططات السهمية التالية :



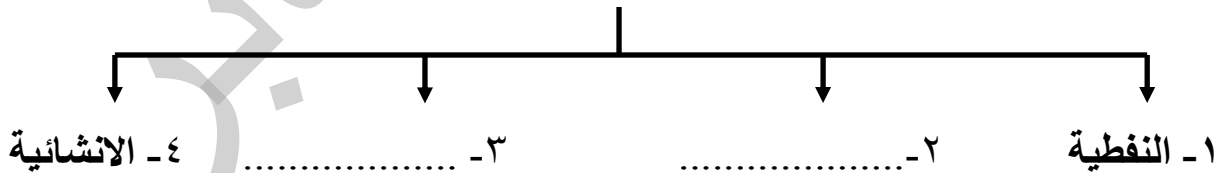
(١) أهم مصادر الدخل في دولة الكويت



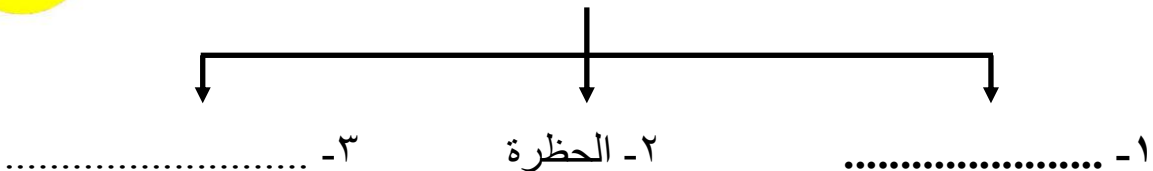
(٢) أنواع السياحة

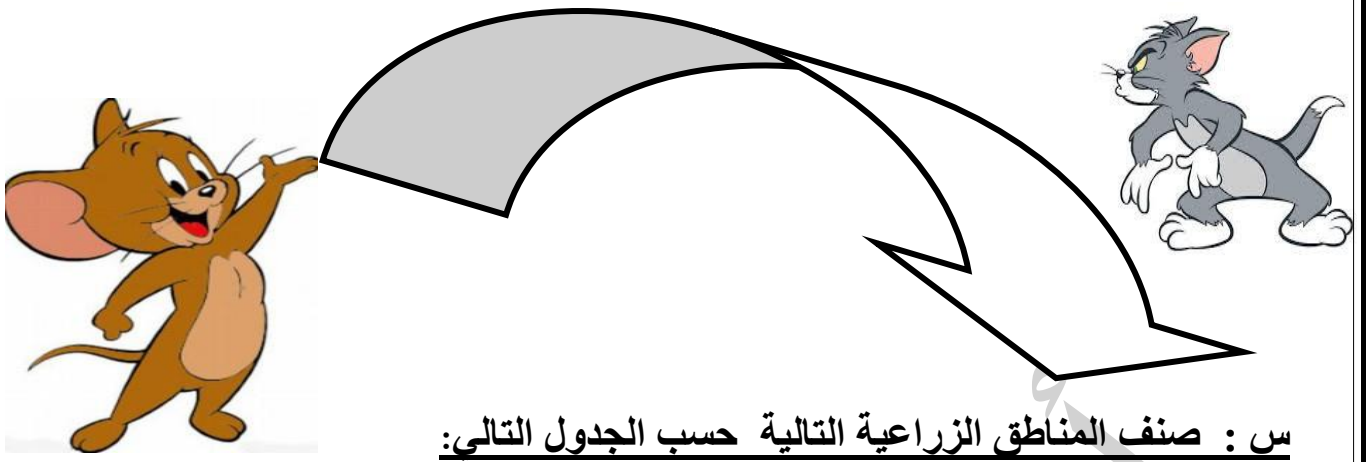


(٣) أهم أنواع الصناعات في دولة الكويت



(٤) وسائل وأدوات صيد الأسماك





س : صنف المناطق الزراعية التالية حسب الجدول التالي:

\* الوفرة \* الجهراء \* الفنتاس \* الصبية \* العبدلي \* أبو حليفة

مناطق زراعية حديثة	مناطق زراعية قديمة ( قبل النفط )
١ - .....	١ - .....
٢ - .....	٢ - .....
٣ - .....	٣ - .....

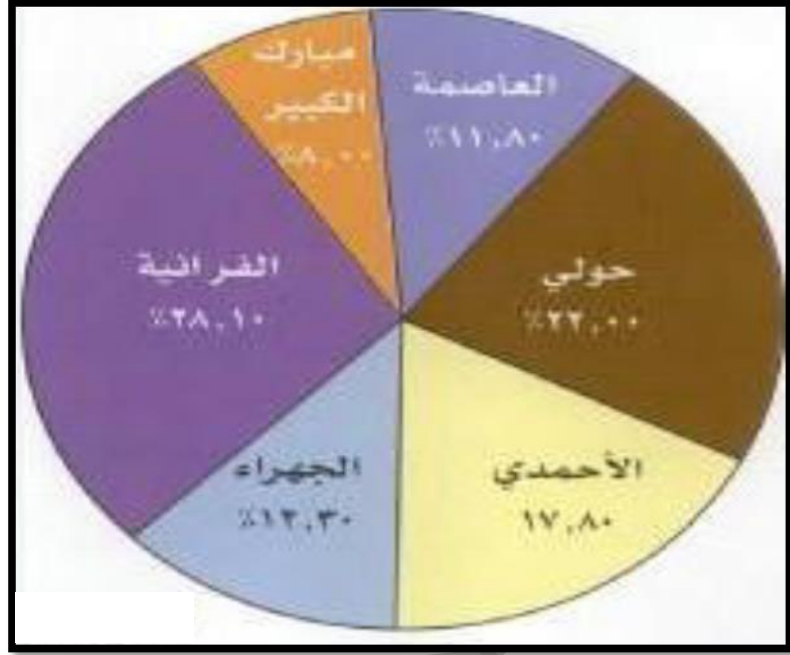
س : صنف الأهداف التالية حسب الجدول الذي يليها:

- حماية البيئة من التلوث - تطوير الصناعة المحلية - بناء الشباب الكويتي روحاً وجسداً  
- تشجيع العمالة الوطنية - تنظيم المهرجانات والمسابقات - المحافظة على البيئة الطبيعية

الهيئة العامة للشباب والرياضة	الهيئة العامة للبيئة	الهيئة العامة للصناعة
١ - .....	١ - .....	١ - .....
٢ - .....	٢ - .....	٢ - .....

س : رتب المحافظات الكويتية ترتيباً تنازلياً (من الأكبر الى الأصغر) حسب نسبة السكان:

أنا بطل



.....-٦	.....-٥	.....-٤	.....-٣	.....-٢	.....-١
---------	---------	---------	---------	---------	---------

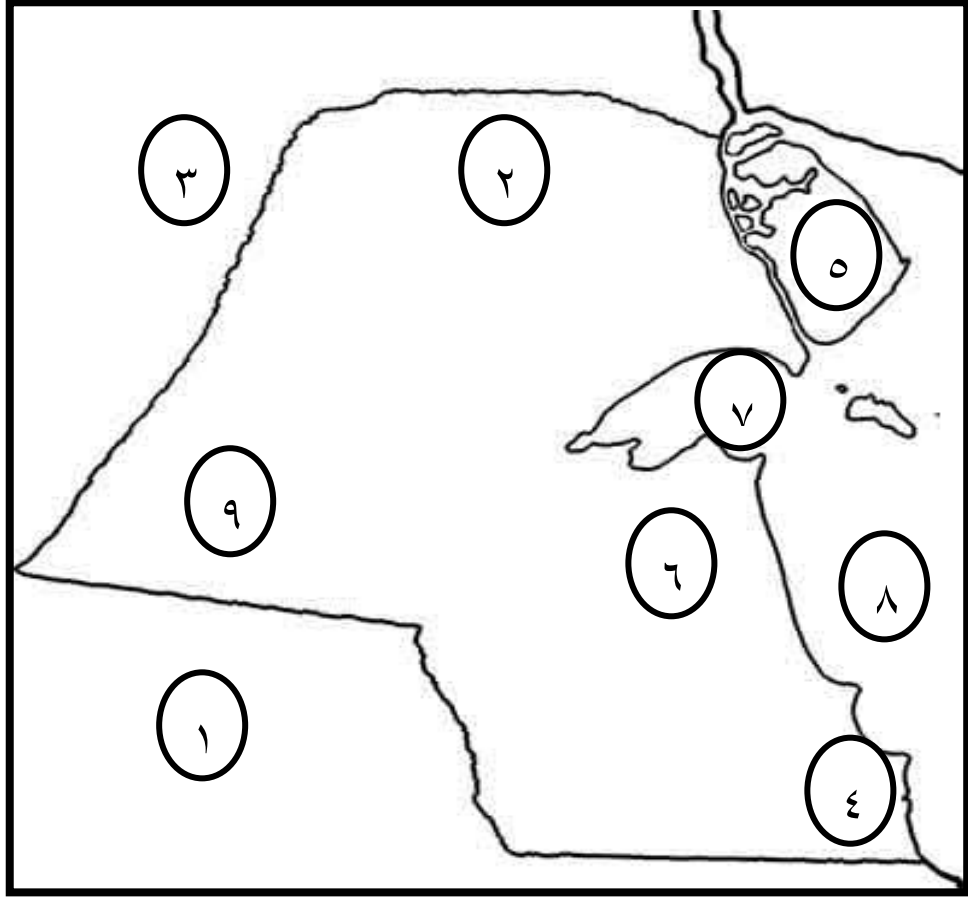
س : اختر من المجموعة ( أ ) ما يناسبها من المجموعة ( ب ) بكتابة الرقم المناسب :

م	المجموعة ( أ ) الشركة	الرقم المناسب	المجموعة ( ب ) مهمتها
١	شركة نفط الكويت	.....	مسؤولة عن نقل النفط ومنتجاته الى دول العالم
٢	شركة ناقلات النفط الكويتية	.....	مهمتها تصنيع وتسويق الأسمدة والمنتجات البتروكيمياوية
٣	شركة التنمية النفطية	.....	مسؤولة عن استكشاف النفط ونتاجه
٤	شركة صناعة الكيماويات البترولية	.....	





س : لاحظ خريطة الكويت "الصماء" جيدا ، ثم أجب عما يليها من الاسئلة:



- منطقة صباحان الصناعية تحمل على الخريطة رقم.....
- جزيرة بوبيان تحمل على الخريطة رقم .....
- ميناء الزور يحمل على الخريطة رقم.....
- منطقة العبدلي الزراعية تحمل على الخريطة رقم .....
- الخليج العربي يحمل على الخريطة رقم.....
- المملكة العربية السعودية تحمل على الخريطة رقم .....
- ظلل جزيرة فيلكا على الخريطة .





## من جد وجد ومن زرع حصد

س : أكمل الجدول التالي :

جهود الدولة في تشجيع قطاع الثروة الحيوانية	جهود الدولة في تشجيع القطاع الزراعي	جهود الدولة في تشجيع القطاع الصناعي
١- .....	١- .....	١- .....
.....	.....	.....
٢- .....	٢- .....	٢- .....
.....	.....	.....

" اللهم إني استودعتك  
ما قرأت وما حفظت  
وما تعلمت , فرده لي  
عند حاجتي إليه "



\* مع تمنياتنا للجميع بدوام النجاح والتوفيق \*