

## امرحي مع الاجتماعيات للصف السادس

**ص77- ص87**

**نشاط(1): اكتبى المصطلح العلمى الدال على العبارات التالية:**

1- (.....) تحويل المواد الخام الى مواد مصنعه يمكن الاستفادة منها.

2- (.....) اعادة تصدير البضائع المستوردة.

3- (.....) هي الزراعه التي تتم في بيئه مائيه او رملية او حصى او نشارة خشب تضاف اليها المحاليل الغذائية.

4- (.....) يزرع فيها الخضروات في غير مواسمها وتقوم بحمايه المحاصيل من تقلبات الطقس.

**نشاط(2): اكملى الجدول التالى بما هو مطلوب منك:**

العام	الحدث
	بدأ التنقيب عن النفط في دولة الكويت
	اول شحنه تم تصديرها للخارج



**نشاط(3): ضعى الحقول النفطية التالية في اماكنها الصحيح فيما يلى: (بحره - برقان - دخان - الغوار )**

1- اكبر حقل نفطي في دول الخليج العربيه يسمى .....

2- اول حقل نفطي تم اكتشافه في دولة الكويت يسمى .....

3- حقل نفطي يقع في دولة قطر يسمى .....

**نشاط(4): لاحظى الصور التالية ، ثم اكتبى اسفل كل مجموعه منهم عبارته مناسبه:**



(.....) (.....)

**نشاط(5): فرقى فيما يلى من حيث التعريف:**

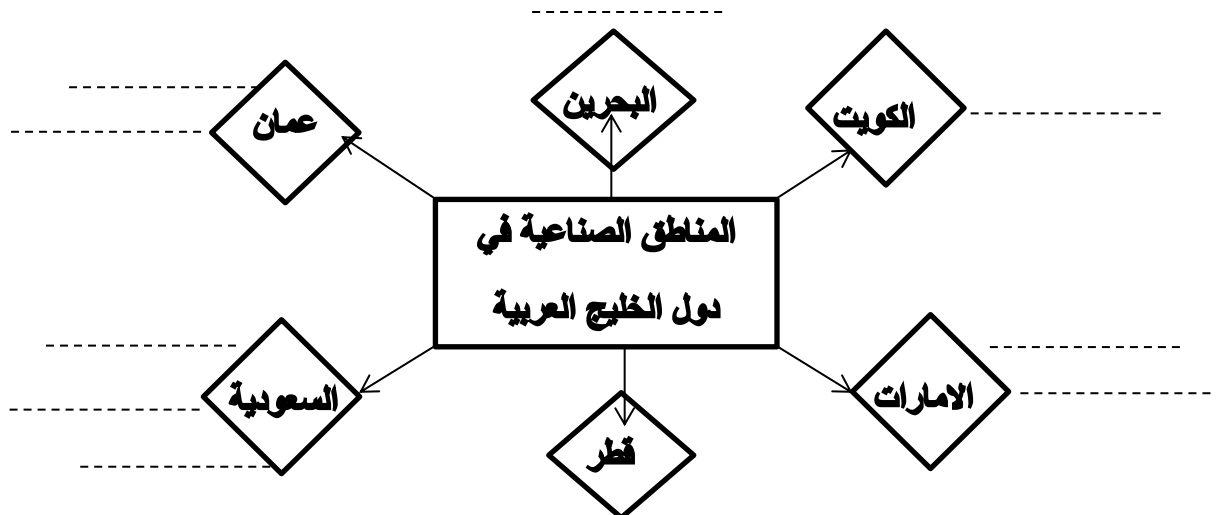
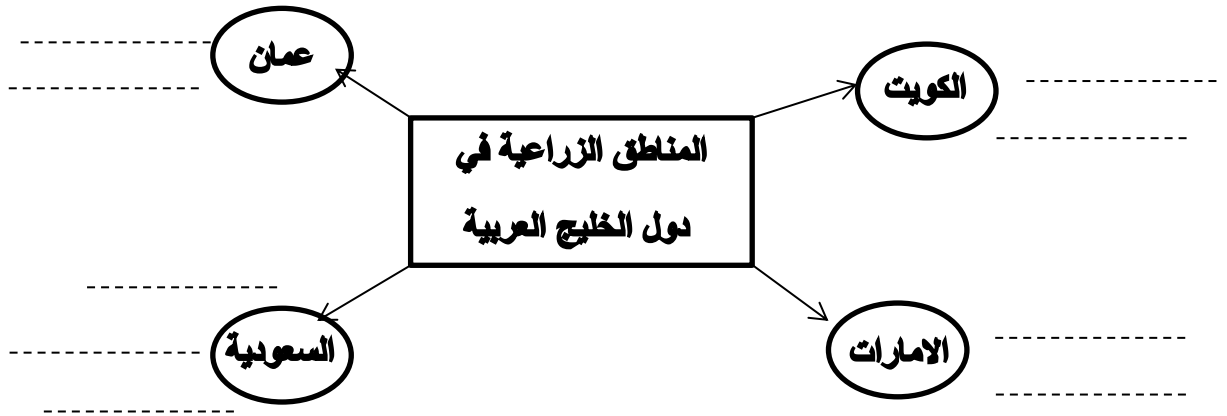
احتياطي النفط	انتاج النفط
واردات	صادرات

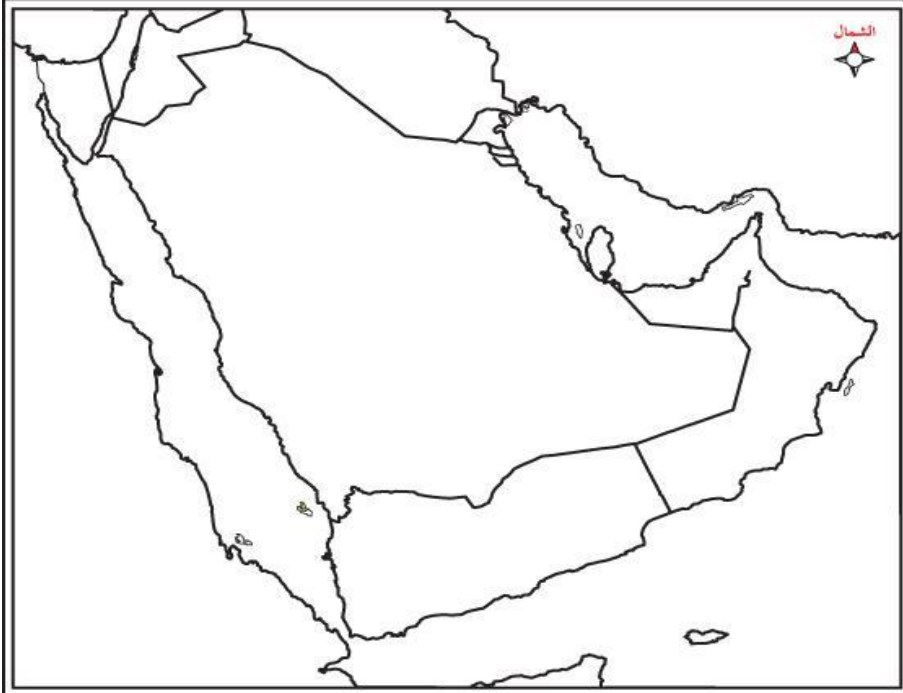
نشاط(6): على لما يلي: قيام العديد من الموانئ النفطية في دول الخليج العربية.

نشاط(7): اكمل الجدول التالي بما هو ناقص:

موانئ نفطية	حقول نفطية	الدولة
.....	.....	الكويت
راس الخفجي/ راس تنورة	بقيق/ خريص/ الغوار	.....
.....	.....	قطر
جبل الظنة/ جزيرة ام الشيف/ جزيرة حالول	العصب/ مربان / بوحصا	.....
.....	.....	البحرين
الفحل	ناطح/ خوير/ بايل	.....

نشاط(8): اكمل الخرائط الذهنية فيما يلي:





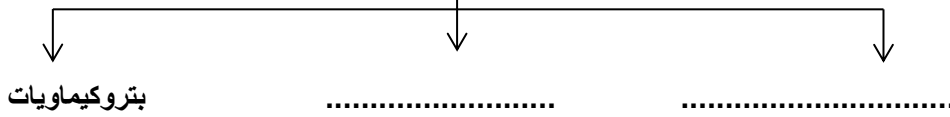
**نشاط(9): لاحظ خريطة دول الخليج العربية**

الصماء امامك، ثم حددي عليها ما هو مطلوب منك :

- 1- منطقة الشعبية الصناعية بالرمز ●
- 2- منطقة الجبيل الصناعية ◆
- 3- منطقة سهل الباطنة الزراعية ▲

**نشاط (10): اكمل المخطط السهمي التالي:**

اهم انواع الصناعات القائمة على النفط




**نشاط(11): عددي جهود حكومات دول الخليج العربية لزيادة انتاج المحاصيل الزراعية ؟**

- 1- .....
- 2- .....
- 3- .....

**نشاط(12): اكمل رسم الدائرة البيانية فيما يلي:**

نسبة انتاج الامارات للنفط ( 8% )



**نشاط ختامي: اسمي اثنين من انواع المحاصيل الزراعية في دول الخليج العربية؟**

--	--