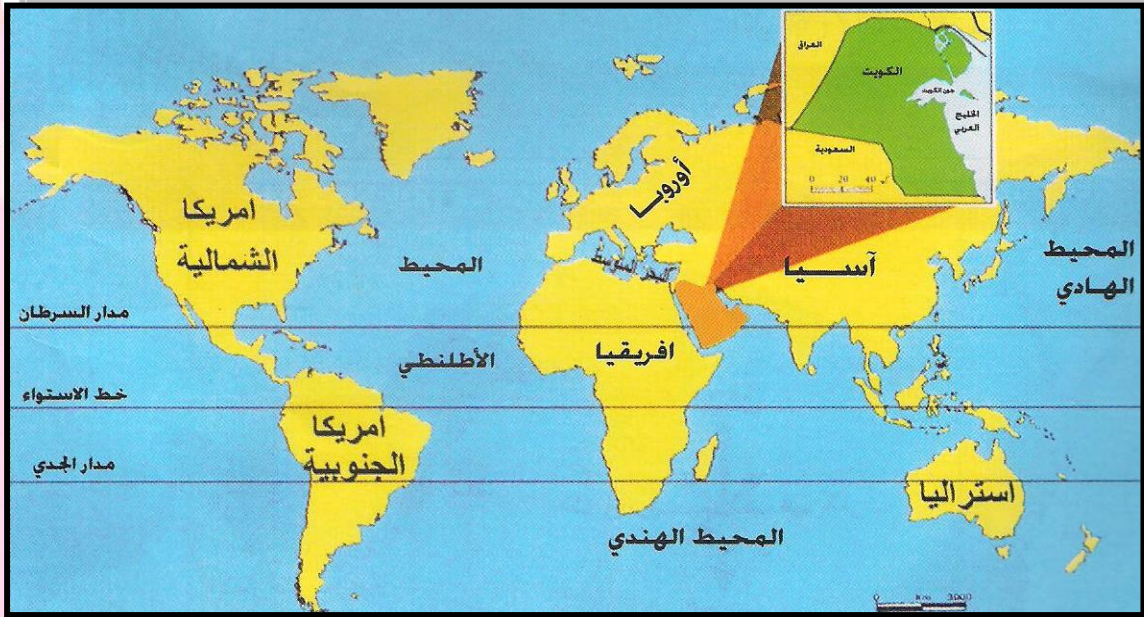


الوحدة الأولى: دول الخليج العربية تتأثر ببيئتها الصحراوية والبحرية.

(أ) دول الخليج العربية بين الصحراء والبحر - الموقع

• أنظر الخريطة التالية ثم أجب عن الأسئلة التي تليها:



1. شبه الجزيرة العربية تقع في أقصى جنوب غرب قارة تسمى.....
 2. شبه الجزيرة العربية تشغل دوائر عرض عددها..... دائرة شمال خط الاستواء.
 3. شبه الجزيرة العربية تمتد بين خطوط طول يبلغ عددها خط طول شرق جرينتش.
 4. بالنسبة للكرة الأرضية تقع شبه الجزيرة العربية في النصف
 5. المسطح المائي الذي يفصل قارة أفريقيا عن شبه الجزيرة العربية يسمى
 6. دولة الكويت تقع في الطرف الشمالي الغربي لمسطح مائي يسمى
- أذكر النتائج المترتبة على: الموقع المتوسط لدولة الكويت في قلب العالم.

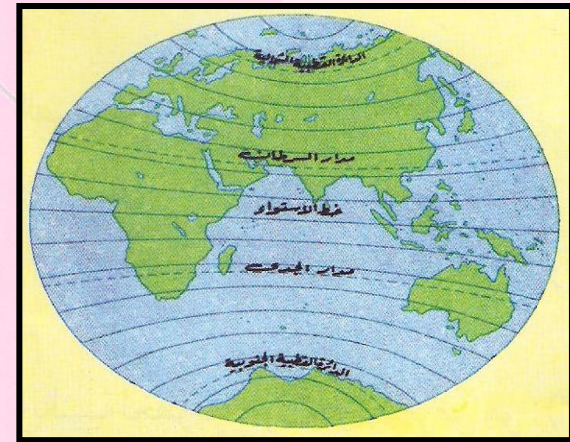
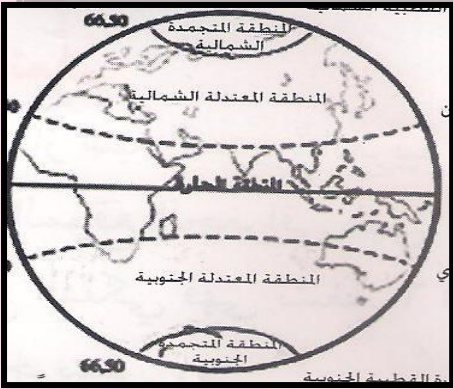
• فرق بين المفاهيم الجغرافية التالية:

الموقع النسبي

الموقع الفلكي

الموقع الجغرافي

• أذكر دوائر العرض الرئيسية:



• علي الشكل ارسم خط الطول الرئيسي (جرينتش).

• أكمل العبارات التالية:

1. دوائر العرض يبلغ عددها
2. خطوط الطول يبلغ عددها
3. دائرة العرض الرئيسية ورقمها صفر تسمى
4. خط الطول الرئيسي ورقمه صفر يسمى

• استكمل جدول المقارنة التالي:

خطوط الطول	دوائر العرض	أوجه المقارنة
.....	التعريف
.....	
.....	

العدد

• ضع المصطلح الجغرافي المناسب أمام العبارات التالية:

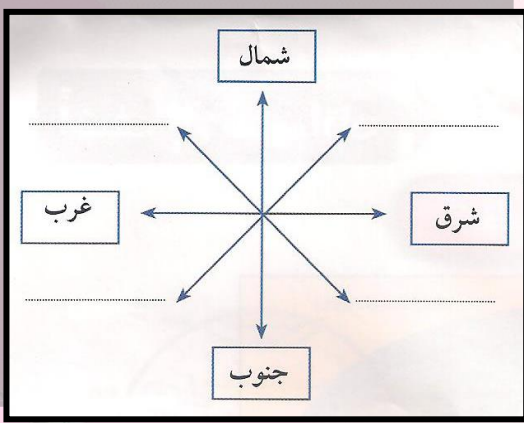
1. (.....) موقع الدولة بالنسبة لخطوط الطول ودوائر العرض.
2. (.....) موقع الدولة بالنسبة لليابس والماء.
3. (.....) موقع الدولة علي خريطة العالم .
4. (.....) خطوط وهمية ترسم علي الكرة الأرضية وتقسّمها علي قسمين شرقي وغربي.
5. (.....) خطوط وهمية ترسم علي الكرة الأرضية وتقسّمها إلي قسمين شمالي وجنوبي.

• على الشكل المقابل حدد ثم أكتب:

■ الجهات الأصلية:

■ الجهات الفرعية:

■ ظل العبارة الصحيحة بتظليل المربع:



■ تقع دولة الكويت في موقع متوسط من العالم، وقد ساعد موقعها علي اتساع نشاط سكانها التجاري والتواصل الحضاري والثقافي.

■ عدد خطوط الطول 280 خطا.

■ الموقع النسبي هو موقع دولة ما بالنسبة للمسطحات المائية واليابس.

■ اختر الإجابة الصحيحة من بين البدائل التالية:

(1) تقع شبة الجزيرة العربية بالنسبة لقارة آسيا في الجهة:

(الشمالية الغربية - الجنوبية الغربية - الشمالية الشرقية - الجنوبية الشرقية).

(2) موقع الدولة بالنسبة لخطوط الطول ودوائر العرض هو:

(الموقع النسبي - الموقع المكاني - الموقع الفلكي - الموقع التجاري).

(3) تقع دول الخليج العربية بالنسبة لمسطح الخليج العربي بالجهة:

(الجنوبية - الشرقية - الغربية - الشمالية).

(2) مظاهر السطح

عرف التضاريس

▪ فرق بين المفاهيم التالية:

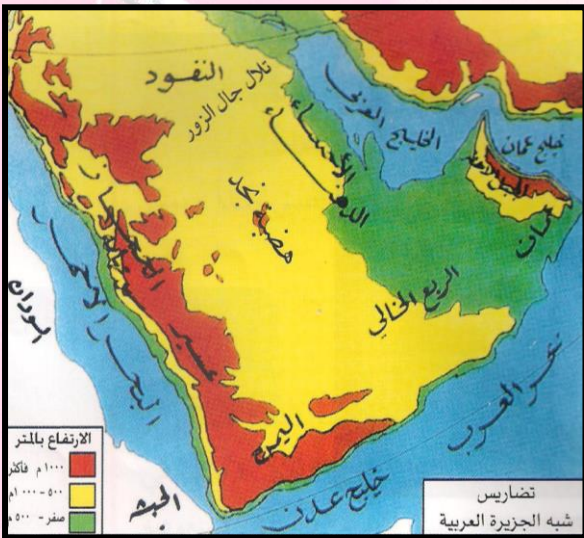
الجبل

التل

الهضبة


السهل

استعن بخريطة شبه الجزيرة العربية ثم أكمل الجدول التالي :



المرتفعات (الجبال - التلال)	الهضاب	السهول
.....
.....
.....
.....
.....
.....

أعد تنظيم الأحرف للوصول إلى أسماء الظواهر التضاريسية التالية:



ل-ب-خ-ا-ع-ر-ي-ل-ا صحراء

خ-ر-أ-ض-ل-ا-ا الجبل

ء-ا-س-ا-ل-ح سهل

ط-ا-ب-ل-ا-ن وادي

عرف المناخ:

أعد تنظيم الأحرف للوصول إلى أسماء الظواهر التضاريسية التالية:

المناخ في فصل الشتاء	المناخ في الصيف	أوجه المقارنة
.....	درجة الحرارة
.....	
.....	
.....	
.....	الأمطار
.....	

أعد تنظيم الأحرف للوصول إلى أسماء الظواهر التضاريسية التالية:

1-.....

2-.....

3-.....

■ أكمل العبارات التالية بالكلمة المناسبة:

- 1) الاسم الذي يطلق على الرياح الجنوبية والجنوبية الشرقية هو.....
- 2) الأمطار التي تسقط على الجبل الخضر (عمان) وجبال عسير (السعودية) في فصل.....
- 3) يتصف المناخ في دول الخليج العربية بأنه مناخ.....
- 4) تبلغ درجة الحرارة في دول الخليج العربية بالصيف أكثر من.....
- 5) درجة الحرارة تنخفض شتاء في منطقة الخليج العربية إلى.....
- 6) تسقط الأمطار بسلطنة عمان بفصل الصيف بمنطقة تسمى.....
- 7) الرياح السائدة صيفا في الكويت تسمى.....
- 8) تقع دولة الكويت ضمن المناخ.....

■ علل: ارتفاع درجة الحرارة في دول الخليج العربية في فصل الصيف الطويل؟.

.....

.....

(الكتاب المدرسي ص24)

(4) الحياة النباتية والحيوانية

■ علل: الحياة النباتية والحيوانية في منطقة الخليج العربية فقيرة؟.

.....

.....

- أكمل: النباتات التي تنمو في منطقة الخليج العربية قادرة على تحمل.....
- فرق بين المفاهيم الجغرافية التالية:

نباتات حولية:

.....


.....

.....

نباتات معمرة:

.....

.....



■ عزيزي الطالب من الصور السابقة

■ أذكر أنواع الحيوانات والنباتات التي تعيش في دول الخليج العربية:

.....

.....

■ أكمل العبارات التالية بالكلمات المناسبة:

1. أكثر النباتات الطبيعية انتشارات في دولة الكويت نبات يسمى.....
2. الصبار والعرّج والشدا والرمث من النباتات
3. من حيوانات دول الخليج العربية البرية الزاحفة.....

■ حلل: توفر النباتات المعمرة طول العام في منطقة الخليج العربية ؟

.....

.....

■ وزع الكلمات التالية في مكانها الصحيح بالجدول التالي:

(زيدي . ثعبان . دجاج . خروف . جربوع . جمل . صقر . روبيان)

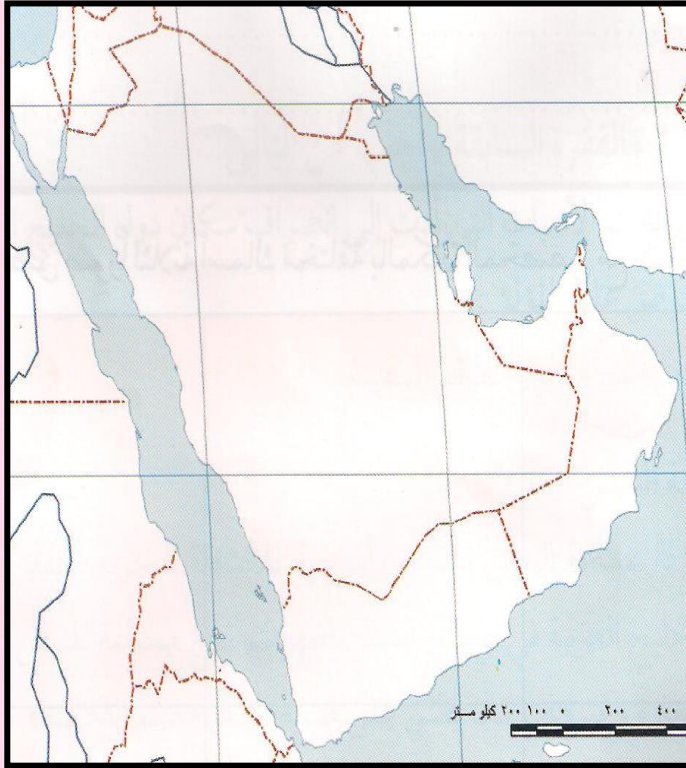
قوارض وزواحف	اسماء	طيور	رعوية

--	--	--	--

■ علل: تسمية النباتات الحولية بهذا الاسم.

ما هي الطرق التي تقاوم بها النباتات الصحراوية المعمرة الجفاف:

■ اختر الإجابة الصحيحة مه به البدائل وضع خطا تحت الكلمة الصحيحة:



(1) جبل في سلطنة عمان يسمى:

(الحجاز - الأحجار - تبستي - الأخضر)

(2) مسطح مائي يحد شبه الجزيرة العربية غربا :

(الخليج العربي-بحر العرب-البحر الأحمر-المحيط الهندي)

(3) أهم الهضاب في شبه الجزيرة العربية:

(النفوذ - الدهناء - نجد - الاحمدى)

(4) سهل يوجد على ساحل الخليج العربي يسمى:

(الإحساء - الباطن - الدبدبة - الفرات)

على الخريطة الصماء أكتب أسماء التضاريس (الجبال - التلال - الهضاب - السهول) في مكانها الصحيح على الخريطة.

(ب) حياة السكان في دول الخليج العربي قديما

■ علل: كانت حياة السكان في البيئة الصحراوية لدول الخليج العربية قاسية وخشنة ؟.

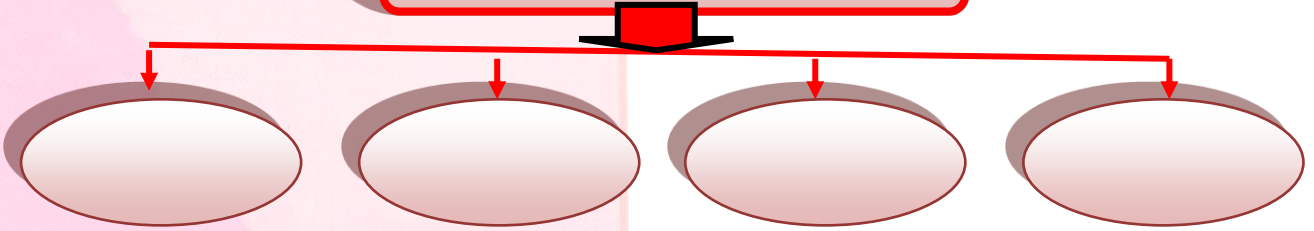
ما النتائج المترتبة على:

▪ قسوة وخشونة البيئة الصحراوية في دول الخليج العربية؟.

▪ علل: تشابه الأعمال التي يقوم بها أبناء دول الخليج العربية؟.

▪ استكمل المخطط التالي للأنشطة الاقتصادية عند سكان دول الخليج العربية:

الأنشطة الاقتصادية قديما



(1) الرعي

▪ ما هي الأسس التي قامت عليها حرفة الرعي في دول الخليج العربية قديما؟.

علل: انتشار تربية الإبل في دول الخليج العربية قديما؟.

عرف الواحة:

(2) الزراعة

▪ استعن بخريطة الكتاب لاستكمال الجدول التالي للمناطق الزراعية في الخليج العربي:

الدولة	الرقم المناسب	المناطق الزراعية
(1) دولة الكويت		البريمي
(2) المملكة العربية السعودية		سهل الباطنة
(3) دولة الإمارات المتحدة		الوفرة - العبدلي
(4) سلطنة عمان		سهل الإحساء - الطائف

▪ اذكر أسماء بعض المنتجات الزراعية في وطنك الكويت؟

.....

.....

(3) المهن اليدوية

▪ عزيزي الطالب ما هي خصائص الحرف اليدوية في دول الخليج العربية قديما؟

.....

.....

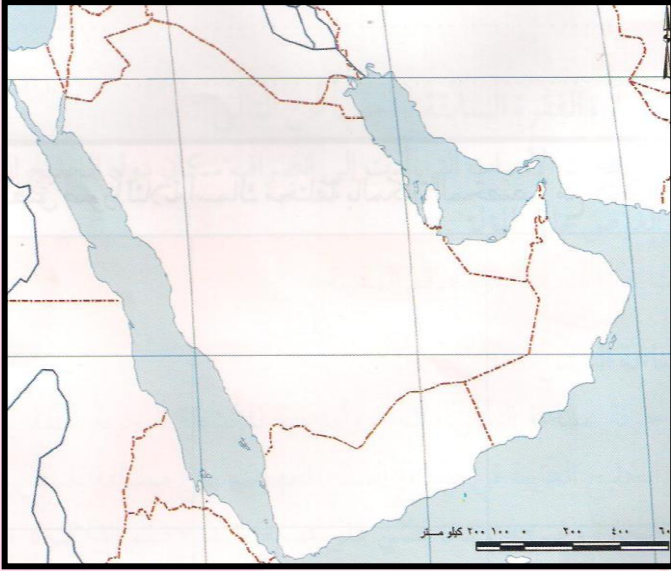
▪ اكتب الاسم المناسب لكل مما يلي (صناعة السدو/ صناعة الخوص/ صناعة البشوت) أسفل الصور:



..... (1) (2) (3)

(4) التجارة

▪ على الخريطة الصماء حدد أسماء المسطحات المائية التي تطل عليها دول الخليج العربية.



عرف المسطحات المائية:

.....
.....

المياه الجوفية:

.....

▪ علل: ممارسة وتميز سكان الخليج العربي بمهنة التجارة قديما ؟.

.....

ثانيا : الأنشطة البحرية (1) صيد الأسماك

▪ أكمل العبارات التالية:

- (1) وسائل الصيد القديمة في منطقة الخليج العربية و و
- (2) من أنواع الأسماك التي تعيش في مياه دول الخليج العربية..... و و و

▪ علل: مارس سكان الخليج العربي نشاط صيد الأسماك منذ أقدم العصور ؟.

.....
.....

(2) الغوص علي اللؤلؤ

ما هي الخصائص المميزة لمهنة الغوص علي اللؤلؤ؟

اختر من القائمة (أ) ما يناسبها من القائمة (ب) بوضع الرقم المناسب:

م	(أ) اسم الحرفة	الرقم المناسب	(ب) أهم أعمالهم
1	النوخذة	()	تجار اللؤلؤ
2	المجدمي	()	مطرب السفينة
3	الغواص	()	يغوص في البحر بحثاً عن اللؤلؤ
4	النهام	()	ربان السفينة
5	الطواش	()	رئيس البحرية
6	القلاب	()	صانع السفن
7	الرضيف	()	الصبية الذين يعملون علي ظهر السفينة لاكتساب الخبرة.
8	التباب	()	صغار السن وهو مساعد السيب

من الجدول السابق أذكر أسماء العاملين فقط علي سفينة الغوص.

(ب) من أكون :

ربان السفينة

اعمل تاجرا
للؤلؤ

أنا اعمل صانع
للسفن

مطرب السفينة

يغوص في أعماق البحر
بحثاً عن اللؤلؤ

■ علل: انصراف سكان دول الخليج العربية عن حرفة الغوص عن اللؤلؤ؟.

■ أكمل العبارات التالية:

(1) يبدأ موسم الغوص عن اللؤلؤ أوائل الصيف في شهر

(2) يستمر موسم الغوص لمدة أربعة أشهر وينتهي في الشتاء في شهر

(3) موسم بداية الغوص يسمى

(4) نهاية موسم الغوص أوائل الشتاء يسمى

(3) صناعة السفن

■ أكمل العبارات التالية بالكلمة المناسبة:

(1) برع سكان الخليج قديما في صناعة السفن ومن أنواعها و

(2) من أشهر السفن في منطقة الخليج العربية و و

(3) صناعة السفن حرفة مكتملة وأساسية للأنشطة

(4) يطلق علي صانع السفينة لفظ

■ أكمل الجدول التالي :

أشهر أنواع السفن	وسائل صيد الأسماك	أشهر أنواع الأسماك الخليجية
1-	1-	1-
2-	2-	2-

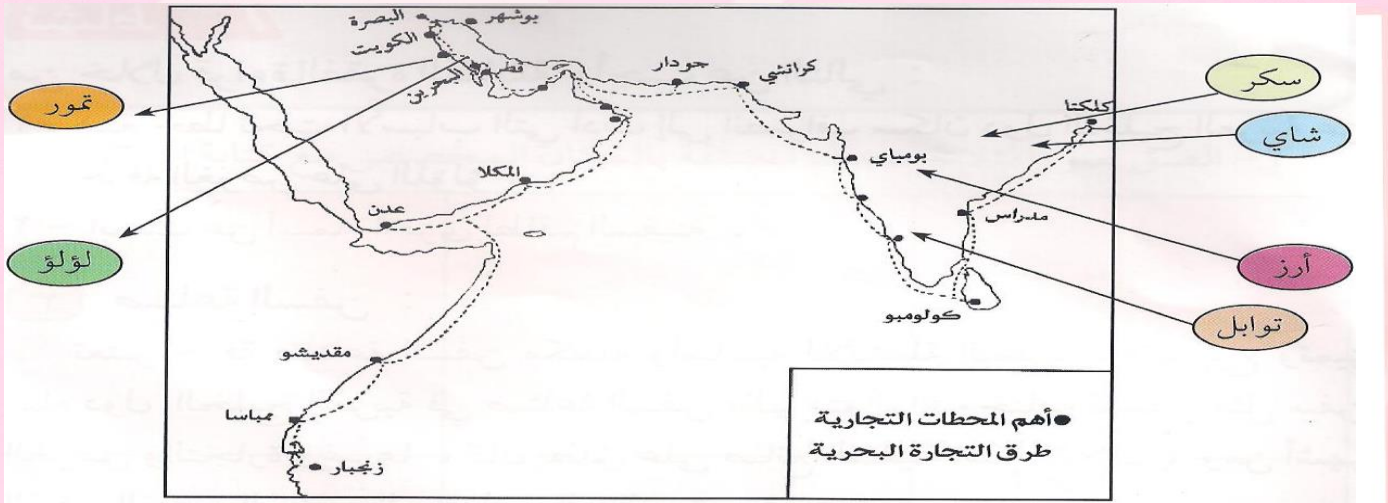
.....-3-3-3
---------	---------	---------

(4) التجارة البحرية

عرف البغلة:

.....

بالاستعانة بالخريطة التالية أجب عن الأسئلة التالية:



أذكر المناطق التي تاجر معها سكان منطقة الخليج العربي قديما؟

.....

علل لما يلي 1- تعتبر سفينة البغلة هي أفضل أنواع السفن المستعملة في السفر .

.....

.....

▪ فرق بين :

واردات منطقة الخليج العربية قديما

.....
.....

صادرات منطقة الخليج العربية قديم

.....
.....

البضائع المستوردة :

.....
.....
.....

البضائع المصدرة :

.....
.....

▪ أكتب التعليق المناسب أسفل الصور التالية :

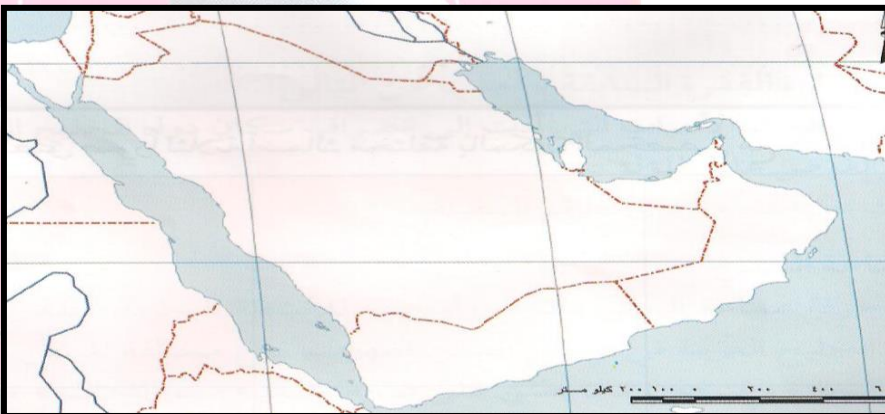


(2)



(1)

▪ أمامك خريطة لدول الخليج العربية ضع الأرقام في مكانها الصحيح:



(1) دولة الكويت -

(2) مملكة البحرين -

(3) سلطنة عمان -

(4) دولة قطر -

▪ صحح ما تحته خط واكتب الصحيح بين القوسين :

- (1) يطلق على صانع السفن قديما اسم التباب (.....)
- (2) يسمى موقع الدولة بالنسبة لخطوط الطول ودوائر العرض باسم الموقع النسبي (.....)
- (3) تل سهل الدبدبة من المظاهر التضاريسية في دولة الكويت (.....)
- (4) تسقط أشعة الشمس في فصل الصيف بشكل مائل على الأرض (.....)
- (5) الرأس هو جزء من الماء داخل اليابس (.....)
- (6) المد باللهجة الكويتية يسمى ثبر (.....)
- (7) تبلغ درجة الحرارة في دول الخليج العربية بالصيف أكثر من 20 درجة (.....)
- (8) تسقط الأمطار بسلطنة عمان بفصل الصيف بمنطقة تسمى صلالة (.....)
- (9) تسمى بداية موسم الغوص بالقفال (.....)