
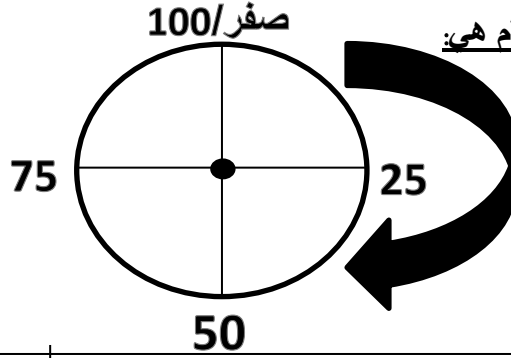


ورقة تدريبات للصف السادس  
كيف ارسم دائرة بيانية؟

أنا أتعلم:



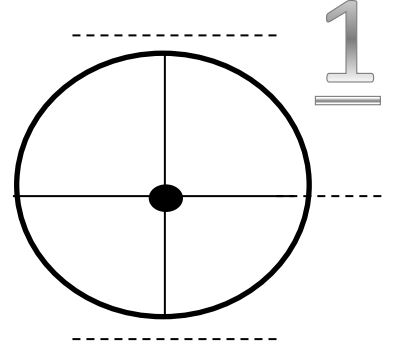
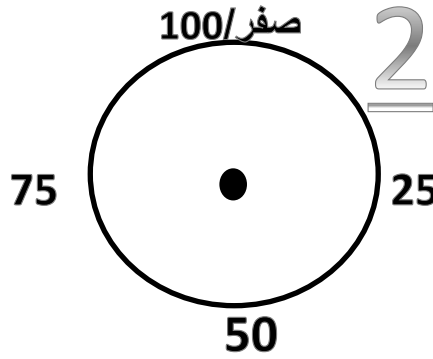
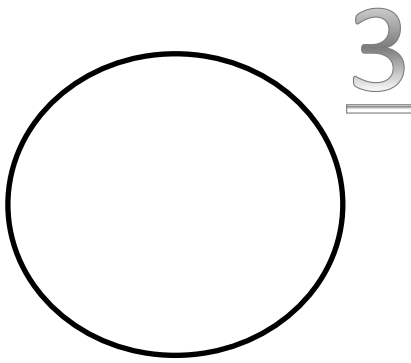
1- تحتوي كل دائرة بيانية على نقطة الاصل ( المركز ) وتقع في وسط الدائرة



2- تنقسم الدائرة البيانية الى اربعة اقسام هي:


3- يتم الرسم مع اتجاه عقارب الساعة

اكمل الدوائر البيانية بما  
ينقصها:




4 حولي النسب المئوية التالية الى دوائر بيانية :


%90



%60



%50



%25

