

الاجتماعيات

مدرسة التميز النموذجية

السؤال الأول أكمل العبارات التالية :-

- ١- تشغل شبه الجزيرة العربية درجة عرض شمال خط الاستواء و خط طول شرق غرينتش .
- ٢- موقع الدولة بالنسبة لخطوط الطول ودوائر العرض يسمى
- ٣- موقع الدولة بالنسبة لليابسة والماء يسمى
- ٤- عدد خطوط الطول على الأرض يبلغ
- ٥- عدد دوائر العرض على الأرض يبلغ
- ٦- تقع شبه الجزيرة العربية بالنسبة لقارة آسيا في الجهة
- ٧- تقع دول الخليج العربية بالنسبة لمسطح الخليج العربي بالجهة
- ٨- كل مرتفع له قمة لا يقل ارتفاعه عن ١٠٠٠ م يسمى ..
- ٩- ارض مرتفعة سطحها مستوي وتمتد مساحة كبيرة تسمى
- ١٠- يتشابه مناخ دول الخليج العربية ويتصف بأنه
- ١١- نباتات متوفرة طول العام لأنها تتحمل الجفاف والحرارة تسمى
- ١٢- نباتات يرتبط وجودها بموسم المطر تسمى
- ١٣- يبدأ موسم الغوص من أوائل شهر وينتهي في شهر
- ١٤- تسمى بداية موسم الغوص ونهايته
- ١٥- يسمى صانع السفن قديما
- ١٦- الاسم الذي كان يطلق على ربان السفينة ..
- ١٧- الاسم الذي كان يطلق على تجار اللؤلؤ ..
- ١٨- الاسم الذي أطلق على الخليج العربي قديما ١- ٢-
- ١٩- ظهرت الحضارة الهلينستية في
- ٢٠- ظهرت حضارة مجان في
- ٢١- ظهرت حضارة دلمون في

مدرسة التميز النموذجية

السؤال الثاني صح ما تحته خط ؟

- ١- تبلغ درجة الحرارة في الصيف في دول الخليج ٢٥ درجة (.....)
- ٢- يبلغ عدد دوائر العرض على الأرض يبلغ ١٦٠ دائرة (.....)
- ٣- من الأمثلة على النباتات الحولية في الكويت الصبار (.....)
- ٤- الأجزاء الفسيحة من الأرض تتميز باستوائها تسمى التلال (.....)
- ٥- تقع منطقة الإحساء الزراعية في سلطنة عمان (.....)

السؤال الثالث : عرف ما يلي :-

- ١- الموقع الفلكي :
- ٢- الموقع النسبي :
- ٣- خطوط الطول :
- ٤- الجبل :
- ٥- الهضبة :
- ٦- النباتات المعمرة :
- ٧- النباتات الحولية :
- ٨- الواحة :
- ٩- الخليج العربي :
- ١٠- المجدي :
- ١١- الرضيف :
- ١٢- القرقور :
- ١٣- المسطحات المائية :

السؤال الرابع : علل ما يلي :-

- ١- توافر النباتات المعمرة طول العام.....
- ٢- كانت حياة السكان في دول الخليج العربية قاسية وخشنة : -
- ٣- تشابه الأعمال التي مارسها سكان دول الخليج العربية : -

مدرسة التميز النموذجية

- ٤- تعتبر سفينة البغلة أفضل أنواع السفن القديمة : -
- ٥- انصراف سكان الخليج العربي عن حرفة الغوص على اللؤلؤ :-
- ٦- ممارسة سكان دول الخليج العربية للأنشطة التجارية :-

السؤال الخامس اجب عما يلي :-

١- تهب على دول الخليج العربية ثلاث أنواع من الرياح اذكرها :-

- أ-
- ب-
- ت-

٢- عدد الأسماء التي عرف بها الخليج العربي قديما :-

- أ -
- ب -

٣- عدد ثلاث من الحرف اليدوية التي مارسها السكان قديما

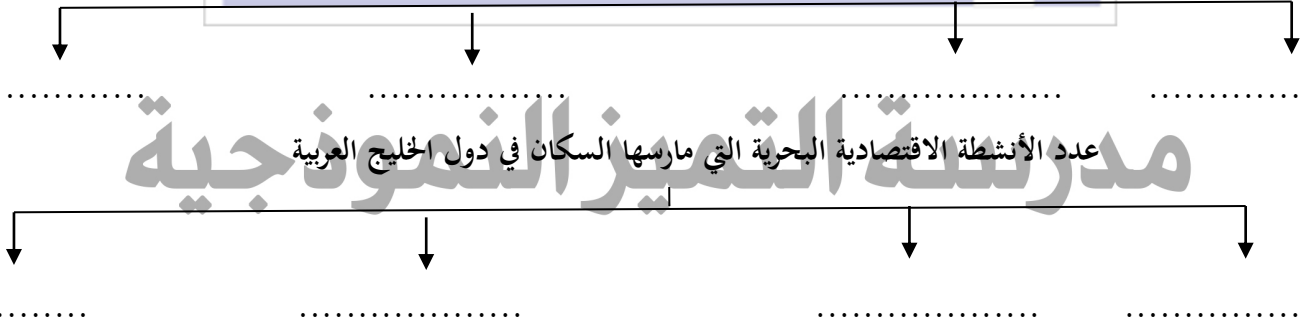
.....:

السؤال السادس. صنف المدن التي وصلت إليها تجارة الخليج حسب الجدول التالي :

- كلكتا - مدراس - مقديشو - بومباي - ممباسا

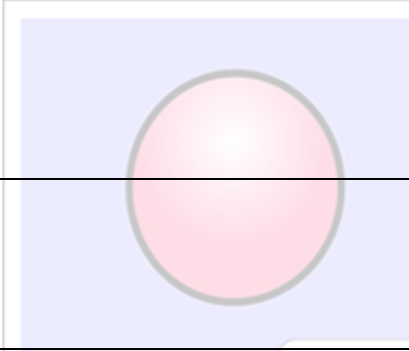
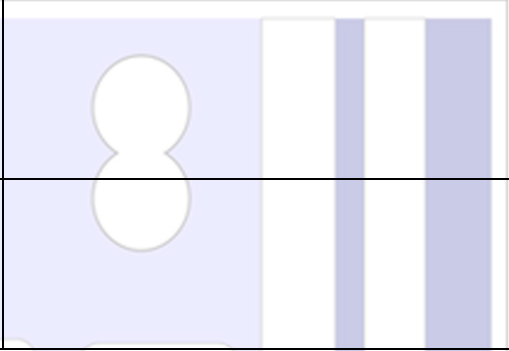
مدن في إفريقيا	مدن في آسيا

السؤال السابع عدد الأنشطة الاقتصادية البرية التي مارسها سكان دول الخليج العربية





السؤال الثامن : أكمل الجداول التالية .

أ- فرق بين خطوط الطول ودوائر العرض .

دوائر العرض	خطوط الطول	
		التعريف
		عدد الخطوط

ب- فرق بين النباتات المعمرة والحولية .

النباتات الحولية	النباتات المعمرة	
		التعريف
<h1>مدرسة التميز النموذجية</h1>		الأمثلة

ج- اذكر منطقة زراعية في كل من الدول التالية .

عمان	الإمارات	السعودية	الكويت

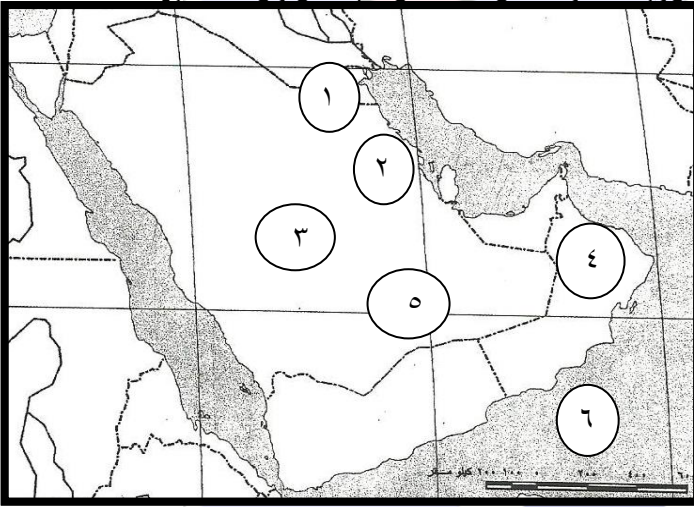
السؤال التاسع صل بخط بين الحضارة والدولة التي نشأت فيها :

- الحضارة الهلينستية - البحرين

- حضارة مجان - الكويت (فيلكا)

- حضارة دلمون - عمان

السؤال العاشر - أمامك خريطة شبه الجزيرة العربية أكتب مدلولات الأرقام الموجودة عليها :



١- تلال تسمى.....

٢- سهول تسمى.....

٣- هضبة تسمى.....

٤- جبل يسمى.....

٥- صحراء تسمى.....

٦- مسطح مائي يسمى.....

السؤال الحادي عشر : أكمل العبارات التالية :

١. أول دولة استعمارية وصلت إلى الخليج العربي هي

٢. الأسلوب الاستعماري الذي اتبعته بريطانيا في الخليج هو

٣. أُعلن استقلال الكويت في ١٩ يونيو عام

٤. الحاكم الذي تم في عهده الاستقلال هو

٥. المقر الدائم لمجلس التعاون الخليجي هي مدينة

٦. أُعلن قيام مجلس التعاون الخليجي في مدينة

٧. العام الذي تم فيه إعلان السوق الخليجية المشتركة

٨. الاسم الذي أطلق على الخليج العربي قديما

٩. ظهرت الحضارة الهلينستية في

١٠. ظهرت حضارة مجان في

١١. ظهرت حضارة دلمون في

مدرسة التميز النموذجية

السؤال الثاني عشر صحح الخطأ فيما يلي :

١. الدولة الخليجية التي قامت عام ١٩٣٢ هي عمان (.....)
٢. الدولة الخليجية التي استقلت عام ١٩٦١ م هي الإمارات (.....)
٣. دولة قطر خضعت للاستعمار الفرنسي (.....)
٤. اتفاقية الحماية البريطانية على الكويت كانت عام ١٩٩٩ (.....)
٥. ألغيت معاهد الحماية البريطانية عن الكويت في عهد الشيخ جابر الأحمد (.....)


السؤال الثالث عشر : عرف ما يلي :-

١. الاستقلال :
٢. الاستعمار :
٣. مجلس التعاون لدول الخليج العربي.....

السؤال الرابع عشر اجب عما يلي :-

- ١ - عدد أهداف مجلس التعاون لدول الخليج العربية .
- أ-
- ب-
- ج-
- ٢ - اكتب السمات المشتركة بين دول مجلس التعاون .
- أ-
- ب-
- ج-

السؤال الخامس عشر رتب الدول الاستعمارية حسب وصولها للخليج العربي ؟

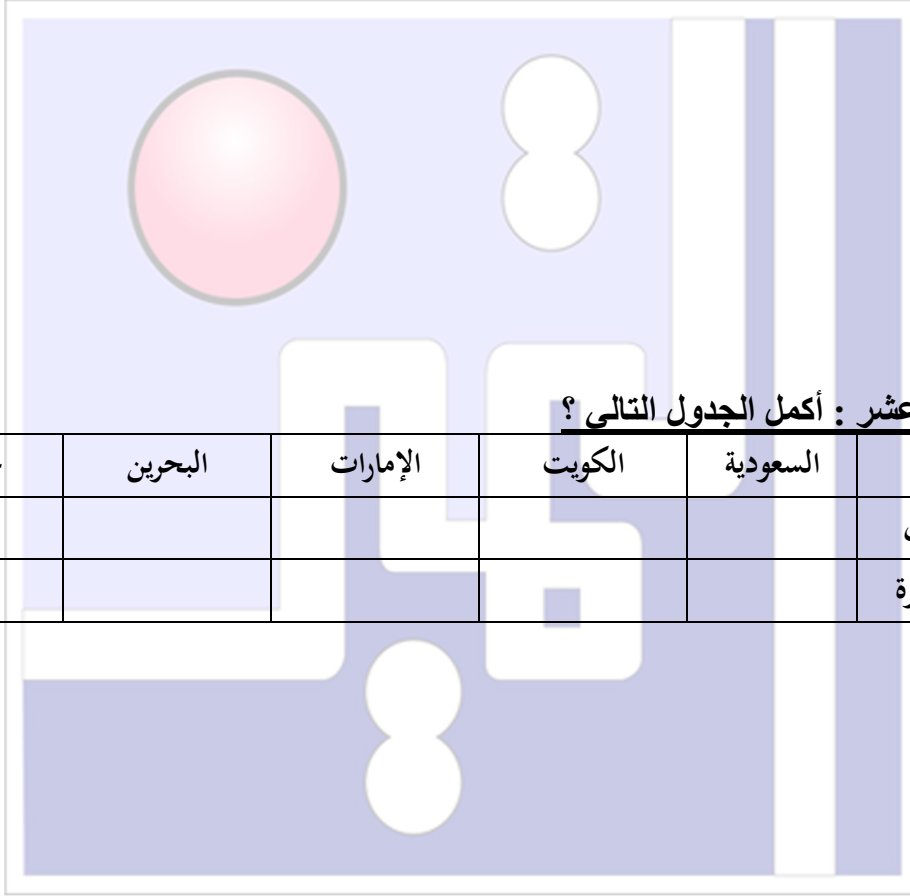


السؤال السادس عشر : وضح تفاصيل اتفاقية الحماية مع بريطانيا ؟

السنة	الإطراف	أسلوب الاستعمار

السؤال السابع عشر : انجازات مجلس التعاون في المجالات التالية ؟

الاقتصادية	الثقافية	السياسية	العسكرية

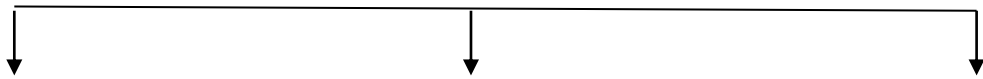


السؤال الثامن عشر : أكمل الجدول التالي ؟

الدولة	السعودية	الكويت	الإمارات	البحرين	عمان
سنة الاستقلال					
الدولة المستعمرة					

مدرسة التميز النموذجية

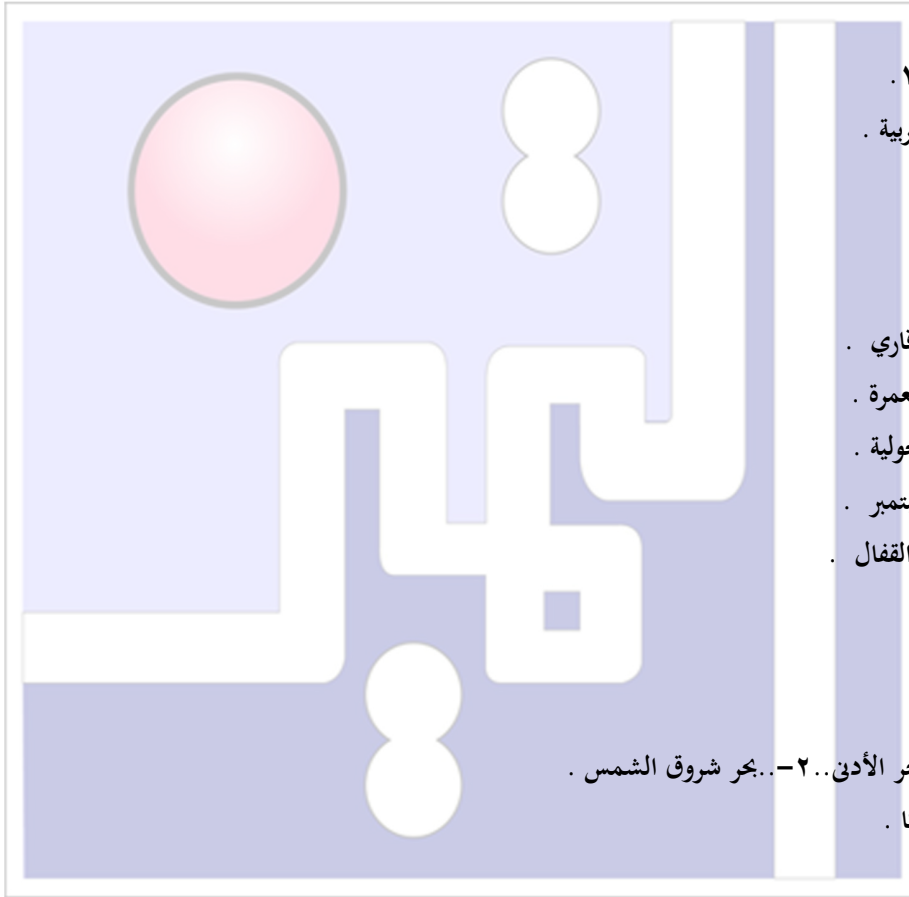
السؤال التاسع عشر الهيكل التنظيمي لمجلس التعاون الخليجي ؟



الإجابة

السؤال الأول : أ- أكمل العبارات التالية :-

١. ٢٥ - ١٦ .
٢. الموقع الفلكي .
٣. الموقع النسبي .
٤. ٣٦٠ .
٥. عدد ١٨٠ .
٦. الجنوبية الغربية .
٧. الغربية .
٨. الجبل .
٩. هضبة .
١٠. صحراوي قاري .
١١. النباتات المعمرة .
١٢. النباتات الحولية .
١٣. يونيو - سبتمبر .
١٤. الدشة - القفال .
١٥. القلاف .
١٦. النوخذة .
١٧. الطواش .
١٨. ١- البحر الأدنى..٢-..بحر شروق الشمس .
١٩. جزيرة فيلكا .
٢٠. عمان ..
٢١. البحرين .



إجابة السؤال الثاني :

١. (٤٠٠٠ درجة...)
٢. (.....١٨٠.....)
٣. (...المعمرة....)
٤. (...السهول.....)
٥. (...السعودية.....)

مدرسة التميز النموذجية

إجابة السؤال الثالث: عرف ما يلي :-

١. موقع الدولة بالنسبة لخطوط الطول ودوائر العرض .
٢. موقع الدولة بالنسبة لليابسة والماء .
٣. خطوط وهمية ترسم على الكرة الأرضية وتقسّم الأرض إلى قسمين شرقي وغربي .
٤. كل مرتفع له قمة لا يقل ارتفاعه عن ١٠٠٠ .
٥. ارض مرتفعة سطحها مستوي وتمتد مساحة كبيرة .
٦. نباتات متوفرة طول العام لأنها تتحمل الجفاف والحرارة .
٧. نباتات يرتبط وجودها بموسم المطر .
٨. منطقة تقع في الصحراء فيها مياه عذبة صالحة للزراعة .
٩. ذراع مائي لبحر العرب يمتد من خليج عُمان جنوباً حتى شط العرب شمالاً .
١٠. رئيس البحرية .
١١. صغار السن والمساعد للسيف في السفن الكبيرة .
١٢. إحدى وسائل صيد الأسماك القديمة .
١٣. جميع أشكال المياه على الأرض. مثل البحار والمحيطات والأنهار .

إجابة السؤال الرابع : علل ما يلي :-

١. بسبب طول جذورها و قلة أوراقها وقدرتها على نقل الحمولة الكبيرة .
٢. لفقر البيئة وقلة الموارد .
٣. لتوحد الظروف المناخية والبيئية .
٤. لملائمتها وقدرتها على نقل الحمولة الكبيرة وقلة تعرضها للإخطار .
٥. لاكتشاف النفط و ظهور اللؤلؤ الصناعي .
٦. وذلك لأنها تطل على مسطحات تجارية هامة .

إجابة السؤال الخامس اجب عما يلي :-

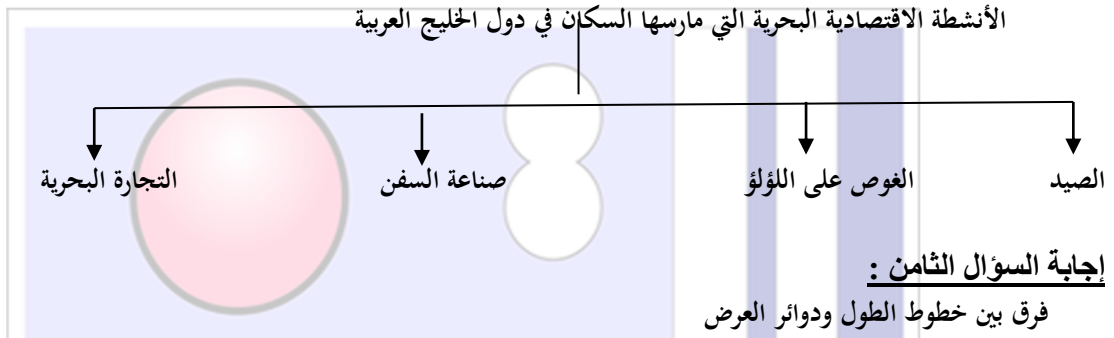

١. أ - الشمالية .
- ب - الجنوبية الشرقية " (الكوس) .
- ج - الزوابع (العواصف الترابية) .
- ٣- أ . البحر الأدني ب- بحر شروق الشمس .
- ٤- صناعة الخوص -صناعة السدو - صناعة البشوت .

إجابة السؤال السادس :-

- كلكتا - مدراس - مقديشو - بومباي - ممباسا

مدن في أفريقيا	مدن في آسيا
مقديشو - ممباسا	كلكتا - مدراس - بومباي

إجابة السؤال السابع : الأنشطة الاقتصادية البرية التي مارسها سكان دول الخليج العربية



دوائر العرض	خطوط الطول	
خطوط وهمية ترسم على الكرة الأرضية وتقسّم الأرض إلى قسمين شمالي وجنوبي	خطوط وهمية ترسم على الكرة الأرضية وتقسّم الأرض إلى قسمين شرقي وغربي	التعريف
..... ١٨٠..... ٣٦٠.....	عدد الخطوط

الفرق بين النباتات المعمرة والحولية

النباتات الحولية	النباتات المعمرة	
نباتات يرتبط وجودها بموسم المطر	نباتات متوفرة طول العام لأنها تتحمل الجفاف والحرارة	التعريف
العنصبل و الخبيزة والحويذان	الصبار و العرفج والثندا	الأمثلة

- المنطقة الزراعية في كل من الدول التالية .

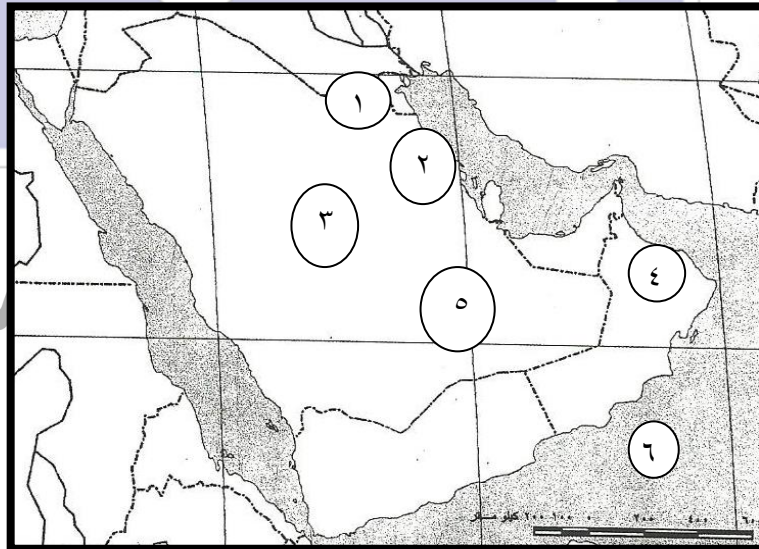
عمان	الإمارات	السعودية	الكويت
صلالة وسهل الباطنة	العين و ليوا	الإحساء و تمامه	الوفرة و العبدلي

إجابة السؤال التاسع .

- الحضارة الهلينستية
- حضارة مجان
- حضارة دلمون
- البحرين
- الكويت (فيلكا)
- عمان

إجابة السؤال العاشر - أمامك خريطة شبه الجزيرة العربية أكتب مدلولات الأرقام الموجودة عليها :

- ١ - تلال تسمى .. جبال الزور..... ٢ - سهول تسمى ..الإحساء.....
- ٣ - هضبة تسمى ...نجد..... ٤ - جبل يسمى ..الأخضر.....
- ٥ - صحراء تسمى ...الربع الخالي ٦ - مسطح مائي يسمى ..بحر العرب.....



نموذجية

إجابة السؤال الحادي عشر :-

- ١ . البرتغال .
- ٢ . المعاهدات والاتفاقيات .
- ٣ . ١٩٦١ م .
- ٤ . عبد الله السالم .
- ٥ . الرياض .
- ٦ . أبو ظبي ... - ١٩٨١ م .
- ٧ . ٢٠٠٨ م .
- ٨ . ١ - ... البحر الأدنى .. ٢ - ... بحر شروق الشمس .
- ٩ جزيرة فيلكا .
- ١٠ عمان ..
- ١١ البحرين ...

إجابة السؤال الثاني عشر :-

- ١ . (السعودية) .
- ٢ . (الكويت) .
- ٣ . (البريطاني) .
- ٤ . (١٨٩٩) .
- ٥ . (الشيخ عبد الله السالم الصباح) .

إجابة السؤال الثالث عشر :-

- ١ . مسؤولية الدولة عن إدارة شؤونها الداخلية والخارجية .
- ٢ . أن تسيطر دولة قوية على دولة ضعيفة بهدف استغلال مواردها .
- ٣ . منظمة سياسية اقتصادية إقليمية تضم ست دول عربية خليجية .

مدرسة التميز النموذجية

إجابة السؤال الرابع عشر :-

- ١ - أ - تحقيق التعاون في جميع المجالات .
- ب - تحقيق الترابط والصلات .
- ج - العمل على تقدم دول المجلس في المجال العلمي .
- ٢ - وحدة الأصل ب- اللغة والدين ج- التاريخ المشترك

إجابة السؤال الخامس عشر رتب الدول الاستعمارية حسب وصولها للخليج العربي ؟
٣- بريطانيا

٢- هولندا

١- البرتغال

إجابة السؤال السادس عشر وضح تفاصيل اتفاقية الحماية مع بريطانيا ؟

السنة	الأطراف	أسلوب الاستعمار
١٨٩٩	الكويت و بريطانيا	المعاهدات والاتفاقيات

إجابة السؤال السابع عشر انجازات مجلس التعاون في المجالات التالية ؟

العسكرية	السياسية	الثقافية	الاقتصادية
اتفاقية الدفاع المشتركة	التنسيق في المجال السياسي	وثيقة تطوير التعليم	انطلاق السوق الخليجية المشتركة

إجابة السؤال الثامن عشر أكمل الجدول التالي :

الدولة	السعودية	الكويت	الإمارات	البحرين	عمان
سنة الاستقلال	١٩٣٢	١٩٦١	١٩٧١	١٩٧١	١٩٧١
الدولة المستعمرة	لا يوجد	بريطانيا	بريطانيا	بريطانيا	بريطانيا

مدرسة التميز النموذجية

إجابة السؤال التاسع عشر الهيكل التنظيمي لمجلس التعاون الخليجي ؟

