

## الوحدة الثالثة: دول الخليج العربية تتطور اقتصاديا ( أ ) الثروة النفطية

### • أكمل العبارات التالية:

1. بدأ التنقيب عن النفط في دولة الكويت عام .....
2. بدأ التنقيب عن النفط في دولة الكويت أولا في .....
3. أول حقل اكتشف فيه النفط في شمال دولة الكويت يسمى .....
4. تم تصدير أول شحنة من النفط في دولة الكويت عام .....
5. من أهم الدول المستوردة للنفط الكويتي ..... و..... و.....

### • علل: لا يتم تصدير جميع الإنتاج من النفط إلى الخارج؟

.....


.....

### • علل: عدم استغلال حقل بجرة في شمال الكويت؟

.....

.....

### • أكتب التعليق المناسب أسفل الصور التالية



.....



.....

فرق بين المفاهيم التالية:

احتياط النفط

.....

.....

إنتاج النفط

.....

.....

- انظر الجدول لإنتاج النفط في دول الخليج العربية:

الدولة	نسبة إنتاج النفط لشهر أغسطس 2008م
الكويت	8%
السعودية	29%
الإمارات	8%
قطر	6%

- لون المربعات بألوان مختلفة لكل دولة.

★ أعلى إنتاج لشهر أغسطس دولة تسمى

.....

### ( 3 ) تصدير النفط

- أنظر الخريطة التالية ثم أستكمل الجدول الذي يليها:

الدولة	حقل النفط	ميناء تصدير النفط
الإمارات		
البحرين		
السعودية		
عمان		
قطر		
الكويت		

### • أكمل العبارات التالية:

1. أكبر حقل نفطي في العالم من حيث كمية الإنتاج في دولة الكويت يسمى .....
  2. أكبر حقل نفط في العالم من حيث المساحة حقل الغوار يقع في دولة .....
  3. أكبر دولة خليجية وعربية في إنتاج النفط تسمى .....
- عزيزي الطالب كيف يتم تصدير النفط من دولة الكويت الحبيبة إلى الخارج؟.

x علل: تصدر الكويت إنتاجها من النفط إلى الخارج؟.

### ( ب ) تنوع الموارد الاقتصادية 1- الموارد الزراعية

- ما هي الصعوبات التي تواجه الزراعة في دول الخليج العربية.

- أنظر الخريطة التي تمثل المناطق الزراعية في دول الخليج العربية ثم استكمل الجدول التالي:

الكويت	السعودية	الإمارات	عمان

### عرف المفاهيم التالية :

البيوت البلاستيكية: .....

.....  
.....

الزراعة بدون تربة: .....

.....  
.....

## ما هي الجهود التي تتبعها دول الخليج العربية لزيادة إنتاج المحاصيل الزراعية .

- أذكر أهم المحاصيل الزراعية في دول مجلس التعاون الخليجي.

الموارد الصناعية

عرف الصناعة:

- علل: اهتمام دول الخليج العربية بصناعة تكرير النفط ؟.

عرف الدخل القومي:

- ابحث عن السبب والنتيجة لازدهار الصناعة :

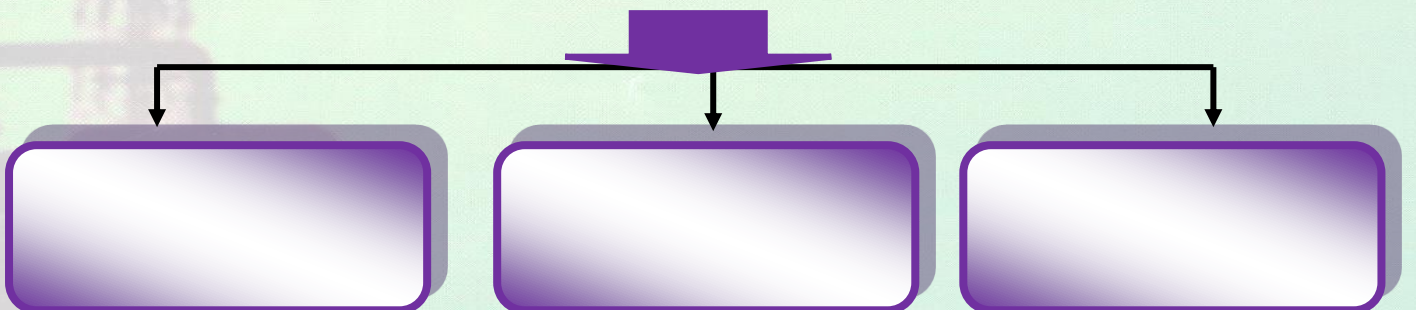
السبب

النتيجة

عدد أنواع الصناعات القائمة علي النفط بدول مجلس التعاون الخليجي

بالمخطط التالي:

الصناعات النفطية

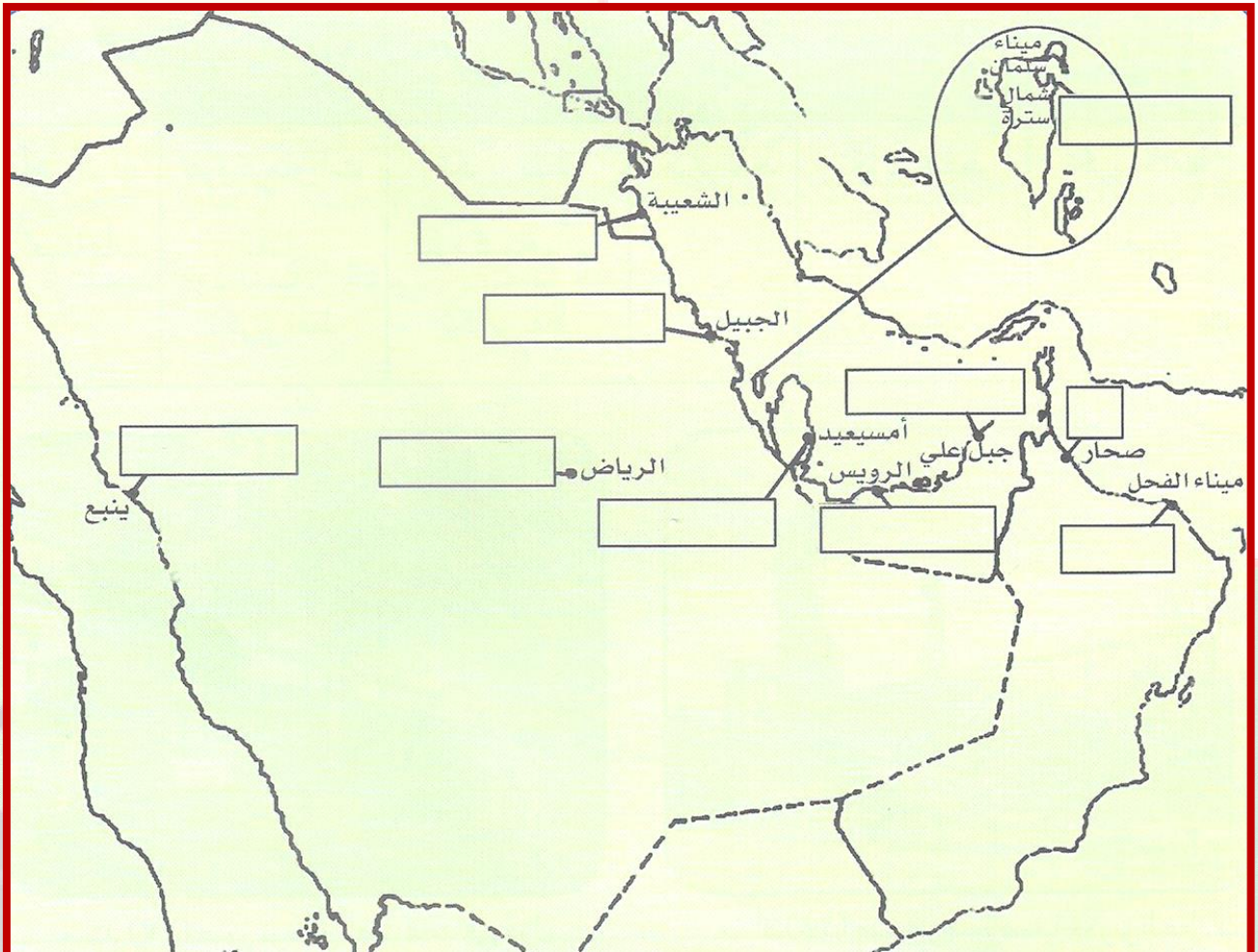


## استكمل الجدول التالي لأهم الصناعات في دول الخليج العربية:

سلطنة عمان		الإمارات		قطر	البحرين	السعودية			الكويت	الدولة
الفحل	صحار	ج علي	الرويس	امسيعيد	سترة	ينبع	الرياض	الجبيل	الشعبية	
										أنواع الصناعات

• على الخريطة الصماء وزع أنواع الصناعات في دول مجلس التعاون الخليجي باستخدام الرموز التالية:

( + ) البتر وكيموايات ( × ) الغاز ( = ) الحديد ( O ) تكرير النفط ( % ) ألومنيوم ( // ) نحاس



**( 3 ) الموارد التجارية****عرف المفاهيم التالية :**

<b><u>ترانزيت</u></b> ..... ..... .....	<b><u>الواردات</u></b> ..... ..... .....	<b><u>الصادرات</u></b> ..... ..... .....
--	---	---

أذكر أهم الصادرات والواردات في دول الخليج العربية مستكملاً الجدول التالي:

<b><u>واردات</u></b>	<b><u>صادرات</u></b>

**• صحح ما تحته خط :**

1. مجموع الدخول التي تحصل عليها الدولة هي الصناعة ( )
2. نجحت السعودية في زراعة وإنتاج محصول القطن ( )
3. تزرع فيها الخضروات في غير مواسمها وتحميها من تقلبات الطقس تعرف بالترانزيت ( )

**أكمل العبارات التالية:-**

1. بدأ البحث والتنقيب عن النفط في دولة الكويت عام.....ص 77
2. أول حقل نفط تم اكتشافه في دولة الكويت يسمى.....ص 77
3. تم تصدير أول شحنة من النفط الكويتي عام.....ص 77

4. أكثر الدول الخليجية إنتاجاً للنفط دولة تسمى.....ص 78
5. للمملكة العربية السعودية تجربة رائدة في إنتاج محصول يسمى.....ص 81
6. الزراعة التي تتم في بيئة مائية أو رملية أو حصى أو نشارة خشب ويضاف إليها المحاليل الغذائية تسمى.....ص 83
7. يزرع فيها الخضروات في غير مواسمها وتقوم بحماية المحاصيل من تقلبات الطقس تسمى.....ص 83
8. كميات النفط التي يتم استخراجها للاستفادة منها تسمى.....ص 78
9. كميات النفط المخزونة في باطن الأرض تسمى.....ص 78
10. تحويل المواد الخام إلى مواد مصنعة يمكن الاستفادة منها تسمى.....ص 84
11. مجموع الدخول التي تحصل عليها الدولة خلال عام تسمى.....ص 84
12. السلع والمنتجات التي تبيعها دولنا في الخارج تسمى.....ص 87
13. إعادة تصدير البضائع المستوردة تسمى.....ص 87

### صحح ما تحته خط :-

- 1- بدا البحث والتنقيب عن النفط في دولة الكويت عام 1930 (.....)ص 77
- 2- أول حقل نفطي تم اكتشافه في دولة الكويت يسمى حقل برقان (.....)ص 77
- 3- تم تصدير أول شحنة من النفط الكويتي عام 1945 (.....)ص 77
- 4- أكثر الدول الخليجية إنتاجاً للنفط دولة تسمى الإمارات (.....)ص 78
- 5- للمملكة العربية السعودية تجربة رائدة في إنتاج محصول يسمى الذرة (.....)ص 81