

تدريبات الصف السادس
الفترة الدراسية الثالثة والرابعة

وزارة التربية
مدرسة عبد الله حسن الجار الله المتوسطة بنين
قسم الاجتماعيات 2012 / 2013 م

السؤال الأول : أكمل الفراغات التالية بما يناسبها :-

- 1 - بدأ التنقيب عن النفط في الكويت عام
- 2 - أول الحقول التي تم اكتشافها في الكويت حقل نفطي يسمى ويقع في جهة ص 77
- 3 - بدأ تصدير النفط للخارج عام
- 4 - أهم الدول المستوردة للنفط الكويتي هي الولايات المتحدة و..... و..... ص 77
- 5 - أكبر دول الخليج العربية إنتاجاً للنفط هي
- 6 - كميات النفط المخزونة في باطن الأرض تعرف باسم
- 7 - كميات النفط التي يتم استخراجها للاستفادة منها تعرف باسم
- 8 - الدولة الخليجية التي لها تجربة رائدة في إنتاج القمح هي
- 9 - الزراعة التي تتم في بيئة مائية أو رملية أو حصى أو نشارة خشب تعرف باسم ص 83
- 10 - يزرع فيها الخضروات في غير مواسمها (أوقات) وتقوم بحماية المحاصيل تسمى ص 83
- 11 - تحويل المواد الخام إلي مواد مصنعة يمكن الاستفادة منها تسمى
- 12 - مجموع الدخول التي تحصل عليها الدولة خلال عام تسمى
- 13 - السلع والمنتجات التي تبيعها دولنا في الخارج تسمى
- 14 - إعادة تصدير البضائع المستوردة يعرف باسم
- 15 - البضائع والسلع التي تشتريها دولنا من الخارج تسمى
- 16 - ترجع أصول السلالة السكانية في منطقة الخليج العربية إلي جنس شرق أفريقيا و ص 91
- 17 - توجد حضارة هيلي في دولة تسمى
- 18 - الحضارة التي توجد في البحرين تسمى
- 19 - يوجد حقل الغوار النفطي في دولة تسمى
- 20 - ميناء الأحمد النفطي يوجد في دولة تسمى
- 21 - قدوم السكان من آسيا وأوروبا وأفريقيا يسمى هجرات ص 92
- 22 - خروج السكان من قلب الجزيرة العربية إلي سواحل الخليج العربي تسمى هجرات ص 92
- 23 - هاجرت آل صباح من قلب الجزيرة العربية واستقرت في
- 24 - أكبر دولة في عدد السكان في العالم هي
- 25 - أقل الدول سكاناً في العالم هي
- 26 - عدد المواليد - عدد الوفيات تعرف باسم

- 27 - الزيادة عن طريق الهجرة تعرف باسم ص 95
- 28 - أعلى دولة خليجية في نسبة المواطنين هي ص 97
- 29 - أقل الدول الخليجية في نسبة المواطنين هي ص 97
- 30 - أعلى نسبة وافدين توجد في دولة خليجية تسمى ص 97
- 31 - أصبحت منطقة الخليج منطقة جذب للسكان بعد اكتشاف ص 98
- 32 - عدد السكان في الكيلو متر المربع الواحد تعرف باسم ص 99
- 33 - أكثر دولة خليجية في عدد السكان هي ص 99
- 34 - أقل دولة خليجية في عدد السكان هي ص 99
- 35 - أكثر دول الخليج في الكثافة السكانية هي ص 99
- 36 - أقل دول الخليج في الكثافة السكانية هي ص 99
- 37 - تحتل الكويت في عدد السكان على مستوى الخليج العربي المركز ص 99

السؤال الثاني : (أ) صنف المناطق الزراعية التالية حسب الدول التي تقع فيها :- ص 81

(العبدلي - الإحساء - العين - سهل الباطنة - الوفرة - سهل تهامة - أيوا - صلالة)

الكويت	السعودية	الإمارات	عمان

(ب) صنف الموانئ التالية حسب مكانها :- ص 80

(جبل الظنة - سترة - رأس تنوره - الفحل - امسيعد - الأحمدى)

قطر	البحرين	الكويت	الإمارات	السعودية	عمان

(ج) صنف حقول النفط التالية حسب مكانها :-

ص 80

(بوحصا - دخان - الروضتين - عوالى - الغوار - ناطح - مريان - خريص - فهود - برقان)

الكويت	السعودية	البحرين	الإمارات	عمان	قطر

السؤال الثالث : عرف المفاهيم التالية :-

- 1 - الثقافة :
- ص 103
- 2 - الترانزيت :
- ص 87
- 3 - الصادرات :
- ص 87
- 4 - الواردات :
- ص 87
- 5 - الكثافة السكانية :
- ص 99
- 6 - الزيادة الطبيعية :
- ص 95
- 7 - السلالات:
- ص 91
- 8 - إنتاج النفط :
- ص 78
- 9 - احتياطي النفط :
- ص 78
- 10- الصناعة :
- ص 84
- 11 - الدخل القومي :
- ص 84
- 12 - الزراعة بدون تربة :
- ص 83
- 13 - بيوت بلاستيكية :
- ص 83

السؤال الرابع : علل لما يأتي (اذكر السبب)

- 1 - الزراعة قليلة في معظم دول الخليج؟
أ -
ب -
ص 81
- 2 - أهمية البيوت البلاستيكية؟
.....
ص 83
- 3 - ازدهار الصناعة في دول الخليج العربية؟
.....
ص 84
- 4 - انتعاش المواني التجارية في دول الخليج العربية وتجارة الترانزيت ؟
.....
ص 87
- 5 - تشابه الآثار الحضارية في منطقة الخليج العربية ؟
.....
ص 91
- 6 - استقر السكان في أطراف شبه الجزيرة العربية؟
.....
ص 92
- 7 - استقبل حوض الخليج العربي موجات سكانية من كل المناطق المجاورة ؟
.....
ص 93
- 8 - عدد السكان في الكويت ودول الخليج العربي في تزايد مستمر ؟
أ -
ب -
ص 95
- 9 - ازدياد أعداد الوافدين لدول الخليج العربية ؟
أ -
ب -
ص 96
- 10 - الكثافة السكانية تبدو منخفضة في منطقة الخليج العربية قديما ؟
.....
ص 98
- 11- التشابه الثقافي بين سكان دول الخليج العربي ؟
أ -
ب -
ج -
د -
ص 102
- 12 - وزع الحضارات التالية في مكانها :-**
ص 91

((دلمون - تاروت - هيلي - أم النار - ودبا))

قطر	البحرين	السعودية	عمان	الإمارات

السؤال الخامس : أجب عن الأسئلة التالية :-

1 - عدّد أهم المحاصيل الزراعية في دول الخليج العربي ؟

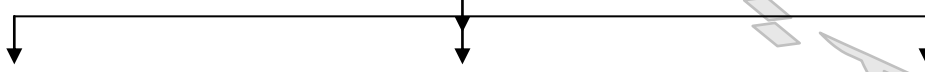
ص 82



.....

2 - اكتب أنواع الصناعات القائمة علي النفط في دول الخليج العربي؟

ص 85



.....

3 - اكتب أهم الصادرات والواردات لدول الخليج العربي :-

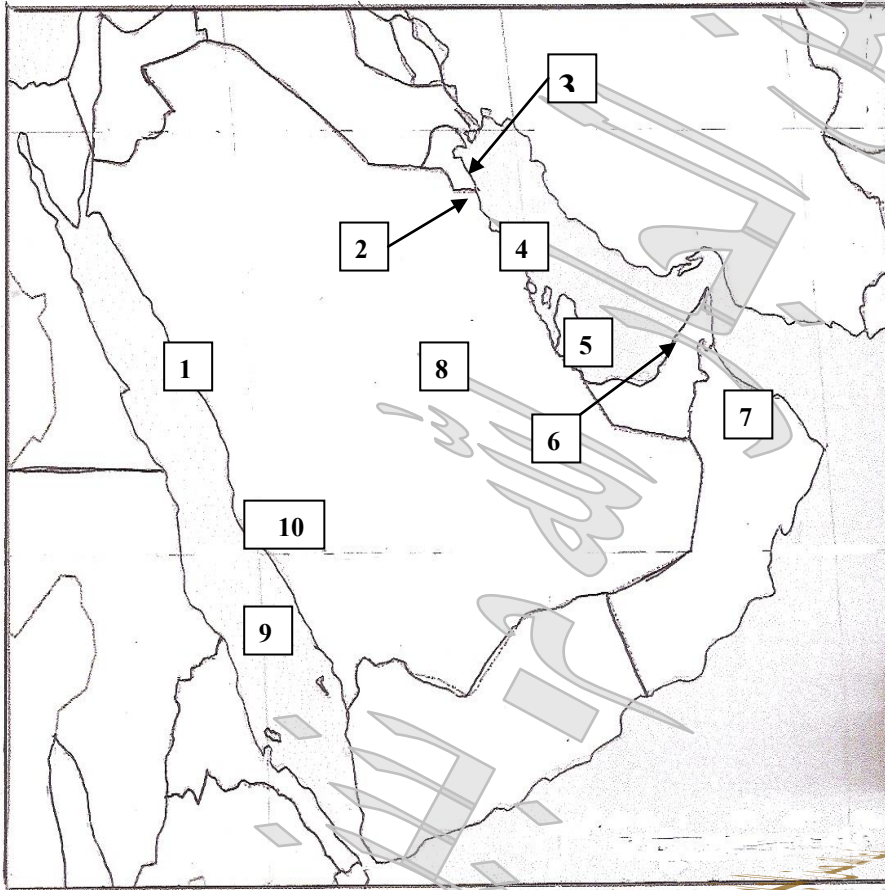
ص 87

الواردات	الصادرات

السؤال السادس : أمامك خريطة صماء لدول الخليج العربي ، اكتب مدلولات الأرقام التي عليها

(ص 80-81-86)

:-



1 -منطقة صناعية سعودية

علي البحر الأحمر

2 - منطقة زراعية جنوب

الكويت

3 - منطقة صناعية كويتية

.....

4 - منطقة صناعية سعودية

علي الخليج

5 - ميناء نفطى قطري

.....

6 - منطقة هاجر اليها القواسم

تسمى

7 - منطقة زراعية في

عمان

8 - أكبر حقول نفطي سعودي

.....

9- مسطح مائي يسمى

.....

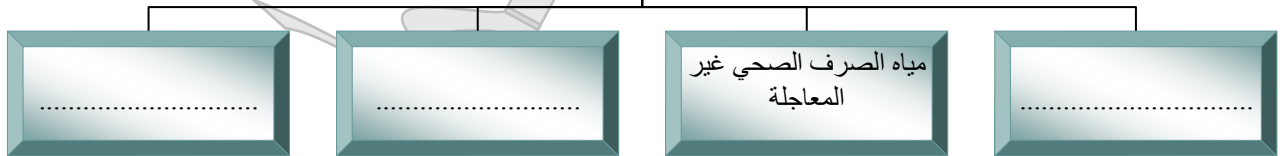
10- سهل يسمى

بداية الفترة الدراسية الرابعة

السؤال الأول : أكمل الفراغات التالية بما يناسبها :-

- 1 - قام النظام العراقي البائد بغزو دولة الكويت في يوم الخميس من عام ص 123
- 2 - تم إنشاء مكتب التربية العربي ومقرة في ص 114
- 3 - صدر إعلان الدوحة بشأن قيام السوق الخليجية المشتركة في يناير عام ص 114
- 4 - أنشأ مجلس التعاون الخليجي قوات درع الجزيرة عام ص 114
- 5 - احرق النظام العراقي البائد الآبار النفطية الكويتية البالغ عددها أكثر من ص 123
- 6 - شهدت منطقة الخليج العربية تغيرات كبيرة وسريعة بعد ظهور ص 125
- 7 - تبلغ نسبة المربيات الأميات والجاهلات بدول الخليج العربية ص 129
- 8 - يرى العلماء أن العنف يعتبر مرضا ص 131
- 9 - بلغت نسبة الطلاق في دولة الكويت عام 2006م ص 135
- 10 - الغز الذي سبب تلوث منطقة الشعبية يسمى عاز ص 119
- 11 - قم للمعلم وفه التبجيلا كاد المعلم أن يكون ص 132
- 12 - عناصر البيئة الرئيسية ماء وهواء و ص 117
- 13 - تربة ملوثة + إنتاج زراعي ملوث = خطر على الإنسان ص 118
- 14 - تربية الطفل الخاطئة + الإحباط يؤدي إلى ص 131

من أسباب التلوث
البحري

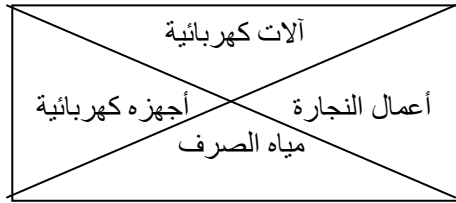


السؤال الثاني : (أ) صنف الكلمات التالية بما يناسبها في الجدول :- ص 113

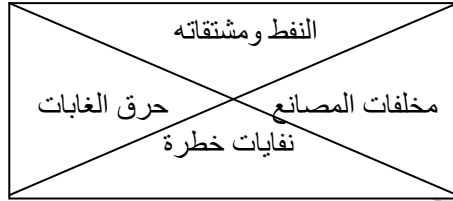
((توحيد المناهج التعليمية وتطويرها - زيادة التبادل التجاري - مناصرة قضية فلسطين - إنشاء مكتب التربية العربي - إنشاء قوة مشتركة - المواقف الموحدة تجاه المشكلات السياسية))

تعاون ثقافي	تعاون اقتصادي	تعاون عسكري	تعاون سياسي

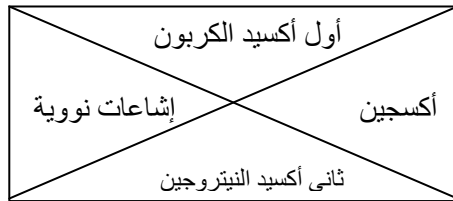
(ب) ظلل الكلمة التي لا تنتمي للمجموعة :- ص 121 - ص 122



1- أسباب تلوث الضوضاء



2- أسباب التلوث البحري



3- أسباب التلوث الهوائي

السؤال الثالث : (أ) صحح ما تحته خط :-

1- بلغت سبة الطلاق في مملكة البحرين 36% (.....) ص 135

2- يبلغ مجموع الإنفاق الشهري على الخادم الواحد 117% (.....) ص 129

- 3- حدثت حادثة منطقة الشعبية الصناعية في دولة الكويت عام 1977 (.....) ص119
4- مقر قوات درع الجزيرة في دولة قطر (.....) ص114
5- من أسباب العنف التربية الخاطئة والإحساس بالنضج (.....) ص134

(ب) عرف المفاهيم التالية :-

- 1- التلوث ص117
2- طبقة الأوزون ص119
3- التلوث المائي ص120
4- العمالة المنزلية ص126
5- العنف ص129
6- التلوث الأرضي (التربة) ص118

(ج) : أكتب تعليقا مناسباً على التصرفات التالية :-

- 1- متعلم يتعدى بالضرب على زميل له . ص132
2- متعلم لا يلتزم بالزى الرسمي للمدرسة . ص133
3- متعلم وهو يتعدى بالضرب أو الكلام على معلمة . ص133

السؤال الرابع (أ) ضع علامة (✓) أمام العبارة الصحيحة وعلامة (×) أمام العبارة الخاطئة فيما يأتي :-

- 1- يعتبر الرصاص من المعادن الخفيفة التي تسبب مخاطر صحية كبيرة () ص119
2- العاملة المنزلية تسببت في ظهور العديد من المشاكل بدول الخليج العربية () ص126
3- شملت التغيرات في المجتمعات الخليجية الجوانب الاجتماعية فقط () ص125
4- 64% من المربيات بدول الخليج العربية في الحالة العمرية 35 سنة فأقل () ص129
5- من أسباب العنف عدم استغلال وقت الفراغ وأصحاب السوء () ص134

6- بلغت نسبة عوادم السيارات بدولة الكويت 190 الف طن في السنة () ص 119

(ب) اقترح حلولاً للمشكلات التالية :- ص 117

التلوث الهوائي	التلوث الضوضائي	التلوث المائي	التلوث الأرضي

(ج) أكتب بعض النصائح لزملائك تحثهم فيها بالمحافظة على الثروة المائية ؟ ص 121


- أ-
- ب-

(د) هل للعنف أماكن محددة ؟ (فسر) ص 130

-
-

السؤال الخامس : أجب عن السائلة الآتية :-

1- وظائف العمالة المنزلية ص 126



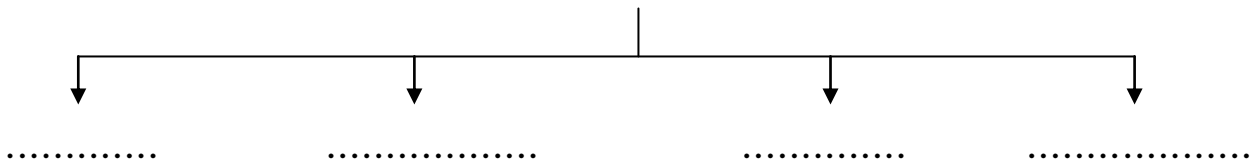
2- عدّد أهم مظاهر التعاون العسكري بين دول الخليج العربية ؟ ص113

- أ-
- ب-
- ج-

3- ما الفوائد المرجوة من التعاون بين دول الخليج العربية ؟ ص114

- أ-
- ب-

4- أنواع التلوث ص117



5- صنف الكلمات التالية في المربع التابع لها :-

(سيارات وطائرات - براكين - الصناعة - عواصف ترابية - حرق النفايات - مبيدات حشرية)

غير طبيعية	طبيعية

مع تحيات قسم الإجتماعيات لكم بالتوفيق والنجاح