

دول الخليج العربية تنمو سكانيا وتتشابه ثقافيا

السلالة السكانية:

- صنف المناطق الأثرية التالية في مكانها بالجدول:
(دلمون - هيلي - أم النار - دبا - تاروت)

الدولة	السعودية	قطر	الإمارات	البحرين	عمان
المنطقة الأثرية					

- صنف المناطق الأثرية السابقة من الشمال إلى الجنوب

- صح أم خطأ العبارات التالية:

1. أصول السلالات السكانية في الخليج العربي تنتمي إلى سلالة البحر المتوسط وشرق أفريقيا () .
2. ذكرت آثار دلمون في سلطنة عمان () .
3. تشابه الآثار الحضارية يدل على وجود اتصال وتقارب بين سكان الخليج العربي () .
4. البعثة الأثرية الأمريكية هي التي اكتشفت المناطق الأثرية في الخليج العربي () .
5. توجد آثار جزيرة فيلكا في دولة البحرين () .

الهجرات

- لاحظ الخريطة التالية ثم اجب عن الأسئلة:

- أكمل: الهجرات الخارجية القادمة من آسيا وأفريقيا وأوروبا تلتقي في

- أكمل: أطراف شبه الجزيرة العربية وحوض الخليج



العربي تمثل نوع من الهجرات يسمى

- حدد موقع الخليج العربي بوضع الرمز (// // // //) عليه.
- يربط الخليج العربي بين قارات العالم القديم وهي :
- قارة وقارة وقارة

• على الخريطة ضع الرموز التالية في مكانها الصحيح الذي يدل عليه:

- ❖ الرمز (x) يشير إلى قارة آسيا
- ❖ الرمز (+) يشير إلى قارة أوروبا.
- ❖ الرمز (#) يشير إلى قارة أفريقيا.
- ❖ ظلل حوض البحر المتوسط على الخريطة.
- ❖ أكتب اسم البحر الأحمر في مكانة الصحيح على الخريطة.
- ❖ من مفتاح الخريطة أذكر أنواع الهجرات السكانية:

❖ صح أم خطأ العبارات التالية:

- حوض الخليج العربي استقبل هجرات خارجية من آسيا وأفريقيا فقط () .
- الهجرات الداخلية خرجت من شبة الجزيرة العربية نحو ساحل الخليج العربي () .
- ❖ سجل أهم ملاحظتك عزيزي الطالب على الأسهم الواردة في الخريطة:

(1) الأسهم الحمراء:

(2) الأسهم الخضراء:

(3) ضع عنوانا للخريطة:

❖ علل: استقبل الخليج العربي موجات سكانية من كل المناطق المجاورة؟ .

علل: خرجت الهجرات العربية من قلب الجزيرة العربية إلى الساحل الغربي للخليج العربي؟ .

❖ قارن بين الهجرات الداخلية والهجرات الخارجية مع ذكر مثال من منطقة الخليج العربية:

الهجرات الخارجية	الهجرات الداخلية	أوجه المقارنة
.....	التعريف
.....	مثال

❖ بالاستعانة بالكتاب المدرسي صفحة (93) أجب عن التساؤلات التالية:

- أذكر عامل جذب سكاني لحوض الخليج العربي:.....
- أذكر عامل طرد سكاني في شبة الجزيرة العربية:.....

وزع الجماعات البشرية المهاجرة التالية في مكانها الصحيح بالجدول:

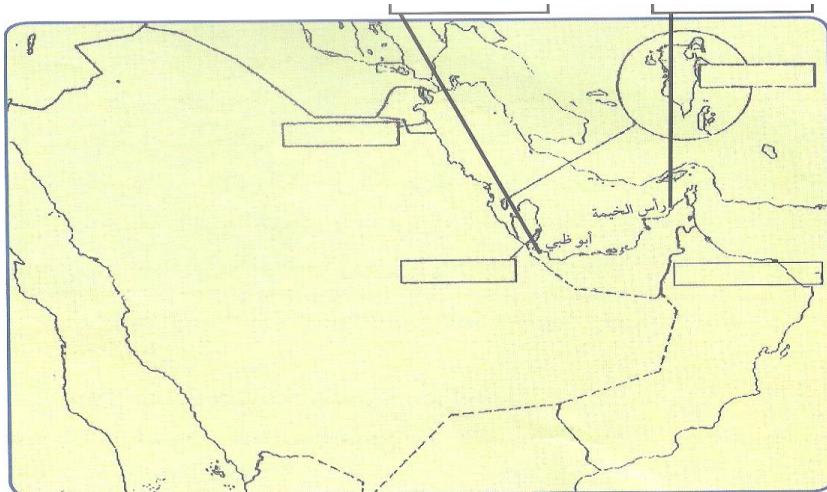
(آل الصباح ، آل خليفة ، المعزيد ، آل بوسعيد ، اليعاربة ، القواسم ، بني ياس)

الدولة	قطر	أبو ظبي	الكويت	عمان	رأس الخيمة	البحرين
الجماعة البشرية						

علي الخريطة التالية

- وزع الجماعات السكانية المهاجرة في مكانها الصحيح بالدول التي استقرت فيها.

- وزع الجماعات البشرية السابقة من أقصى الشمال إلى أقصى الجنوب:.....



(الكتاب المدرسي ص 95)

النمو السكاني

عرف النمو السكاني:

أكمل العبارات التالية

1. عدد سكان العالم بلغ عام 2005م حواليم نسمة
2. أكبر دول العالم من حيث عدد السكان هي وبلغ عدد سكانهامليار نسمة.
3. أقل دول العالم سكانا دولة تسمى وبلغ عدد سكانها نسمة وتقع في قارة



أنظر الصور السابقة ثم اجب عن الأسئلة التالية:

علل: عدد سكان الكويت في تزايد مستمر؟

.....
.....

الصورة علي اليمين تمثل:

الصورة علي اليسار تمثل:

❖ أختر الإجابة الصحيحة من بين الأقواس:

1. يزداد عدد الأفراد في الصورة علي اليمين عن طريق (الزيادة الطبيعية – الزيادة غير الطبيعية).
2. يزداد الأفراد في الصورة علي اليسار عن طريق (الزيادة الطبيعية – الزيادة غير الطبيعية).

▪ علل: ازدياد عدد السكان في منطقة الخليج العربية؟

.....

.....

❖ ما الفرق بين المفاهيم الجغرافية التالية:

الزيادة غير الطبيعية

الزيادة الطبيعية

❖ اختر التعليق المناسب ثم ضع التعليق أسفل كل صورة من الصور التالية :

السماح للوافدين باصطحاب عائلاتهم


ارتفاع الأجور

الأمن والأمان

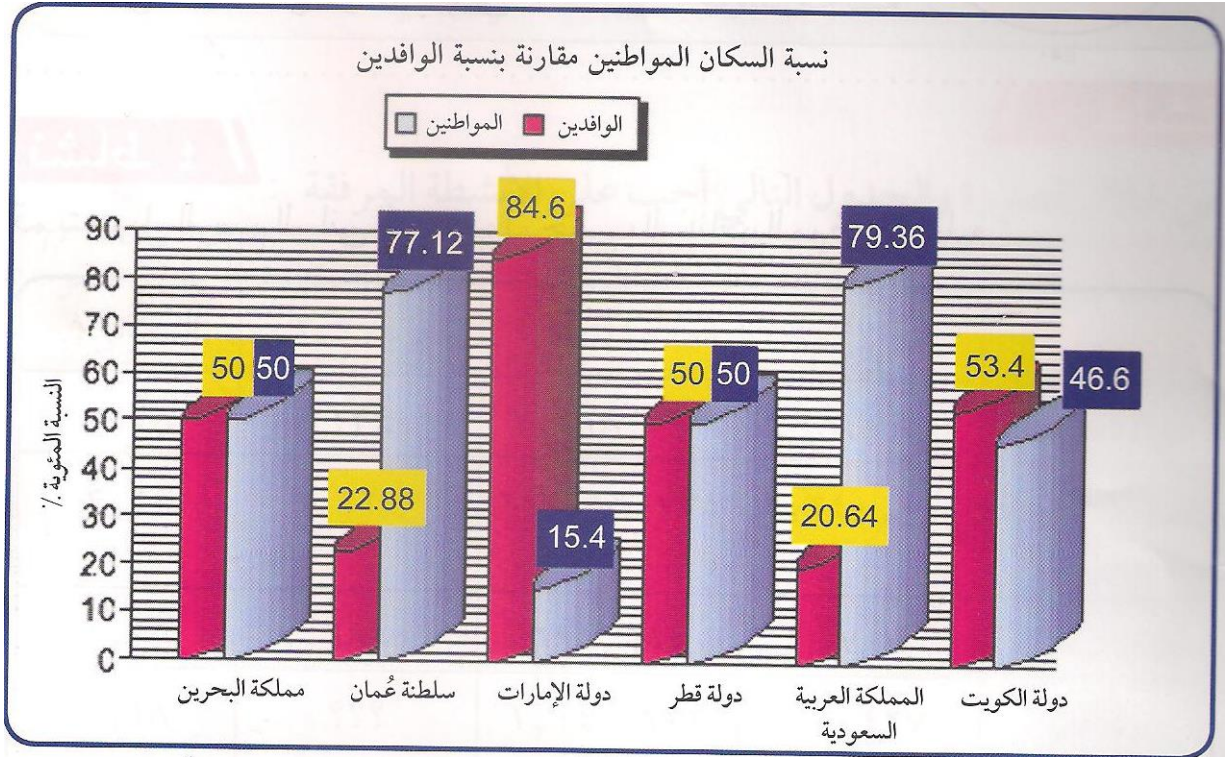
زيادة عدد المواليد

توفر الرعاية الصحية

توفر فرص العمل



❖ انظر الرسم البياني التالي ثم اجب عن الأسئلة التالية:



❖ أكتب عنوان مناسب للرسم البياني:

❖ صحح ما تحته خط:

1. أعلى دولة عربية خليجية في نسبة المواطنين هي الكويت. (.....)
2. أقل عمود في نسبة المواطنين تمثله دولة قطر. (.....)
3. أعلى نسبة للوافدين يتمثل في دولة خليجية هي عمان. (.....)

❖ ما هي أسباب هذه الزيادة في عدد الوافدين :

▪ رتب الدول العربية الخليجية تنازليا من حيث نسبة المواطنين:

▪ رتب الدول العربية الخليجية تنازليا من حيث نسبة الوافدين:

- ما هي اكبر دولة عربية خليجية في نسبة المواطنين:.....
- ما هي اصغر دولة عربية خليجية من حيث نسبة المواطنين:.....
- ما هي اكبر دولة عربية خليجية من حيث نسبة الوافدين:.....
- ما هي أصغر دولة عربية خليجية من حيث نسبة الوافدين:

❖ علي الرسم البياني الدائري المقابل ظلل نسبة الوافدين

في (سلطنة عمان / الكويت / قطر).

❖ استكمل الجدول التالي مستعينا بالرسم البياني:

م	الدولة	نسبة المواطنين	نسبة الوافدين
1	الكويت		
2	الإمارات		
3	عمان		
4	البحرين		
5	السعودية		
6	قطر		

❖ عزيزي الطالب سجل أهم ملاحظاتك على الرسم البياني السابق

.....

.....

.....

❖ أكمل العبارات التالية:

1. الكثافة السكانية في منطقة الخليج العربية
2. أصبحت منطقة الخليج العربية عامل جذب سكاني بعد اكتشاف
3. ازدهار نمو صناعة النفط وتسويقه يرجع إلي الموقع الجغرافي

4. ازدهار نمو صناعة النفط وتسويقه ساعد علي

الكثافة السكانية

عرف الكثافة السكانية:

❖ أنظر الجدول التالي ثم اجب عن الأسئلة التالية:

اسم الدولة	المساحة ١٠٠٠ كم ^٢	عدد السكان ١٠٠٠ (نسمة)	الكثافة السكانية فرد / كم ^٢	معدل النمو السكاني %
دولة الكويت	١٨,٠٠٠	٢,٤١٨,٣٩٣	١٣٤	٣,٣٨
المملكة العربية السعودية	٢,٢٤٠,٠٠٠	٢٧,٠١٩,٧٣١	١٢	٣,٢٧
مملكة البحرين	,٧٠٧	٦٩٨,٥٨٥	٩٨٨	١,٧٣
دولة قطر	١١,٤٢٧	١,٠٤١,٧٣٣	؟؟؟	٣,١٨
دولة الإمارات	٨٣,٦٠٠	٥,٦٣١,١٣٥	٦٧	١,٥٩
سلطنة عُمان	٣٠٩,٥٠٠	٢,٦٢٢,١٩٨	٨	٣,٤٣

رتب الدول العربية الخليجية ترتيباً تنازلياً من حيث عدد السكان:

- أكمل: دولة عربية خليجية تحتل المركز الأول في عدد السكان هي
- أكمل: دولة عربية خليجية تحتل المركز السادس في عدد السكان هي
- صح أم خطأ
- أكثر دولة خليجية في الكثافة السكانية هي دولة الكويت وأقلها البحرين.
- احسب الكثافة السكانية في دولة قطر وسجلها.

• لاحظ الكثافة السكانية في دولتي البحرين والسعودية: ماذا تستنتج:

.....

.....

• ماذا تلاحظ على النمو السكاني في دولة الكويت:

.....

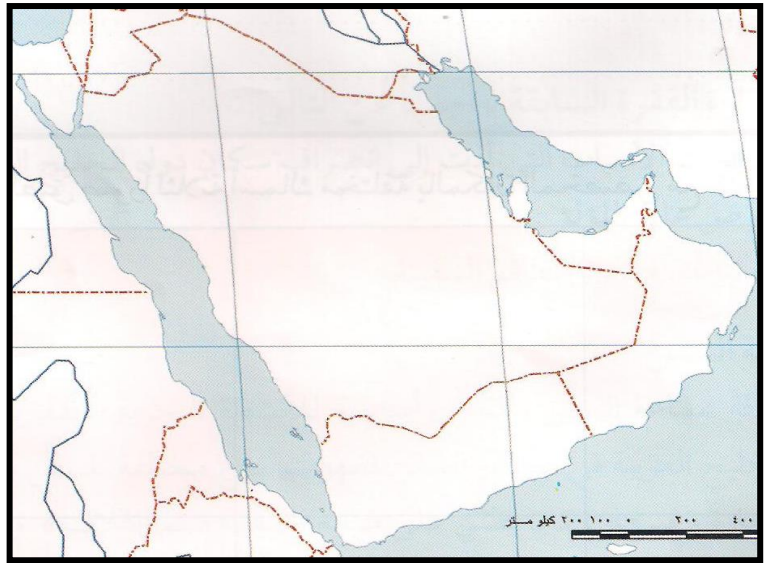
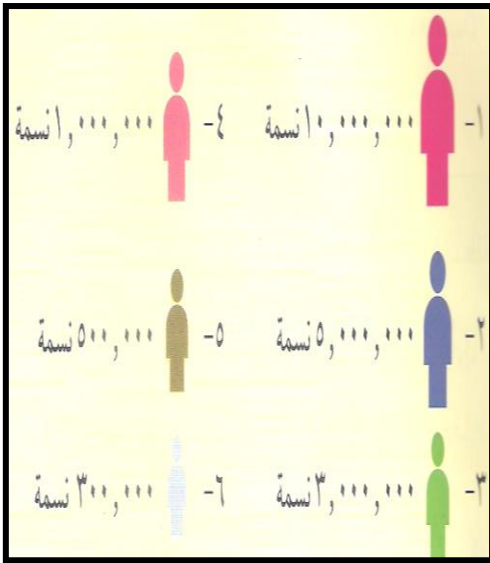
.....

• رتب الدول العربية الخليجية تنازليا من حيث النمو السكاني:

.....

.....

❖ على الخريطة الصماء وزع أعداد السكان مستعينا بالرموز التالية:



..... عدد السكان في دول الخليج العربية:

.....

❖ أكمل العبارات التالية:

1. أعلى كثافة سكانية في العالم توجد في دولة في قارة وتبلغ الكثافة ألف نسمة/كم²

2. أقل كثافة سكانية في العالم توجد في دولة في قارة وتبلغ الكثافة نسمة/كم².

عرف الثقافة:



.....

.....

التشابه الثقافي بين سكان دول الخليج العربية

❖ ما هي الروابط التي تربط بين سكان دول الخليج العربية ؟

❖ ضع تعليقا للصور التالية:



أكتب حقيقة هذه الصور:

❖ أكمل العبارات التالية بالكلمات المناسبة:

1. دول الخليج العربية مجموعة متشابهة من السكان ينتمون إلي أصول عربية
2. الأصول السكانية لدول الخليج العربية من شبة الجزيرة العربية وهاجرت إلي
3. أدي التشابه الثقافي بين دول الخليج العربية إلي إطلاق العرب علي سكان المنطقة لفظ
4. العاملون في مجتمع الغوص يمثلون قيمة كبيرة تسمى
5. الدين الأساسي لسكان شبة الجزيرة العربية هو

6. لغة سكان دول الخليج العربية واحدة هي

7. تعرضت الكويت للغزو العراقي الغاشم عام.....

❖ ضع المصطلح المناسب أمام العبارات التالية:

1. (.....) مجموعة العادات والتقاليد والأخلاقيات في المجتمع.

2. (.....) ترديد كلمات مختلفة لها نفس المعني.

3. (.....) وسيلة التفاهم بين أفراد المجمع والحفاظ علي ونقل التراث.

❖ أوجد حلا للمعادلات الآتية:

1. عدد المواليد - عدد الوفيات =

2. الأمن والأمان + ارتفاع الأجور + توفر فرص العمل =

3. اللغة + العادات والتقاليد + التاريخ المشترك =

4. الهجرات الوافدة - الهجرات النازحة =

5. عدد السكان ÷ مساحة الدولة =

(ب) اختر البديل المناسب من بين البدائل التي تلي كل عبارة وضع تحته خط:

1- استقلت دولة الكويت في عهد الشيخ :

صباح الأحمد	جابر الأحمد	عبد الله سالم	مبارك الصباح
-------------	-------------	---------------	--------------

2- بداية موسم الغوص تسمى :

القفال	القلاف	شوعى	الدشة
--------	--------	------	-------

3- الدولة الخليجية التي لم تخضع للاستعمار البريطاني تسمى:

الإمارات	البحرين	السعودية	الكويت
----------	---------	----------	--------

4- يبلغ عدد دول الخليج العربي:

8 دول	7 دول	6 دول	5 دول
-------	-------	-------	-------

5- المسطح المائي الذي أطلق عليه اسم بحر شروق الشمس :

بحر العرب	البحر الأحمر	الخليج العربي	خليج عمان
-----------	--------------	---------------	-----------

ضع علامة صح للعبارات الصحيحة وعلامة خطأ للعبارات الخاطئة وذلك بين القوسين

1. ساهم سكان منطقة الخليج العربية في نشر الإسلام في جنوب شرق آسيا ()
2. كانت اتفاقية الحماية عام 189 بين الكويت وألمانيا ()
3. الدولة الخليجية التي لم تخضع للاستعمار البريطاني هي السعودية ()
4. من الهجرات القديمة للخليج العربي هجرة القواسم إلى رأس الخيمة ()
5. يبلغ عدد دول مجلس التعاون لدول الخليج العربية سبع دول ()
6. الكويت هي أول دولة خليجية نالت استقلالها من الاستعمار البريطاني ()
7. ثلاث دول خليجية فقط خضعت للاستعمار البريطاني ()
8. استقر آل البوسعيد في عمان ()
9. لعب الخليج العربي دور الوسيط التجاري بين الشرق والغرب ()
10. نزل الوحي على الرسول صلى الله عليه وسلم في غار ثور ()
11. ظهر الإسلام في القرن الميلادي السابع ()
12. يطلق اسم النوخذه على تاجر اللؤلؤ ()
13. تعتبر الأغنام والماعز من الحيوانات المفترسة ()

14. سفينة البغلة من أفضل أنواع السفن المستعملة في السفر ()
15. يبدأ موسم الغوص في دول الخليج العربية في شهر يونيو (6) ()
16. سميت حضارة البحرين القديمة باسم حضارة مجان ()
17. تعتبر دولة الكويت هي أول دول الخليج العربية التي استقلت عن بريطانيا ()
18. تعتبر حرفة الغوص على اللؤلؤ حرفة سهلة ()
19. أكبر الدول الخليجية مساحة الإمارات العربية المتحدة ()
20. نمارس هواية السباحة إذا كان الماء مدا ()
21. الجهات الفرعية أربعة جهات ()

❖ صحح ما تحته خط واكتب الصحيح بين القوسين :

- 1) يطلق على صانع السفن قديما اسم التباب (.....)
- 2) الدولة العربية الخليجية التي لم تخضع للاستعمار هي قطر (.....)
- 3) استقلت سلطنة عمان من الاستعمار البريطاني في عام 1981م (.....)
- 4) أولى الدول الاستعمارية الأوربية التي وصلت إلى منطقة الخليج العربية بريطانيا (.....)
- 5) عقدت اتفاقية الحماية مع بريطانيا في عام 1890م (.....)
- 6) أعلن قيام السوق الخليجية المشتركة عام 2007 (.....)
- 7) ساهم سكان منطقة الخليج العربية في نشر الإسلام في جنوب غرب آسيا (.....)
- 8) أول دولة استعمارية وروبية دخلت الخليج العربي هي انجلترا (.....)

9) تسمى بداية موسم الغوص بالقفال (.....)



❖ أكتب أسماء دول الخليج العربية علي الخريطة السابقة: