

مراجعة الاختبار التقيني الأول الصف السادس

تجميع المعلمتين : فاطمة الشمري ، ابرار الحسيني

رئيسة القسم : أ . منى دشتي
الموجهة الفنية : أ . نوال العنزي
مديرة المدرسة : أ . عايشة الحساوي

المتوسط الحسابي The Mean

٣-١

تمرّن :

١ أوجد المتوسط الحسابي لكل مجموعة من البيانات التالية:

ب ٦٤ ، ٧٢ ، ٥٦

أ ٣ ، ١ ، ١٥ ، ٩

..... = المتوسط الحسابي

..... = المتوسط الحسابي

..... =

..... =

الأجور المتقاضة في
الساعة بالدينار لقاء الاهتمام بالحدائق

٨	خالد
٩	مبارك
٥	يوسف
٩	عمر
٤	فيصل

٢ من الجدول المقابل أوجد ما يلي:

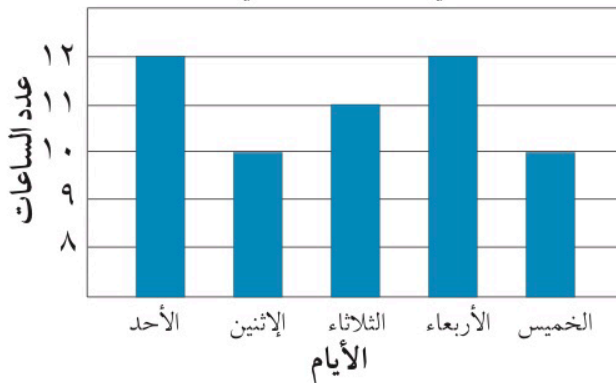
..... = المتوسط الحسابي

..... = الوسيط

..... = المنوال

..... = المدى

عدد الساعات التي يقضيها ناصر في تدريب الخيول



٣ من التمثيل البياني المقابل أوجد:

..... = المدى

..... = الوسيط

..... = المنوال

..... = المتوسط الحسابي

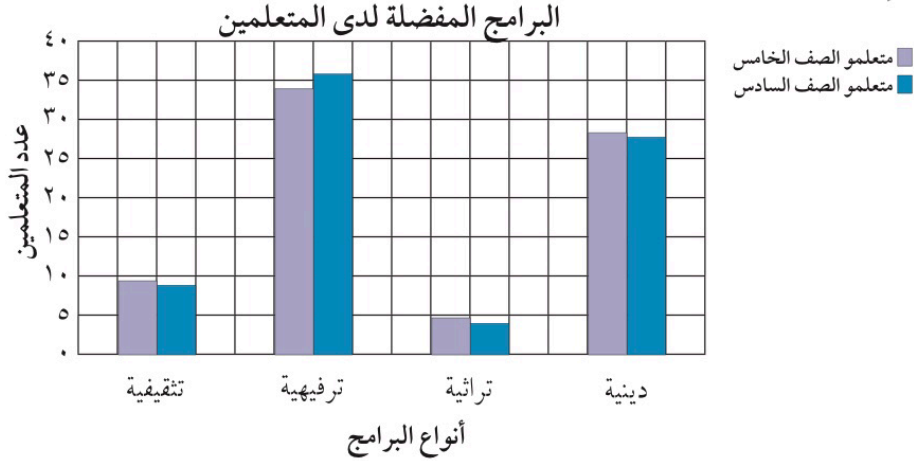


قراءة التمثيلات البيانية بالأعمدة والأعمدة المزدوجة وصنعها

Reading and Making Bar and Double Bar Graphs

٥-١

١- اِسْتِخْدِمِ التَّمثِيلَ البَيَانِيَّ بِالْأَعْمَدَةِ المُرْدَوْجَةِ أَدْنَاهُ لِتَحْلُلِ التَّمَارِينِ مِنْ ٤ إِلَى ٦.



٤ ما نَوْعُ البَرَامِجِ الْأَكْثَرَ تَفْضِيلاً لَدَى مَتَعَلْمِي الصَّفِّينِ الْخَامِسِ وَالسَّادِسِ؟

٥ كَمْ يَزِيدُ عَدَدُ مَتَعَلْمِي الصَّفِّ الْخَامِسِ الَّذِينَ يُفَضِّلُونَ البَرَامِجَ الدِّيْنِيَّةَ عَنِ عَدَدِ

مَتَعَلْمِي الصَّفِّ السَّادِسِ الَّذِينَ يُفَضِّلُونَ هَذَا التَّوْنِعَ مِنَ البَرَامِجِ؟

٦ ما نَوْعُ البَرَامِجِ الَّذِي يُفَضِّلُهُ العَدَدُ نَفْسُهُ تَقْرِيبًا مِنْ مَتَعَلْمِي الصَّفِّينِ؟

٧ اِسْتِخْدِمِ الجَدْوَلَ أَدْنَاهُ لِصُنْعِ تَمثِيلِ بَيَانِيٍّ بِالْأَعْمَدَةِ المُرْدَوْجَةِ.

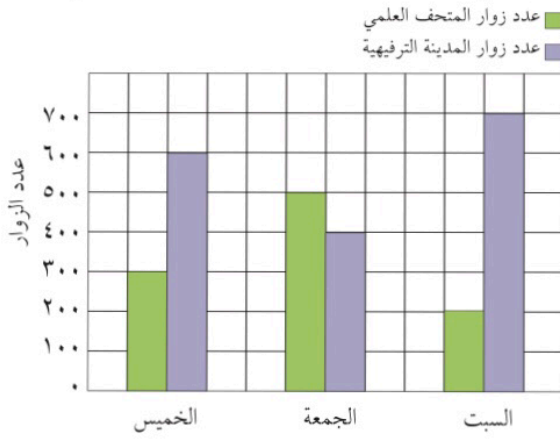
عَدَدُ الَّذِينَ يَقْرَوْنَ الْقُرْآنَ		
الفصلُ	قَبْلَ الظُّهْرِ	بَعْدَ الظُّهْرِ
سادسٌ «أَوَّلُ»	٢٠	١٠
سادسٌ «ثَانٍ»	٢٤	٦
سادسٌ «ثَالِثٌ»	١٥	٧
سادسٌ «رَابِعٌ»	١٨	٥
سادسٌ «خَامِسٌ»	١٦	١٢

الأسئلة الموضوعية :

- ١ إذا كان المتوسط الحسابي لمجموعة قيم هو ٣٢ ومجموع هذه القيم يساوي ١٩٢ ، فإن عدد هذه القيم يساوي:
- أ) ٢ ب) ٤ ج) ٥ د) ٦

- ٤ إذا كان مجموع خمس قيم هو ٦٥ ، فإن متوسطها الحسابي هو :
- أ) ٥ ب) ١٠ ج) ١٣ د) ١٥

- ٩ التمثيل البياني أدناه يبين عدد زوار كل من المتحف العلمي والمدينة الترفيهية خلال أيام الخميس والجمعة والسبت. مقدار زيادة عدد زوار المدينة الترفيهية عن عدد زوار المتحف العلمي يوم السبت هو:



- أ) ٢٠٠ زائر
ب) ٣٠٠ زائر
ج) ٤٠٠ زائر
د) ٥٠٠ زائر

جَمْعُ الأَعْدَادِ الكَلِيَّةِ وَالْأَعْدَادِ العَشْرِيَّةِ

Adding Whole Numbers and Decimals

٦-٢

تمرّن :

١ أوجد ناتج ما يلي :

$\begin{array}{r} 17,0 \\ 3,7 \\ \hline \end{array} +$	$\begin{array}{r} 5,67 \\ 38,09 \\ \hline \end{array} +$	$\begin{array}{r} 317205 \\ 913040 \\ 4235 \\ \hline \end{array} +$	$\begin{array}{r} 13005 \\ 8472 \\ \hline \end{array} +$
--	--	---	--

٢ $1 + 0,98 + 16,7 + 0,999$

٣ $0,05 + 20 + 0,75 + 15,3$

٤ $9 + 24,65 + 0,435 + 10005$

طَرْحُ الأَعْدَادِ الكَلِّيَّةِ والأَعْدَادِ العَشْرِيَّةِ

Subtracting Whole Numbers and Decimals

٧-٢

أوجدِ النَّاتِجَ :

$$\begin{array}{r} 79813 \\ - 68007 \\ \hline 10006 \end{array}$$

ج

$$\begin{array}{r} 9384 \\ - 8795 \\ \hline 589 \end{array}$$

ب

$$\begin{array}{r} 6187139 \\ - 7139 \\ \hline 6115799 \end{array}$$

أ

$$1 - 5,678$$

٨

$$\begin{array}{r} 158200 \\ - 119678 \\ \hline 48522 \end{array}$$

٢

$$2,48 - 24,8$$

١١

$$\begin{array}{r} 4,7 \\ - 0,92 \\ \hline 3,78 \end{array}$$

٥

$$0,3333 - 0,9$$

١٢

ضرب الأعداد العشرية Multiplying Decimals

٣-٣

$$٤,٠٨ \times ٥,٧٦ \quad ١١$$

$$٤,٢ \times ٢٣ \quad ١٠$$

$$١٥,٧ \times ٣,١٦ \quad ١٣$$

$$٠,٠٣٨ \times ٠,٦٢ \quad ١٢$$

$$٢١ \times ٤٢,٧ \quad ١٥$$

$$٠,٠٣ \times ٦,٢١ \quad ١٤$$

$$٠,٠٧ \times ٥,٠٣ \quad ١٧$$

$$٤,٣٦ \times ٢,٦٣٧ \quad ١٦$$



$$٠,٠٧ \times ٦ \quad ٧$$

$$٥,٧ \times ٩ \quad ٩$$

الأسئلة الموضوعية :
ظلي أ اذا كانت الإجابة صحيحة و ب اذا كانت الإجابة
خاطئة :

ب	أ	٢ $٤١ = ١,٤ - ٥٥$
ب	أ	٣ $٤,٥ - ٨ > ٠,٧ + ٢,٥$
ب	أ	٤ $٧ = ٠,٤ \div ٢,٨$

اختاري الإجابة الصحيحة :

$(٠,٢ + ٠,٣) - ٠,٩ = ٠,٨$ (أ) $٠,٥$ (ب) $٠,٤$ (ج) $٠,٣$ (د)