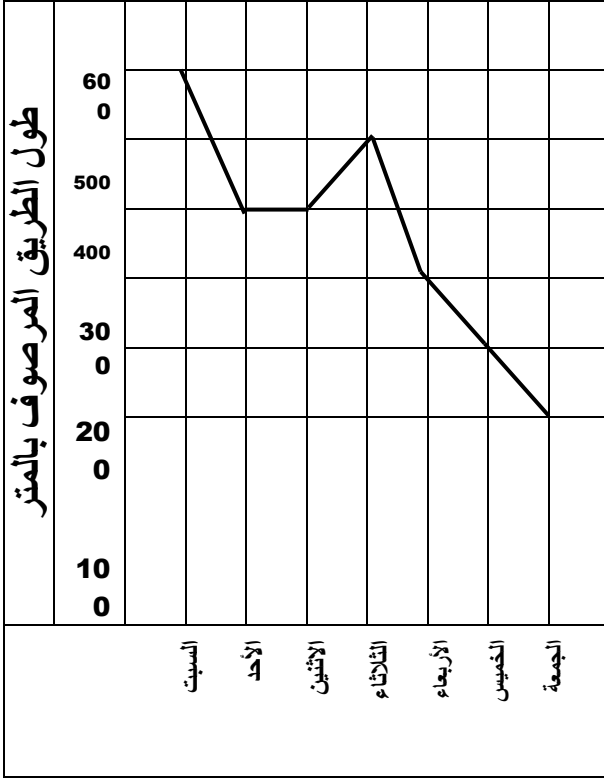


مراجعة الوحدة الأولى (الصف السابع)



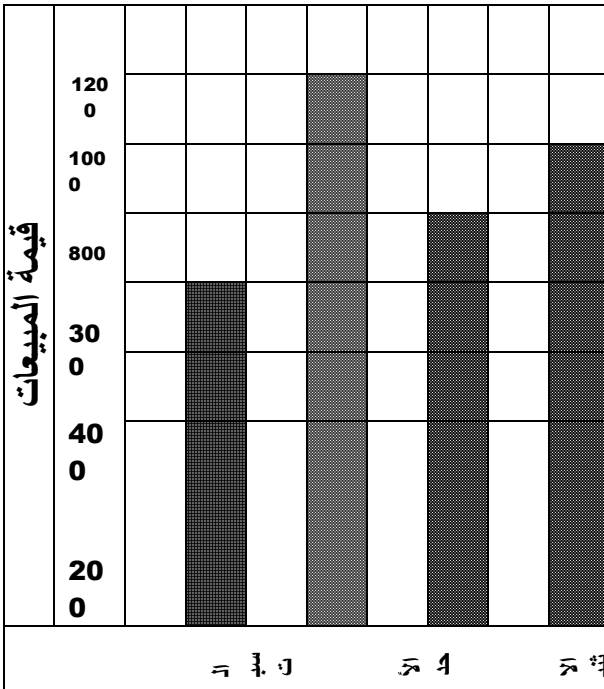
التمثيل البياني الذي أمامك يمثل رصف طريق خلال أسبوع
أجب عن الأسئلة التالية

أي الأيام أكثر رصفاً؟

تم رصف **300** متر يوم

كم متراً تم رصفه يوم الثلاثاء

طول الطريق بأكمله =



التمثيل البياني يمثل مبيعات أحد المراكز التجارية بالدينار

ما نوع التمثيل الذي أمامك؟

قيمة المبيعات يوم الثلاثاء =

أقل قيمة للمبيعات كان يوم

أكثر قيمة للمبيعات كان يوم

مجموع المبيعات في الأربعة أيام =

من البيانات التالية :

7 ، 1 ، 7 ، 4 ، 9 ، 2 ، 5

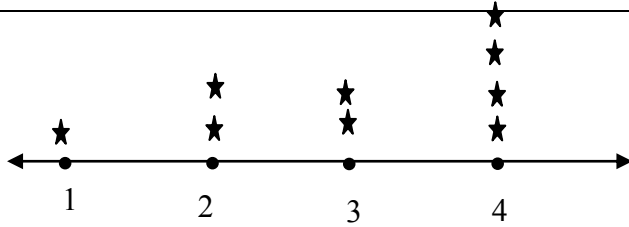
أوجد كلاً من :

= المدى

= الوسيط

= المنوال

= المتوسط الحسابي



من التمثيل بالنقاط المجموعة الذي أمامك أوجد

= المنوال

= الوسيط

= المدى

= المتوسط الحسابي

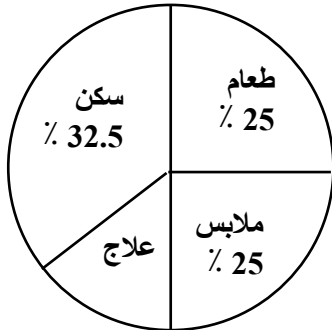
كون مخطط الساق والأوراق

14 ، 10 ، 4 ، 11 ، 29 ، 21 ، 8 ، 10 ، 13

كون مخطط النقاط المجموعة للبيانات

1 ، 2 ، 5 ، 3 ، 3 ، 1 ، 1 ، 4 ، 2 ، 3 ، 1 ، 4

استخدم التمثيل البياني بالدائرة الذي أمامك والذي يمثل جوانب الصرف لأسرة للإجابة عما يلي
(1) ما هي النسبة المئوية لمصاريف العلاج ؟



(2) أي الجوانب تصرف فيها الأسرة أكثر ؟

(3) أي الجوانب تصرف فيها الأسرة أقل ؟

(3) إذا كان دخل الأسرة 800 دينار ، كم تصرف في الطعام

