

وزارة التربية
الإدارة العامة لمنطقة الفروانية التعليمية
مدرسة رقية بنت محمد ﷺ المتوسطة بنات



مفهوم الوطن العربي

مساحة واسعة من الأرض تمتد ضمن قارتي آسيا وأفريقيا ويرتبط بالقارات الكبرى الثلاث.

مجموعة الدول العربية التي يجمعها السمات المشتركة مثل الدين واللغة ويمتد ضمن قارتين آسيا وأفريقيا

أكمل التالي:

- ١- يمتد الوطن العربي ضمن قارتي آسيا وأفريقيا.
 - ٢- اللغة الرسمية للدول العربية تسمى اللغة العربية.
 - ٣- الدين الذي يجمع الدول العربية هو الدين الإسلامي.
 - ٤- يضم الوطن العربي ٢٢ دولة عربية.
 - ٥- تبلغ مساحة الوطن العربي ١٣.٥٠٠ مليون كم.
 - ٢- دولة عربية تتكون من اتحاد جزر تسمى جمهورية جزر القمر وعاصمتها تسمى موروني.
 - ٤- انضمت جمهورية جزر القمر التي كانت الدولة العربية ١٩٩٣
 - ٥- تمثل مساحة الوطن العربي من جملة مساحة العالم حوالي ١٠٪
 - ٦- القارة المجاورة لقارتي آسيا وأفريقيا تسمى قارة أوروبا
 - ٧- أكبر الدول العربية في الجناح الآسيوي هي السعودية وأصغرهم هي البحرين
 - ٨- أكبر الدول العربية في الجناح الأفريقي هي الجزائر وأصغرهم هي جيبوتي
 - ٩- ينفصل الجناح العربي الآسيوي عن الجناح العربي الأفريقي عن طريق البحر الأحمر
- أجب على الأسئلة التالية:

١- عددي مقومات الهوية العربية أ- الدين ب- اللغة ج- الأهداف المشتركة د- وحدة التراث

موقع الوطن العربي وحدوده

عرف التالي:

١. المسطحات المائية: جميع أشكال المياه على سطح الأرض مثل المحيطات والبحار...
٢. القناة مجرى مائي صناعي ضيق يشق لأغراض الري والنقل.
٣. المضيق: ممر مائي ضيق يصل بين بحرين أو محيطين أو أي مساحتين كبيرتين نسبياً من الماء.
٤. الموقع الاستراتيجي للوطن العربي: هو أي موقع ذات مكانة مهمة بين دول العالم
٥. الموقع الفلكي: هو نقطة من الكرة الأرضية يتحدد موقعها بالنسبة لدوائر العرض وخطوط الطول.
٦. الموقع النسبي: موقع الدولة بالنسبة لليابسة والماء.
٧. خطوط الطول ودوائر العرض: هي عبارة عن خطوط وهمية طولية وعرضية ترسم على مجسم الكرة الأرضية وعلى الخرائط.

اكمل التالي:

١. المسطح المائي الذي يحد الوطن العربي من الغرب يسمى المحيط الأطلسي
٢. يقع الوطن العربي بالنسبة لقارة آسيا في جهة جنوب غرب قارة آسيا
٣. يقع الوطن العربي بالنسبة لقارة إفريقيا شمال وشمال شرق قارة إفريقيا

صنف الكلمات حسب مكانها في الجدول:

تركيا / المحيط الأطلسي / البحر المتوسط / ايران / الخليج العربي

| البحرية | البرية | حدود الوطن العربي |
|----------------|--------|-------------------|
| البحر المتوسط | تركيا | الشمال |
| الخليج العربي | ايران | الشرق |
| المحيط الأطلسي | | الغرب |



بما تفسر التالي:

- ١/ الوطن العربي يملك أهمية اقتصادية. لأنها منطقة عبور لحركة الملاحة والتجارة العالمية. لظهور النفط بكميات كبيرة
- ٢/ للوطن العربي أهمية حضارية وثقافية. قامت على ارض الوطن العربي حضارات عديدة. هيكل على أرضه الديانات السماوية الثلاثة
- ٣/ تنافس الدول الاستعمارية في الاستيلاء على الوطن العربي منذ القرن الثامن عشر الميلادي (الجغرافية) أ. لأهمية موقع الوطن العربي الاستراتيجي. لأنه يتحكم في منافذ التجارة العالمية ج. يطل على ثلاث مسطحات مائية ذات أهمية للملاحة والتجارة العالمية

ملامح السطح في الوطن العربي

لمج صل بين الكلمة والمفهوم الدال عليها:

| | | |
|--|---|------------|
| ارض مرتفعة سطحها مستو وتمتد على مساحة كبيرة | ٤ | ١ التضاريس |
| أشكال سطح الأرض من مرتفعات ومنخفضات | ١ | ٢ السهول |
| كل ما ارتفع من الأرض ولا يصل ارتفاعه الى ١٠٠٠ متر | ٥ | ٣ الجبل |
| مساحة من سطح الأرض تتميز باستوائها وقلّة ارتفاعها. | ٢ | ٤ الهضبة |
| :كل ما ارتفع من الأرض له قمة لا يقل عن ١٠٠٠ متر | ٣ | ٥ التل |

| الجناح الأفريقي | | الجناح الآسيوي | |
|--------------------------------|---------------------------|---------------------------------|---------------------------|
| اسم الدولة التي يقع فيها الجبل | اسم الجبل | اسم الدولة التي يقع فيها الجبل | اسم الجبل |
| المغرب و الجزائر و تونس | جبال أطلس | عمان | الجبل الأخضر |
| مصر والسودان | جبال البحر الأحمر الغربية | العراق | كردستان |
| الجزائر | جبال الأحجار | السعودية واليمن | جبال البحر الأحمر الشرقية |
| السودان | جبال مرة | سوريا و لبنان و فلسطين و الأردن | جبال بلاد الشام |

اكمل التالي :

- ١/ من اكثر أشكال التضاريس في الوطن العربي انتشارا هي الهضاب.
 ٢/ هضبة نجد تقع في دولتا اسمها السعودية .
 ٣/ يعتبر من اهم الأنهار في الجناح الاسيوي بالوطن العربي نهر الفرات.
 ٤/ مظهر تضاريسي يشغل مساحات واسعة تمتد من أقصى الشرق الى أقصى الغرب وتغطي معظم أرجاء الوطن العربي يسمى الهضاب
- أجب على الأسئلة التالية :**

| | |
|---------------------------------|--|
| ٢- أذكرى جبال الوطن العربي | أ- سلسلة جبال أطلس في المغرب العربي ب- سلسلة جبال البحر الأحمر ج- سلسلة جبال بلاد الشام د- مجموعة الجبال المتفرقة مثل جبال عمان |
| ٣- عددي الهضاب في الوطن العربي؟ | أ- هضبة شبة الجزيرة العربية و بلاد الشام ب- هضبة (الصحراء الكبرى) هضبة الشطوط |

عرف التالي :

السهول الفيضية (النهرية) : هي الأراضي المنخفضة التي تكونت من التربة التي حملتها مياه الأنهار
السهول الساحلية: هي الأراضي المنبسطة التي تجاور سواحل البحار والمحيطات

| اهم السهول في الوطن العربي في الجناح الافريقي | | |
|---|--------|---|
| اسم السهل | نوعه | الدول التي يقع فيها السهل |
| سهول نهر النيل | فيضيه | مصر والسودان |
| سهول نهري جوبا وشيلي | فيضيه | الصومال |
| سهل نهر مجردة | فيضيه | تونس |
| نهر الشليف | فيضيه | الجزائر |
| سهل نهر ام الربيع - نهر السوس - نهر ملوية | فيضيه | المغرب |
| سهول البحر الأحمر الغربية | ساحلية | السودان و مصر والصومال |
| المحيط الاطلسي | ساحلية | المغرب وموريتانيا |
| سهل البحر المتوسط | ساحلية | سوريا و لبنان وفلسطين المحتلة ومصر وليبيا و تونس والجزائر والمغرب |

| اهم السهول في الوطن العربي في الجناح الاسيوي | | |
|--|--------|---------------------------|
| اسم السهل | نوعه | الدول التي يقع فيها السهل |
| سهول دجلة والفرات | فيضيه | العراق |
| نهر العاص | فيضيه | سوريا / لبنان |
| نهر الاردن | فيضيه | الاردن |
| سهل الخليج العربي | ساحلية | دول الخليج العربية |
| سهل المحيط الهندي . | ساحلية | الصومال / جزر القمر |
| سهل البحر الأحمر | ساحلية | الاردن والسعودية واليمن |




المناخ في الوطن العربي
أ - ما المقصود بالمناخ ؟ و ما الفرق بين الطقس والمناخ ؟

عرف التالي:

الضغط الجوي : وزن الهواء فوق أي مكان .
الإقليم : يعني منطقة أو مكان

| | |
|------------------------------------|----------------------------------|
| الطقس | المناخ |
| هو حالة الجو في مكان ما لمدة قصيرة | حالة الجو خلال فترة زمنية طويلة. |

أكمل المخطط السهمي التالي عناصر المناخ



لجعدد العوامل التي تؤثر في مناخ الوطن العربي
أ. الموقع بالنسبة لدوائر العرض ب. القرب أو البعد عن المسطحات المائية ج. التضاريس د. الرياح
بما تفسر التالي : (علل)

١/ الأماكن القريبة من خط الاستواء تتميز بارتفاع درجات حرارتها على مدار أيام السنة
- وذلك بسبب القرب أو البعد عن خط الاستواء

٢/ ارتفاع الحرارة في وسط الوطن العربي صيفا
لان الشمس تكون عمودية على المنطقة الواقعة بين خط الاستواء ومدار السرطان

٣/ ارتفاع الحرارة جنوب الوطن العربي شتاء
لان الشمس تكون عمودية على المنطقة الواقعة بين خط الاستواء ومدار الجدي.

٤/ اذا مرت الرياح على بحار محملة ببخار الماء قد يسبب سقوط الأمطار أو ارتفاع نسبة الرطوبة
وإذا كانت تهب من منطقة جافة فإنها لا تسقط مطرا
لان الرياح تأخذ صفة المنطقة التي تمر بها .

| اسم الرياح | الدولة |
|-------------------|--------------------|
| الشرقية | العراق |
| الطوز | الكويت |
| السموم - الطوز | السعودية |
| الخماسين | مصر |
| الهبوب | السودان |
| القبلي | ليبيا |
| السيركو والسولانو | دول المغرب العربي. |

ضع دائما صورتك التي تريد أن تكون عليها في
عقلك ومخيلتك ، و ستتحقق تدريجيا نحوها ... إذا
لم تهزم نفسك ، ستهزمك نفسك ... سلم النجاح لا
يعني من الازدحام في اعلاه



نابليون هيل

صنف الكلمات التالية:

الاحساء - رأس عبود - فنطاس - الشويخ

| الدولة | محطات تحلية المياه |
|----------|--------------------|
| السعودية | الاحساء |
| قطر | رأس عبود - فنطاس |
| الكويت | الشويخ |

ما الفرق بين مناخ الوطن العربي في فصل الصيف والشتاء؟

| الشتاء | الصيف | المعيار |
|---|---|-----------------------------|
| الواقعة بين خط الاستواء ومدار الجدي | المنطقة الواقعة بين خط الاستواء ومدار السرطان | المنطقة التي تعامد مع الشمس |
| وترتفع الحرارة في جنوب الوطن العربي وتقل كلما اتجهنا شمالا .. | وتنخفض الحرارة أكثر في وسط الوطن العربي (صحراء) ومعتدلة على ساحل البحر المتوسط وشمال الوطن العربي | مميزات المناخ |

النبات الطبيعي في الوطن العربي

أكمل:

- تعرف حشائش الاستبس في بلاد المغرب باسم العلفا .
- يختلف نوع حشائش السافانا حسب كمية الأمطار .

عرف التالي:

النبات الطبيعي: النبات الذي ينمو تلقائيا لسقوط الأمطار دون أن يتدخل الإنسان في نموه.
بما تفسر (علل):

- تنوع النبات الطبيعي في الوطن العربي ج - بسبب نوع التربة والمناخ والامطار
ماهي استخدامات الغابات المدارية: ج - تستخدم اخشابها في البناء وصناعة الأثاث

اذكر:

١ / وسائل مقاومة النبات الصحراوية للجفاف

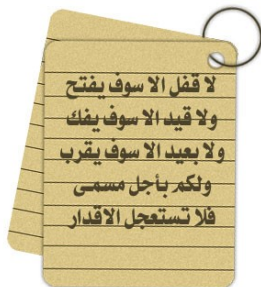
١. جذوره طويلة . ٢. القدرة علي خزن المياه . ٣. يجمي نفسه بلحاء سميك واوراق ابريه.

٢ / أنواع الحياة النباتية في الوطن العربي؟

أ. الغابات ب. الحشائش ج. النباتات الصحراوية

بما تفسر:

اختلاف أنواع حشائش السافانا في دول الوطن العربي . ج - بسبب كمية الامطار





عرف التالي :

- النهر** : مجرى مائي عذب ينحدر على الدوام لينتهي الى البحر أو الى نهر آخر أو ينتهي تدريجياً في الصحراء
المياه الجوفية : هي المياه التي توجد في جوف الأرض (باطن الأرض)
الأفلاج : الماء الجاري (وهو مجرى صغير مائي في الأرض)
البحيرة : مسطح مائي تحيط به اليابسة من جميع الاتجاهات

أكمل العبارات التالية:

- من اهم مصادر المياه في الوطن العربي و تتميز بأنها مياه عذبة فصل تسمى الأنهار
 - تكثر الآبار الجوفية في المناطق الصحراوية عند الواحات
 - أكثر الدول نسبة استخدام للمياه المحلاة هي الكويت بنسبة ٥٥٪
 - أكثر الدول إنتاجاً للمياه المحلاة هي السعودية
- ١٠- اذكر

عدد الطرق التي تتبعها الدول التي تقبل فيها مصادر المياه العذبة مثل دول الخليج العربية و ليبيا
 أ. الاستفادة من مياه البحار المالحة بعد تحليتها . أنشأت محطات كبيرة للتحلية مياه البحر .

| الدولة | محطة تحلية المياه |
|----------|----------------------|
| الكويت | محطة الشويخ ١٩٥٣م |
| السعودية | محطة الاحساء |
| قطر | رأس عبود / ابو فنتاس |

اذكر :

أسباب تدني نسبة المياه

- الطرق التقليدية المستخدمة في استغلال المياه في معظم مناطق العالم العربي
- استخدام الري بالغمر والاستهلاك غير المسؤول في مجالات المياه)
- الشبكات المؤهلة لنقل المياه قديمة
- افتقار الدول العربية الى برامج لإدارة المياه
- عدم استخدام الأدوات الاقتصادية لترشيد الاستخدام المتزايد من المياه .

كيف نحافظ على ثروة المياه ونخفف من المشكلة :

- ١- ترشيد استخدام المياه والحد من التبذير في المنازل
 - ٢- الحد من هدر المياه في عمليات الري وذلك باستخدام الوسائل الحديثة كالرش بالتنقيط والمحوري
 - ٣- تنظيم عملية الاستفادة من المياه الجوفية ومنع تسرب الأملاح الملوثة إليها واستثمارها على الوجه الأمثل.
 - ٤- تطوير استعمال مياه الصرف الصحي المعالجة في الزراعة
 - ٥- إقامة البحيرات والسدود لتجميع مياه الأمطار والسيول للاستفادة منها في فصل الجفاف
 - ٦- توقيع اتفاقيات مع الدول المشاركة ودول المنبع لتحقيق مصالح الدول العربية المعنية.
- أ. صفات الأمطار في الوطن العربي :

- ١- تذبذب كمية الأمطار بين عام و آخر ، كما انها تسقط في أيام معدودة . (مذبذبة)
 - ٢- الأمطار في الوطن العربي تكاد ان تقتصر على الأطراف الشمالية و الأطراف الجنوبية منها . (تسقط بالأطراف)
 - ٣- تتصف الأمطار بأنها قليلة بصفة عامة . (قليلة)
- ولا يستثنى من ذلك سوى المناطق التي تقع من ورائها الجبال كما هو الحال في سواحل المغرب و ساحل لبنان .

بد أشكال مصادر المياه الجوفية
- الآبار - الأفلاج - العيون - الينابيع

| اهم الانهار في الوطن العربي في الجناح الاسيوي | |
|---|----------------------------|
| اسم النهر | الدول العربية التي يمر بها |
| دجلة والفرات | العراق / سوريا |
| نهر العاص | سوريا / لبنان |
| نهر الاردن | الاردن / بلاد الشام |

| اهم الانهار في الوطن العربي في الجناح الافريقي | |
|--|----------------------------|
| اسم النهر | الدول العربية التي يمر بها |
| النيل | مصر / السودان |
| جوبا / شيلي | الصومال |
| مجردة | تونس |
| الشليف | الجزائر |
| أم الربيع / وسوس / ابو رقراق / سبو | المغرب |

الأهمية الحضارية للوطن العربي

عرف التالي :
الحضارة : كل ما يطرأ على المجتمع من تقدم وتطور ويقوم في جميع نواحي الحياة الدينية والسياسية والاقتصادية والاجتماعية والفكرية
حمورابي : هو ملك بابلي.
أوال : هو اسم يطلق على البحرين في مرحلة النشوء الفارسي نسبة إلى صنم أسود أوال كانت تعبده فيبنيوانل التي حكمت البحرين
البعث والخلود : عودة الروح للجسد بعد الموت

اذكر المجالات التي برعت بها حضارت الوطن العربي :

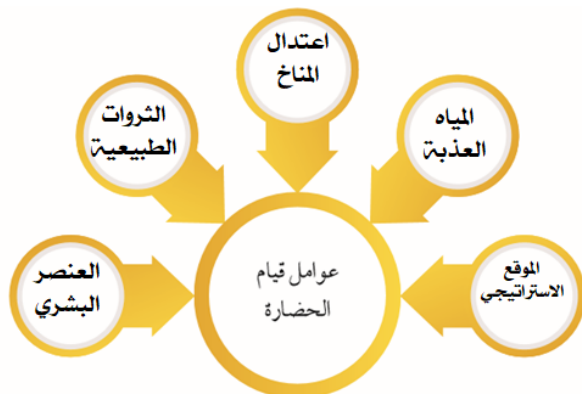
برعت في الفنون والآداب والعلوم وتقدمت في مجالات الزراعة والصناعة والتجارة






بما تفسر (علل)

ازدهار العديد من الحضارات الإنسانية التي استقرت في ربوع الوطن العربي

- نظرا لتوافر مقومات قيام الحضارة

أكمل المخططات التالية:



| | | | | |
|---|---|---|--|---|
|  |  |  |  |  |
| تدمر | معبد باربار | الاهرامات | اسد بابل | سد مأرب |

نماذج من الحضارات القديمة في الوطن

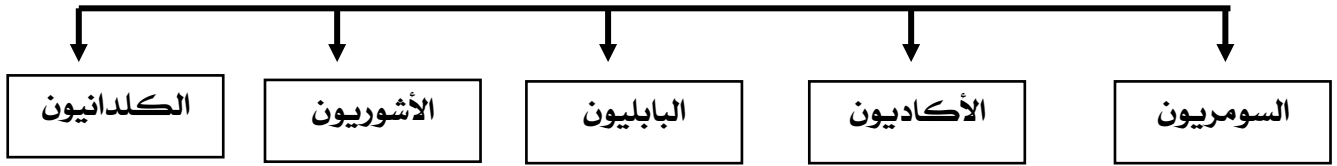
أكمل العبارات التالية: □

١. تعتبر الأهرامات مظهر من مظاهر الحضارة المصرية القديمة
٢. عرفت الكتابة المصرية القديمة باسم الهيروغليفية
٣. اخترع السوريلان نوعاً من الكتابة عرفت باسم الكتابة المسمارية
٤. من أقدم أنواع الكتابة في العالم وجروفها تشبه المسمار تسمى الكتابة المسمارية
٥. تقع دولة حيدر جنوب اليمن
٦. عاصمة دولة حيدر مدينة اسمها قرهاو
٧. أهم الأعمال الشهيرة للملك الحوحد في شكل (الذي إمامك ما يسمى بشريعة حمورابي
٨. تقع دولة سبأ في وسط اليمن
٩. أشهر ملوك سبأ الملك بلقيس
١٠. ظهرت شرائع قانونية قديمة من أهمها شريعة حمورابي في بلاد الرافدين
١١. الخط الذي كانت تكتب به الأبجدية في حضارة جنوب غرب شبه الجزيرة العوبية هو المسند
١٢. يحد حضارة جنوب غرب شبه الجزيرة العربية من جهة الغرب البحر الأحمر
١٣. من أهم معالم دولة سبأ هو سد مأرب
١٤. عرفت دلمون بأنها أرض مقدسة عثر على بقايا معبد باربار.
١٥. سيطرت على بلاد الرافدين خلال تاريخها القديم خمسة شعوب
١٦. عرفت حضارة اليمن الأبجدية وكانت تتكون من (٢٩) حرف
١٧. أشهر ملوك سبأ وورد ذكرها في القرآن (بلقيس)
١٨. أهم المعابد في حضارة دلمون (باربار)
١٩. اشتهر سكان جنوب غرب شبه الجزيرة العربية بالمشاريع الزراعية
٢٠. قامت دلمون وسط حضارات الشرق القديم وكانت تسمى قبل الفتح الإسلامي باسم أول.
٢١. يطلق اسم بلاد الرافدين أو بلاد ما بين النهرين على دولة عربية تسمى العراق
٢٢. الورق المستخدم في الكتابة عند المصريين يسمى ورق البردي

بما تفسر: □

اهتمام المصريون بتحنيط الجثث وبناء المقابر ج- لإيمانهم بمعتقدات البعث والخلود
- عدد العلوم والفنون التي برعوا فيها المصريون القدماء الفلك - النحت - الطب - الكيمياء

أهم الحضارات التي قامت في بلاد الرافدين



اكتب سبب ونتيجة لكل من :

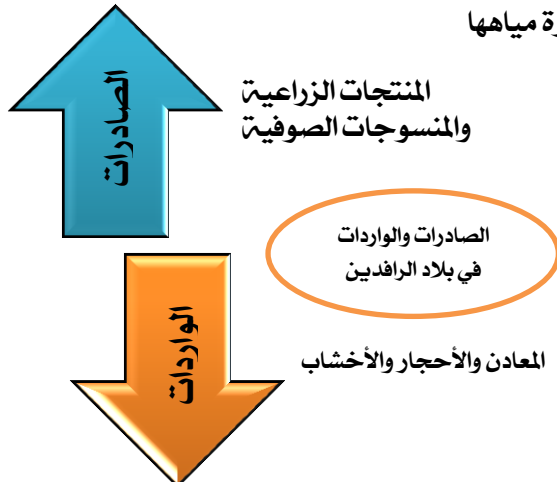
- نهر النيل ===== أدى الى الربط بين أجزاء البلاد من الشمال الى الجنوب وساعد على الاستقرار
- اعتدال المناخ === ادى الى المحافظة على التراث من التلف
- تنوع الصخور والمعادن ===== ساعد على نحت التماثيل وبناء المعابد
- امتداد الصحراء ===== جعل الحضارة المصرية في أمن وحماية الطبيعة

ملخص مقارنة بين الحضارات

| حضارة دلمون | حضارة بلاد اليمن | حضارة بلاد الرافدين | حضارة المصرية القديمة | مقومات قيام الحضرة |
|--|-------------------|-----------------------------|--|---|
| المياه العذبة | المياه الجوفية | نهرى مجللة والفرات | نهر النيل | مصادر المياه العذبة |
| خصوبة التربة الأسماك - اللؤلؤ | خصوبة التربة | خصوبة التربة | امتداد الصحراء التربة الصخور - المعادن | توافر الثروات الطبيعية |
| الزراعة / التجارة البحرية صيد الاسماك | التجارة - الزراعة | الزراعة - الصناعة - التجارة | الزراعة - الصناعة - تربية الباشية | أهم المظاهر الحضارية الحياة الاقتصادية |
| | | اعتدوا تطبيق شرائع حمورابي | أمنو بفكرة البعث والخلود | المعتقدات الدينية |
| البناء - النحت | | الهندسة - الحساب - الفلك | الطب - الفلك - الكيمياء - التحنيط - النحت - الكتابة - البناء | العلوم والفنون |
| | الكتابة الابجدية | الكتابة المسمارية | الكتابة الهيروغليفية | الكتابة |

بما تفسر (علل) :

عرف سكان بلاد الرافدين الزراعة بسبب خصوبة تربتها وسعة سهولها ووفرة مياهها ما الجهود التي قام بها سكان بلاد الرافدين في مجال الزراعة ؟
ما العوامل التي ساعدت على قيام الزراعة في بلاد الرافدين ؟
أقاموا السدود على الأنهار ب / وجففوا المستنقعات واستصلحوا الأراضي
من هي المنتجات التجارية الواردة والمصدرة من والى بلاد الرافدين ؟



ماهي دلالات الصور

الصناعة في بلاد الرافدين



+



العلوم والفنون في بلاد الرافدين



+



آثار حضارة دلمون



+



لاحظ الصورة التالية ثم اجب عما يلي:

١- اسم الشخصية في الصورة؟

الملك البابلي "حمورابي"

٢- ما أهم ما اشتهر به؟ وما عددتها؟

شرائع حمورابي / ٢٨٢ مادة قانونية

٣- ما المبدأ الذي اعتمد عليه؟

((السن بالسن والعين بالعين))

٤- ما أثر تطبيق الشرائع؟

أدى إلى انتشار الأمن والأمان في البلاد

اقرأ لفقرة التالية ثم اجب على الاسئلة التي تليها :

" اخترع السومريون نوعاً من الكتابة عرفت باسم الكتابة المسمارية وتعتبر هذه الكتابة من أقدم أنواع الكتابة في العالم وحروفها تشبه المسمار وتكتب على الواح من الطين الطري بواسطة أقلام تشبه المسمار وعددها ٦٠٠ حرفاً ."

| | | | |
|---|---|----|---|
| 𐎶 | 𐎠 | 𐎡 | 𐎢 |
| خ | ج | ب | أ |
| 𐎣 | 𐎤 | 𐎥 | 𐎦 |
| ط | ح | ز | و |
| 𐎧 | 𐎨 | 𐎩 | 𐎪 |
| ذ | م | ل | ش |
| 𐎫 | 𐎬 | 𐎭 | 𐎮 |
| ص | ف | ع | س |
| 𐎯 | 𐎰 | 𐎱 | 𐎲 |
| ض | ت | غ | ث |
| 𐎳 | 𐎴 | 𐎵 | 𐎶 |
| ك | ي | هـ | د |
| 𐎷 | 𐎸 | 𐎹 | 𐎺 |
| ر | ق | ظ | ن |

١- عرف ما تحته خط ؟

.....نوع من الكتابة اخترعه السومريون

٢- ماهي الأدوات المستخدمة في الكتابة المسمارية؟

.....المسمار.....

٣- كم يبلغ عدد حروفها؟

.....٦٠٠ حرف

فرق بين ممالك بلاد اليمن من حيث العاصمة والموقع



| الدولة | معيين | سبأ | حمير |
|---------|-------------------|-----------|--------------|
| عاصمة | قرناو | مأرب | ريدان |
| الموقع | شمال اليمن | وسط اليمن | جنوب اليمن |
| المعالم | مدينة يثل الدينية | نقش سبأ | مائدة قرايين |

قال الله تعالى { إنني وجدت امرأة تملكهم وأوتيت من كل شيء ولها عرش عظيم } النمل آية ٢٢
من هي الملكة التي ذكرت بالآية السابقة؟ الملكة بلقيس.....
ما أسم الملكة التي حكمتها سبأ.....
في أي دولة تقع: اليمن.....

دلل على صحة العبارة **مدري**
اشتهر سكان جنوب عرب شبه الجزيرة العربية بالمشاريع الزراعية

١. قاموا ببناء السدود والخزانات وأشهرها سد مأرب، نظموا عمليات الري
٢. من أشهر منتجاتها الزراعية (الموز - الباذنجان - القرع)

بما تفسر (علل):

✓ أهل اليمن أسياذ التجارة العربية

١. لأنهم سيطروا على الطرق التجارية
٢. امتدت تجارتهم بين شمال شبه الجزيرة العربية وجنوبها
٣. وجود تبادل تجاري مع الحضارات المجاورة لها

✓ تعتبر حضارة (دلمون) مركز مهما للمواصلات البحرية

١. لأنها تقع وسط حضارات الشرق القديم وبحكم موقعها وسط الخليج العربي
٢. تعتبر مركز ما بين البلدان المطلية على الخليج العربي والحضارات المجاورة

الوطن العربي مهد الديانات السماوية

أكمل:

- ✓ نزل القرآن الكريم على سيدنا محمد صلى الله عليه وسلم عام ٦١٠ م في مكة المكرمة
- ✓ الكتاب الذي تكفل الله سبحانه وتعالى بحفظه من التحريف والتغيير يسمى القرآن الكريم

عرف:

الديانة اليهودية: هي التي نزلت على سيدنا موسى عليه السلام وكتابتها التوراة

الديانة المسيحية: هي التي نزلت على سيدنا عيسى بن مريم عليه السلام وكتابتها الإنجيل

الديانة الإسلامية: يعتبر الإسلام خاتمة الرسالات السماوية ونزل القرآن الكريم على سيدنا محمد صلى الله عليه وسلم في مكة المكرمة

ما هي نتائج وجود الديانات السماوية الثلاث التي انتشرت في أنحاء العالم في الوطن العربي؟
أكسبه مكانة روحية مقدسة

صنف الأسماء التالية في مكانها الصحيح في الجدول التالي:

• (الإنجيل - موسى - القرآن الكريم - عيسى - التوراة - محمد)

| • الدين | • الكتاب | • النبي |
|------------|---------------|----------|
| • الإسلام | القرآن الكريم | محمد (ص) |
| • المسيحية | الانجيل | عيسى |
| • اليهودية | التوراة | موسى |



ثالثا: اذكر أشهر المعالم الدينية حسب الصور في الجدول التالي

| | | |
|----------------------------------|--------------------------------------|---|
| اسم المعلم الديني المسجد الحرام | اسم الدولة: المملكة العربية السعودية |  |
| اسم المعلم الديني: المسجد النبوي | اسم الدولة: المملكة العربية السعودية |  |
| اسم المعلم الديني: المسجد الأقصى | اسم الدولة: فلسطين |  |

فرق بين كل من:

| | |
|---|-------------------------|
| أسس قيام الحضارة الإسلامية | مواد الحضارة الإسلامية |
| فالصلاة في نظامها ومواقفها والصوم والزكاة التي تحقق التكافل الاجتماعي | الشورى والعدل والمساواة |

صل بين الصورة والكلمة:

| | | |
|---|---|-----------------|
|  | ٢ | ١- مسجد قرطبة |
|  | ٣ | ٢- قصر الحمراء |
|  | ١ | ٣- جامع المنصور |

بما تفسر (علل)

عاشت أوروبا قبل القرن ١٠ الميلادي في عصور الظلام ج- بسبب سيطرة الكنيسة

انتقال الحضارة العربية الإسلامية إلى أوروبا عن طريق

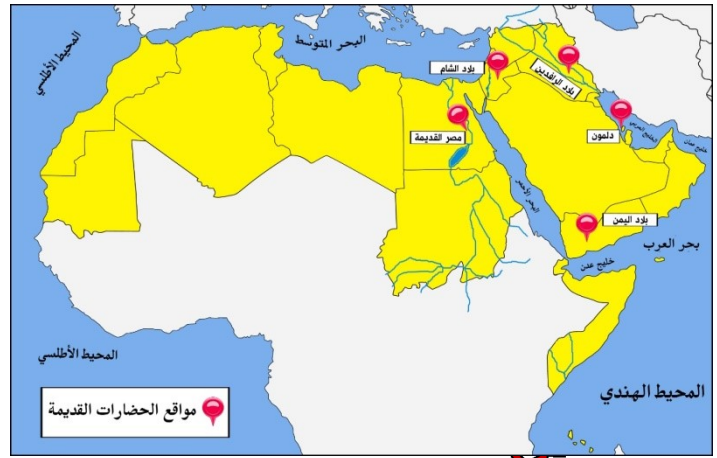
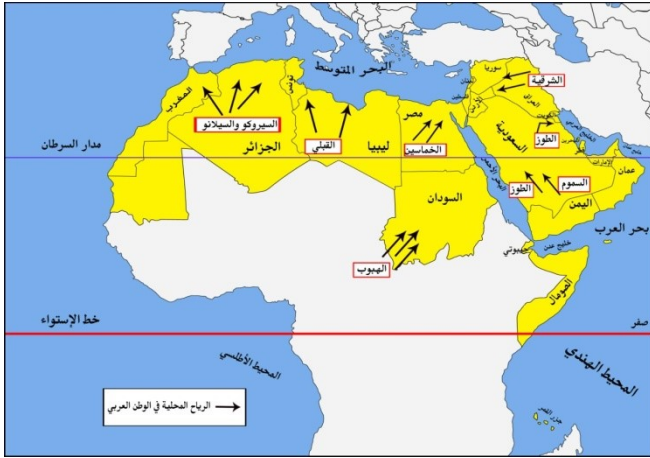
بلاد الشام

جزيرة صقلية

بلاد الأندلس

الخرائط:

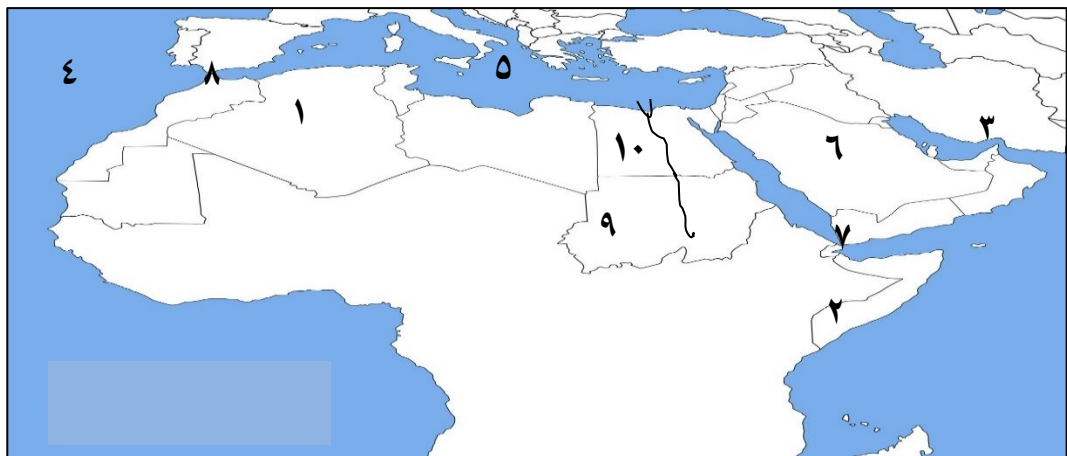
أماكن الدول العربية / المسطحات المائية / أماكن الحضارات / أسماء الرياح / التضاريس



الخريطة

س ١ : على خريطة الوطن العربي الصماء نفذ ما يلي

- يشير رقم (١) إلى أكبر الدول العربية في الجناح الأفريقي تسمى .. الجزائر
- يشير رقم (٢) إلى دولة تسمى .. السودان
- يشير رقم (٣) إلى موقع جبل يسمى .. الأخضر ...
- يشير رقم (٤) إلى مسطح مائي يسمى .. المحيط الأطلسي
- يشير رقم (٥) إلى مسطح مائي يسمى .. البحر المتوسط ..
- يشير رقم (٦) إلى موقع هضبة تسمى .. نجد ...
- يشير رقم (٧) إلى موقع مضيق يسمى .. باب المندب ...
- يشير رقم (٨) إلى موقع مضيق يسمى .. جبل طارق ...
- يشير رقم (٩) إلى موقع جبل يسمى .. مره ..
- يشير رقم (١٠) إلى موقع نهر يسمى .. النيل ..



للربط السريع (تجميع أهم المعلومات للدولة الواحد وتحدد على الخريطة)
 مثال مصر: (موقعها - نهر النيل - قناة السويس - الحضارة المصرية القديمة - رياح الخماسين
 السودان (موقعها - رياح الهبوب - جبال مرة - دولة عربية تم تقسيمها حديثا)
 اليمن (حضارة بلاد اليمن - سد مأرب)

