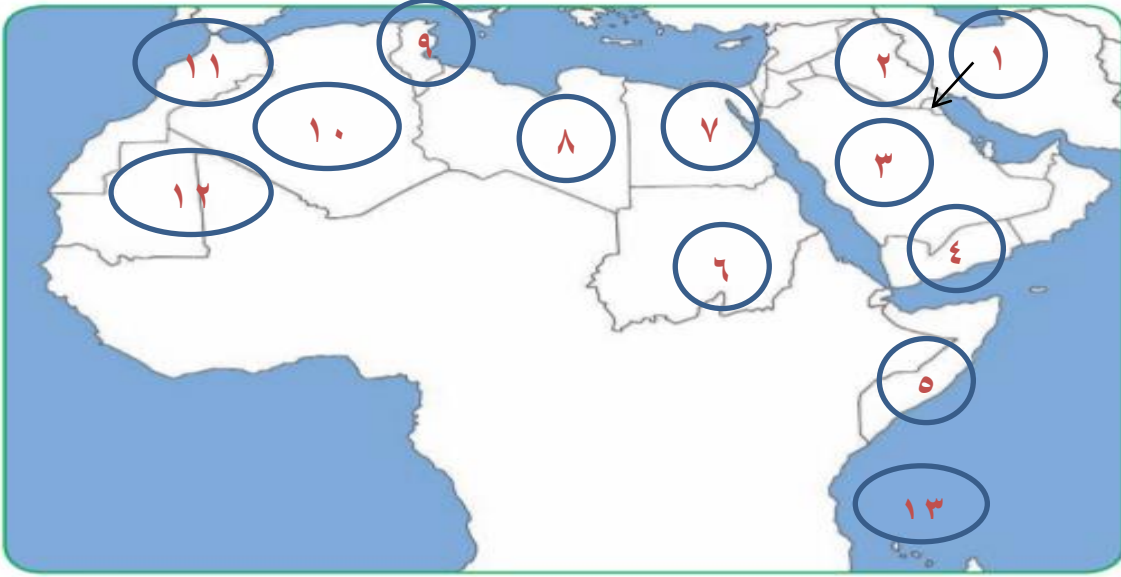


## تدريبات على الخريطة ( الصف السابع )

س/اكتب اسماء بعض الدول العربية حسب الرقم على الخريطة الصماء للوطن العربي

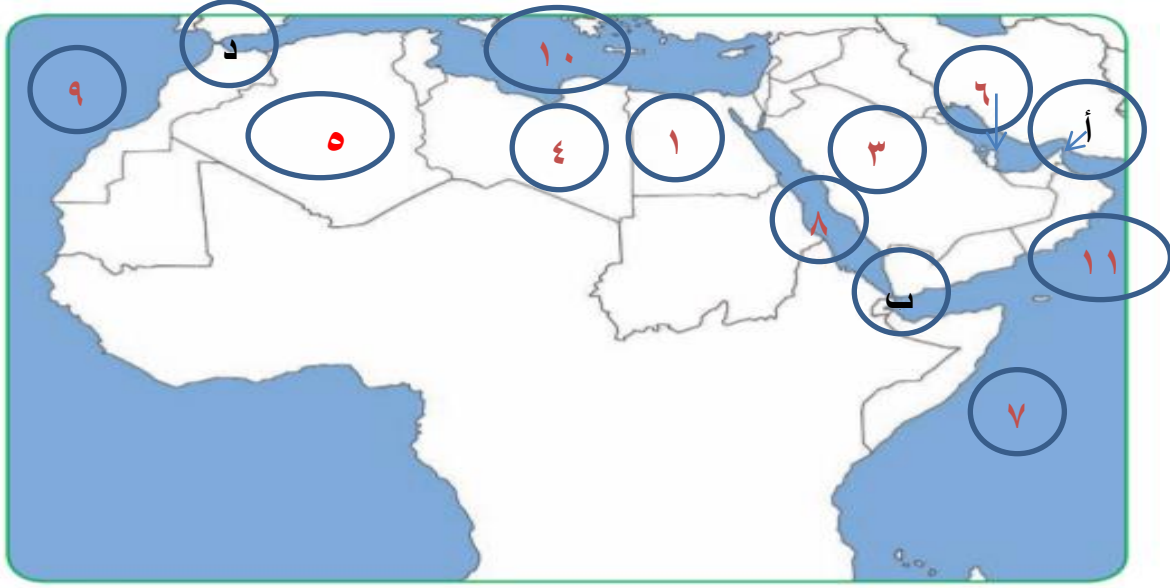


- \*الرقم ١ يمثل دولة عربية اسمها .....
- \*الرقم ٢ يمثل دولة عربية اسمها .....
- \*الرقم ٣ يمثل دولة اسمها .....
- \*الرقم ٤ يمثل دولة اسمها .....
- \*الرقم ٥ يمثل دولة اسمها .....
- \*الرقم ٦ يمثل دولة اسمها .....
- \*الرقم ٧ يمثل دولة اسمها .....
- \*الرقم ٨ يمثل دولة اسمها .....
- \*الرقم ٩ يمثل دولة اسمها .....
- \*الرقم ١٠ يمثل دولة اسمها .....
- \*الرقم ١١ يمثل دولة اسمها .....
- الرقم ١٢ يمثل دولة .....
- الرقم ١٣ يمثل دولة عربية تقع خارج نطاق الوطن العربي هي .....

س٢/أكتب اسماء الدول الباقية

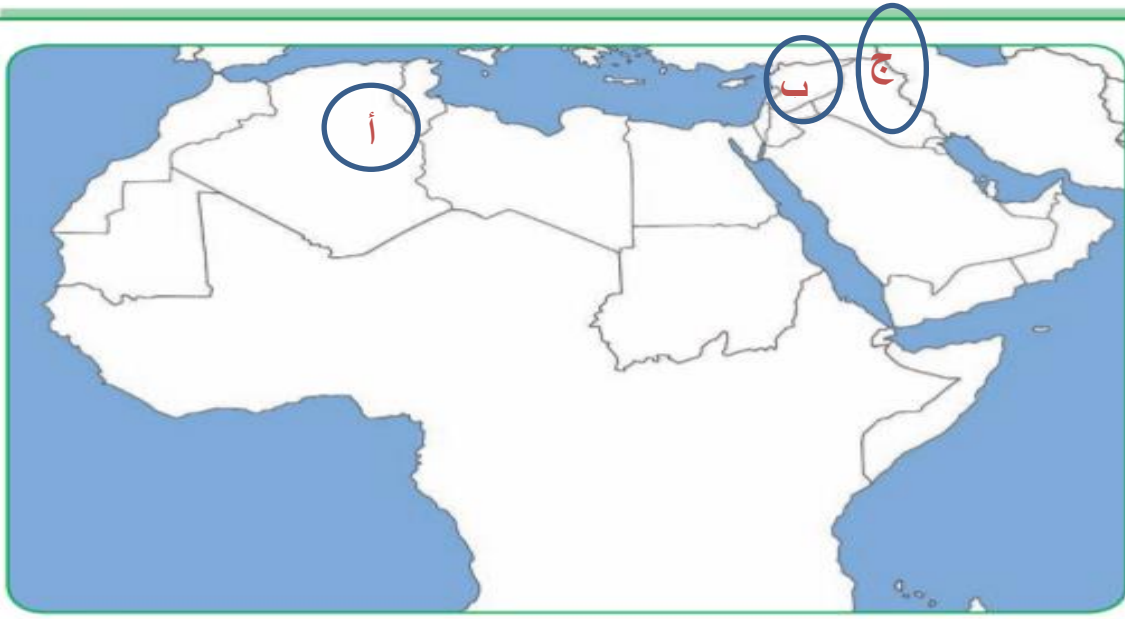
- ١.....
- ٢.....
- ٣.....
- ٤.....
- ٥.....
- ٦.....
- ٧.....
- ٨.....
- ٩.....
- ١٠.....
- ١١.....





## س ٢ / امامك خريطة صماء للوطن العربي للونن العربي اكتب مدلولات الارقام والحروف



- أكبر الدول العربية مساحة بالجنح الافريقي يمثلها الرقم .....
- أكبر الدول العربية مساحة بالجنح الاسيوى يمثلها على الخريطة الرقم .....
- البحر الاحمر يمثله الرقم .....
- البحر المتوسط يمثله الرقم .....
- المحيط الاطلسى يمثله الرقم .....
- الخليج العربي يمثله الرقم .....
- المحيط الهندى يمثله الرقم .....
- مضيق هرمز يمثله على الخريطة الحرف .....
- مضيق جبل طارق يمثله على الخريطة الحرف .....
- مضيق باب المندب يمثله على الخريطة الحرف .....


س/ امامك خريطة صماء للوطن العربي نفذ عليها ما يطلب منك:-



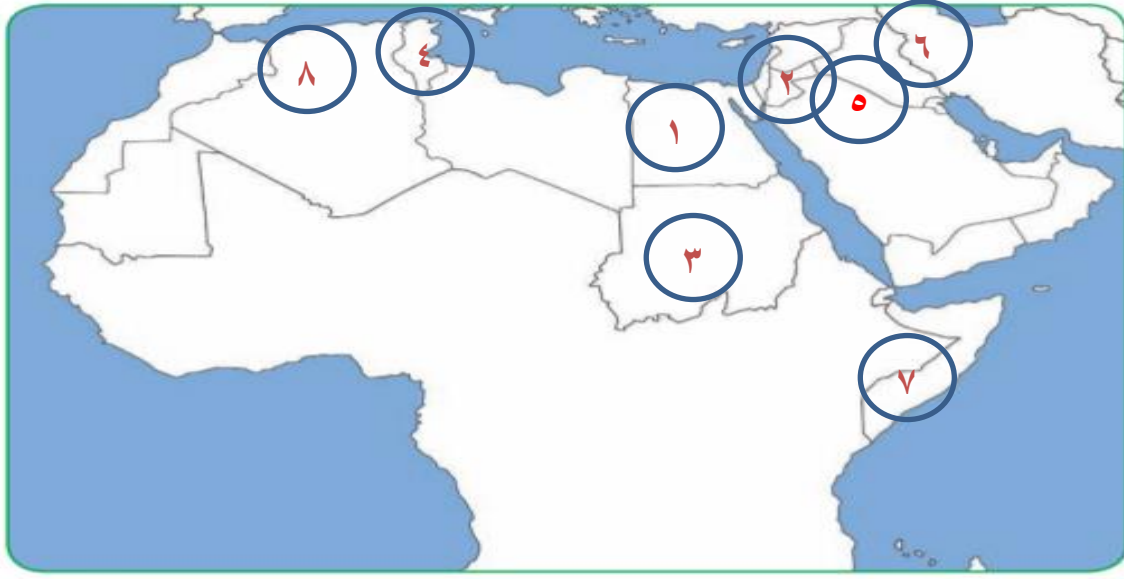
- أكتب جبال الحجاز في مكانها الصحيح على الخريطة
- ضع الرمز  في المكان الصحيح لهضبة نجد
- ضع الرمز  في المكان الصحيح لجبال مرة
- أكتب اسم الجبل الاخضر في الدولتان العربيتان اللتان يوجد بهما
- ظلل جبال الاطلس بالشكل ده 
- ظلل جبال الاحجار بالشكل ده 
- اكتب اسم جبال تبستي في مكانها الصحيح
- جبل قاسيون يمثله على الخريطة الحرف .....
- أكتب اسم جبال البحر الاحمر الشرقية على الخريطة
- جبل شيخا دار يمثله على الخريطة الحرف .....

س/ نفذ الأتى على الخريطة التالية



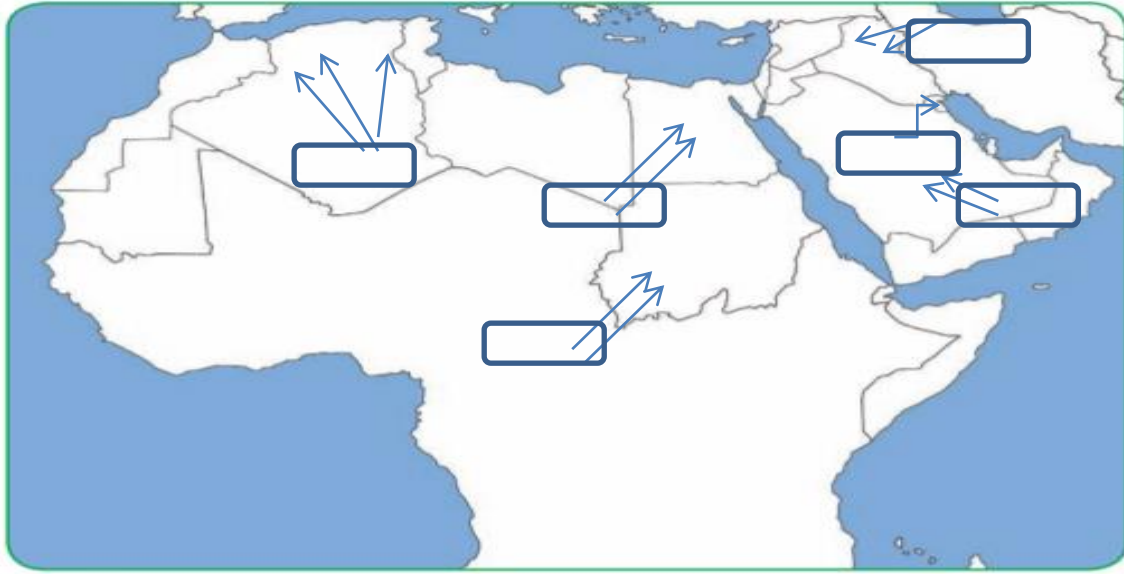
- أكتب اسم هضبة نجد بالمكان الصحيح على الخريطة
- (ظلل) ضع الرمز  على هضبة الصحراء الكبرى (شمال افريقيا)
- هضبة بلاد الشام يمثله الحرف .....
- هضبة الشطوط يمثله الحرف .....
- ارسم خط جرينتش في مكانه الصحيح على الخريطة

س/ امامك خريطة صماء للوطن العربى اكتب مدلولات الارقام التى عليها



- الدولتان العربيتان اللتان يمر بهما نهر النيل يمثلهما الرقمان ..... و .....
- نهر دجلة يمثلته على الخريطة الرقم .....
- نهر الفرات يمثلته الرقم .....
- نهري جوبا وشبلى في دولة عربية يمثلها على الخريطة الرقم .....
- نهر المجردة يمثلته الرقم .....
- نهر الشليف يمثلته الرقم .....
- نهر الاردن يمثلته الرقم .....
- الخليج العربى يمثلته الرقم .....
- ظلل سهول البحر الاحمر الغربية بالرمز //////////////
- ظلل سهول الخليج العربى //////

س/ امامك خريطة صماء للوطن العربي اكتب اسماء الرياح المحلية



- ١- اكتب اسم رياح الخماسين في المكان الصحيح
- ٢- اكتب اسم رياح الطوز في المكان الصحيح
- ٣- اكتب اسم رياح الشرقية في المكان الصحيح
- ٤- اكتب اسم رياح السموم في مكانها الصحيح
- ٥- اكتب اسم رياح السيركو والسيلانو في مكانها الصحيح
- ٦- اكتب اسم رياح الهبوب في مكانها الصحيح

س / اكتب اسماء الحضارات القديمة بالوطن العربي في مكانها الصحيح على الخريطة

